

درس‌نامه + پرسش‌های چهارگزینه‌ای + پاسخ‌های کاملاً تشریحی

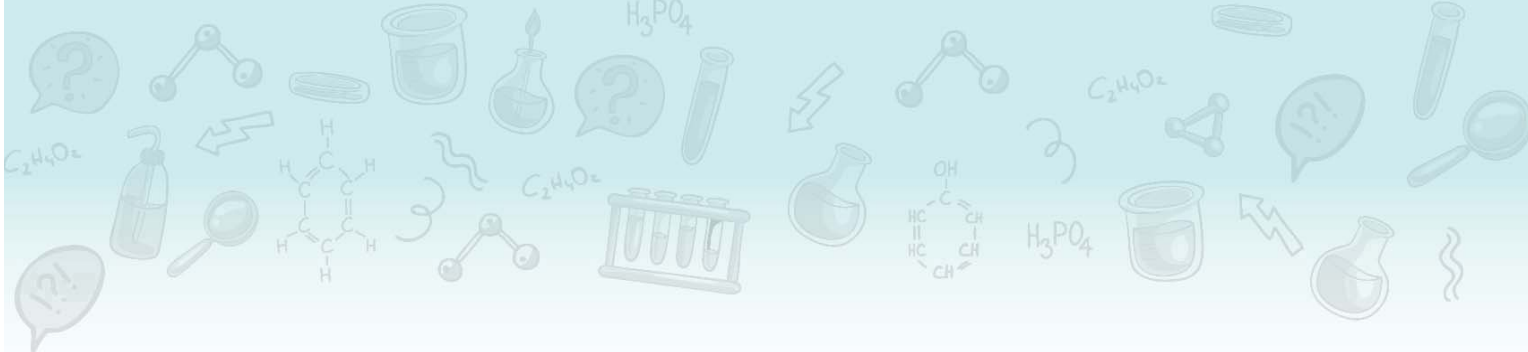
شیمی ۱ (یازدهم)

مسعود جعفری، امیرحسین معروفی

کاملاً
جدید



انتشارات
انگوه



مقدمه مولف

دانش‌آموزان پایه یازدهم و همکاران گرامی، سلام.

خیلی از دانش‌آموزان یاد گرفتن شیمی برایشون سخت و نفس‌گیر و گاهی هم ناامیدکننده است، بعضی‌ها فکر می‌کنند در یادگیری شیمی استعداد ندارند و کلاً ناامید میشن؛ اما باید بگیریم که در ۹۹٪ مواقع، ایراد از شما نیست و ایراد از منابعی‌ست که انتخاب کردید... .

خیلی خلاصه، برای رسیدن به درصدهای بالا در آزمون‌های آزمایشی و کنکور، گاهی باید سؤالات شمارشی رو حل کنید و گاهی دیگه باید مسائل رو در یک یا دو مرحله حل کنید و بعضی وقتا هم باید یاد بگیرید که چجوری جاخالی بدین 😊 و کلی تکنیک دیگه که در این کتاب قراره با هم یاد بگیریم.

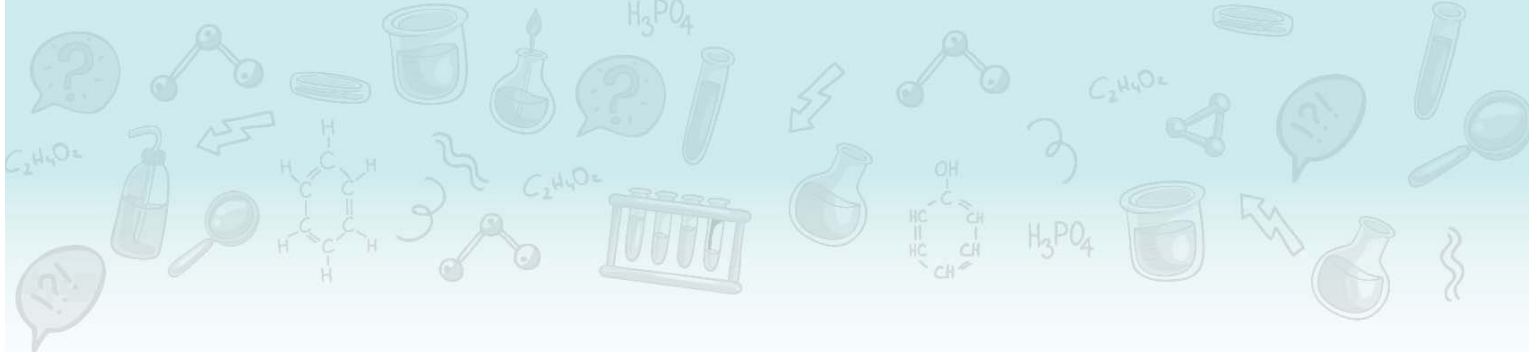
یه تجربه تلخ اینکه؛ متأسفانه هر ساله خیلی از دانش‌آموزان با داشتن مطالعه زیاد و مداوم شیمی، در نهایت درصد خوبی در آزمون‌های تستی و کنکور کسب نکرده‌اند؛ در مورد این عزیزان همیشه گفت که شیمی بلد نیستن؛ چرا که وقتی چندتا سوال ازشون می‌پرسیم، به خوبی مباحث رو توضیح میدن. خب پس مشکل کارشون کجاست؟!؟

به نظر میرسه که مشکل این عزیزان مطالعه زیاد درسنامه‌های طولانی و بی‌بازده است که برای آن‌ها فرصتی برای حل تست نمی‌گذارد و حتی اگه به حل تست هم برسند، تست‌ها به قدری ضعیف و غیراستاندارد هستند که یا مشابه آن‌ها در کنکور مطرح نمیشه و یا سال‌هاست منسوخ شده. در یک جمله: «این عزیزان هوشمندانه درس نخونده‌اند». خب حالا باید چکار کرد؟!؟

در کنار داشتن یک دبیر باتجربه و همچنین داشتن یک برنامه منظم و حساب‌شده برای درس شیمی، داشتن یک کتاب خوب، بسیار لازم و ضروری است. منظورمون از کتاب خوب، کتابی نیست که درسنامه‌های طولانی، تست‌های زیاد و بی‌فایده با پاسخ‌های تشریحی طولانی داشته باشد که وقت باارزش شما رو تلف کند. سال‌هاست که تلاش کردیم برای دانش‌آموزانمون در کلاس‌های حضوری، این تعادل (مطالعه درسنامه، حل انواع تست‌ها و...) رو ایجاد کنیم و امیدوار بودیم که بتونیم روزی این کار رو برای همه دانش‌آموزان کشور هم انجام بدیم که به لطف خدا امکان‌پذیر شد.

کتابی که پیش روی شماست، کتاب «جامع شیمی دهم» است که هدف از تألیف آن، همراهی و راهنمایی شما در مطالعه هوشمندانه درس شیمی است. در ادامه چند نمونه از ویژگی‌های این کتاب رو آوردیم:

- ۱ هر فصل، بر اساس حجم، اهمیت و نوع تست‌ها به چند بخش تقسیم شده تا بتوانید مطالب را با تمرکز بیشتری مطالعه کنید و با مطالعه چند صفحه درسنامه، بتوانید خیلی سریع به سراغ تست‌ها بروید.
- ۲ در درسنامه، مطالب مهم در قالب «توجه» و «کادر نکته» آورده شده است. حتی برخی قسمت‌هایی که به نظرمون رسیده که ممکنه شما مطلبی رو اشتباه متوجه شوید، با عنوان «اشتباه نکنید» و «توضیح»، سعی کردیم مانع از اشتباه شما شویم.
- ۳ از قدیم گفتن یکی از کارهای کتاب جامع، جمع بندی مطالب است. برای همین در درسنامه‌های این کتاب، هر جا لازم بوده براتون کادر جمع‌بندی آوردیم.
- ۴ از درسنامه که بگذریم، می‌رسیم به تست‌ها! در تست‌ها تمام نکات کتاب درسی و کنکوری مطرح شده است. هر بخش، با تست‌های ساده شروع می‌شود و به تست‌های «سطح دوم» می‌رسیم که یا دشوار هستند و یا ایده‌نو و جدیدی دارند.



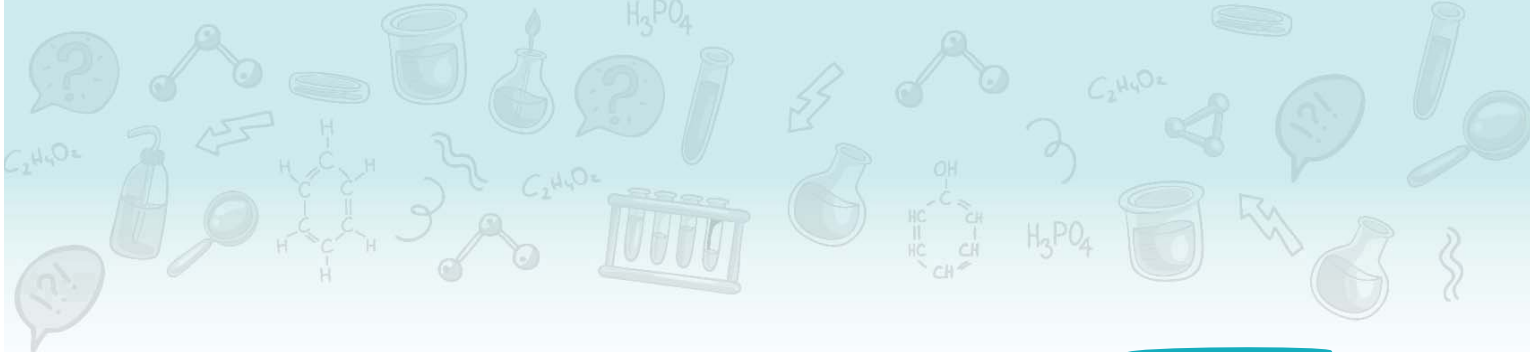
- ۵ با توجه به تست‌های مطرح شده در کنکورهای سال‌های اخیر که تعداد زیادی از آن‌ها شمارشی ۴ یا ۵ موردی هستند، بخش زیادی از تست‌های مفهومی این کتاب، از نوع شمارشی ۴ یا ۵ موردی هستند؛ پس با حل تست‌های این کتاب، حل تست‌های شمارشی کنکور براتون، ممکن خواهد شد.
- ۶ خیلی از دانش‌آموزان بیان می‌کنند که یکی از کسل‌کننده‌ترین کارها، مطالعهٔ پاسخنامهٔ تشریحی تست‌ها است. برای همین سعی کردیم پاسخ تست‌ها رو به شکلی بنویسیم که مطالعهٔ آن‌ها ساده و البته موثر باشد. ضمناً در پاسخنامه، کادرهای نکات و نکات ترکیبی آورده شده که با مطالعهٔ آن‌ها کلی از مطالب مهم و ترکیبی رو یاد می‌گیرید.
- ۷ اگه فکر کردید که ما شما رو در تقابل با مسائل و انجام محاسبات ریاضی اون‌ها تنها می‌ذاریم، سخت در اشتباه هستید، چون در پاسخنامهٔ مسائل، ترفندهای محاسباتی مثل «تخمین زدن»، «ساده کردن بدون توجه به صفر و اعشار» و ... رو آوردیم که با بررسی آن‌ها سرعت انجام محاسباتون هم بیشتر می‌شه.

کلام آخر: کتاب ما، قطعاً ماحصل یک کار گروهی و منسجم بوده است. بدون یاری و مهربانی و دقت دوستانی که در زیر نامشان را می‌آوریم، قطعاً کار ما به سرانجام نمی‌رسید:

- از دانشجویان بادقت که از نخبگان کشور هستند، خانم ترنم توکلی (رتبهٔ ۱۰ کنکور ۱۴۰۱)، آقایان عرشیا شفیعی (رتبهٔ ۷۶ کنکور ۱۴۰۱)، سید علی موسوی فرد، مهدی شفیعی سروستانی، علی کرم‌پورمحمدآبادی، کارو محمدی و آرمین عظیمی که ویراستاری و نمونه‌خوانی کتاب بر عهدهٔ آن‌ها بود، سپاسگزاریم.
- از واحد تألیف انتشارات الگو به سرپرستی خانم ستین مختار، در فرایند تهیهٔ کتاب و خانم مریم احمدی که در فرایند صفحه‌آرایی کتاب، زحمات زیادی کشیدند، سپاس ویژه و از تلاش و پیگیری بی‌وقفهٔ آن‌ها کمال تشکر را داریم.

سربلند و اثرگذار باشید

جعفری، معروفی



فهرست مطالب

شیمی یازدهم

◎ فصل اول - قدر هدایای زمینی را بدانیم

۲	بخش اول
۲۴	بخش دوم
۳۸	بخش سوم
۵۷	بخش چهارم
۷۸	بخش پنجم

◎ فصل دوم - در پی غذای سالم

۱۰۲	بخش اول
۱۲۰	بخش دوم
۱۳۷	بخش سوم
۱۵۸	بخش چهارم
۱۷۴	بخش پنجم
۲۰۳	بخش ششم

◎ فصل سوم - پوشاک، نیازی پایان‌ناپذیر

۲۳۰	بخش اول
۲۵۰	بخش دوم
۲۶۵	بخش سوم
۲۸۳	بخش چهارم

◎ فصل چهارم - پاسخ‌های تشریحی

۲۹۶	پاسخ تشریحی (فصل اول)
۳۸۳	پاسخ تشریحی (فصل دوم)
۴۹۴	پاسخ تشریحی (فصل سوم)
۵۵۴	پاسخ‌نامه کلیدی

فصل دوم در پی غذای سالم

بخش اول

در این بخش قراره مطالب زیر رو یاد بگیرید:

- در پی غذای سالم
- ظرفیت گرمایی و ظرفیت گرمایی ویژه
- دما، انرژی گرمایی و گرما
- جاری شدن انرژی گرمایی

در پی غذای سالم



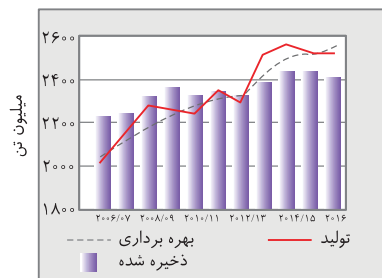
- ۱ دانشمندان اجزای بنیادی جهان مادی را ماده و انرژی می‌دانند. *احتمالاً می‌دانید* که ماده و انرژی طبق رابطهٔ اینشتین ($E=mc^2$) به یکدیگر تبدیل می‌شوند. برای نمونه کاهش جرم خورشید به‌عنوان تنها منبع حیات بخش انرژی، تبدیل ماده به انرژی را تأیید می‌کند.
- ۲ جانوران برای انجام فعالیت‌های خود، اغلب نمی‌توانند به‌طور مستقیم از انرژی خورشید استفاده کنند و باید از منابعی بهره بگیرند که در دسترس‌تر و نزدیک‌تر باشند و بتوانند با تغییرهای فیزیکی و *به‌ویژه واکنش‌های شیمیایی*، انرژی مورد نیاز خود را از آن‌ها تأمین کنند.

مثال سوختن سوخت‌ها و گوارش غذا در بدن نمونه‌هایی از روش‌های تأمین انرژی توسط انسان‌ها است. *اما به نظرتون این چه ارتباطی با خورشید داره؟* در پاسخ باید بگوییم که انرژی ذخیره شده در سوخت‌ها و گیاهان از خورشید تأمین می‌شود؛ از این‌رو می‌توان گفت انرژی لازم برای انجام همهٔ فعالیت‌ها در کرهٔ زمین به‌طور مستقیم یا غیرمستقیم از خورشید تأمین می‌شود.

📢 حالا که موافقین بریم سراغ چند اطلاعات عمومی در مورد غذا و تأمین آن 😊

۳ تأمین غذای مناسب برای مردم جهان بسیار با اهمیت است و افزایش جمعیت جهان عامل تعیین‌کننده‌ای برای تأمین غذا است؛ به طوری که *امروزه* تأمین غذای حدود ۷/۵ میلیارد نفر ساکن کرهٔ زمین بسیار پیچیده و دشوار است و سالانه باید حجم انبوهی از غلات، حبوبات، مواد پروتئینی و ... تولید شود.

۴ نمودار روبه‌رو، میزان تولید، بهره‌برداری و ذخیرهٔ جهانی غلات را در دههٔ اخیر نمایش می‌دهد. **الف** *با توجه به نمودار*، سالانه مقدار انبوهی از غلات تولید و بهره‌برداری می‌شوند، به طوری که در سال‌های اخیر میزان تولید و مصرف غلات به شدت افزایش یافته و روند آن رو به افزایش است. **توجه** *میزان بهره‌برداری از یک محصول شامل مصرف مستقیم و فرآوری آن به شکل‌های گوناگون است. هر چه میزان تولید غلات بیشتر باشد، مقدار ذخیرهٔ آن افزایش می‌یابد؛ به شرط آن که مقدار تولید از مقدار بهره‌برداری بیشتر باشد.*



۵ پژوهش‌ها و یافته‌های تجربی نشان می‌دهند که غذا در بدن ما دو نقش اساسی ایفا می‌کند:

- نقش اول: تأمین انرژی مورد نیاز بدن برای حرکت ماهیچه‌ها، ارسال پیام‌های عصبی، جابه‌جایی یونها و مولکول‌ها از دیوارهٔ هر سلول (*یافته*).

- نقش دوم: فراهم کردن مواد اولیه برای ساخت و رشد بخش‌های گوناگون بدن مانند سلول‌های خونی، استخوان، پوست، مو، ماهیچه‌ها، آنزیم‌ها و ...
- توجه** *همهٔ فرایندهایی که در بلاگفتیم وابسته به انجام واکنش‌های شیمیایی هستند که هر یک سرعت (آهنگ) ویژه‌ای دارند. ضمناً این واکنش‌ها دمای بدن را نیز کنترل و تنظیم می‌کنند.*

۶ غذاها محتوی ذره‌های گوناگونی هستند که بخش عمدهٔ اتم‌ها، مولکول‌ها و یون‌های موجود در بدن از مصرف آن‌ها تأمین می‌شود. بنابراین تغذیهٔ درست شامل وعده‌های غذایی است که مخلوط مناسبی از انواع ذره‌ها را در برمی‌گیرد و سوء تغذیه هنگامی رخ می‌دهد که وعده‌های غذایی با کمبود نوع خاصی از آن‌ها همراه باشد.

توجه *افزایش نامتناسب برخی مولکول‌ها و یونها در وعده‌های غذایی نیز سبب افزایش وزن و دیگر بیماری‌ها خواهد شد. پس هواستون باشه که غذا زیاده هم خوب نیست!*

۷ سرانهٔ مصرف یک مادهٔ غذایی، مقدار میانگین مصرف آن را به ازای هر فرد در یک گسترهٔ زمانی معین نشان می‌دهد. در کشور ما سرانهٔ مصرف نان، برنج، شکر، نمک خوراکی و روغن بیشتر از سرانهٔ مصرف جهانی آن‌هاست. در مورد مصرف برخی مواد غذایی، به سه نکتهٔ زیر توجه کنید:

- الف** دیابت بزرگسالی یکی از بیماری‌های شایع در ایران است که مصرف بی‌رویهٔ نان، برنج، شکر و روغن (چربی) در گسترش این بیماری نقش دارد.
- ب** گوشت قرمز و ماهی افزون‌بر پروتئین، محتوی انواع ویتامین و مواد معدنی است.
- پ** شیر و فرآورده‌های آن، منبع مهمی برای تأمین پروتئین و به‌ویژه کلسیم است. کارشناسان تغذیه بر مصرف مناسب آن‌ها برای پیشگیری و ترمیم پوکی استخوان تأکید دارند.

غذا، ماده و انرژی



- ۱ می‌دانید که بدن برای انجام فعالیت‌های ارادی و غیرارادی گوناگون به ماده و انرژی نیاز دارد.
- ۲ یکی از راه‌های آزاد شدن انرژی مواد، سوزاندن آن‌ها است. مثلاً سوخت‌هایی مانند گاز شهری، بنزین، الکل و زغال هنگام سوختن انرژی آزاد می‌کنند و این انرژی برای گرم کردن خانه، پخت‌وپز و نیز به حرکت درآوردن خودروها مصرف می‌شود.
- ۳ مواد غذایی نیز به هنگام سوختن، انرژی آزاد می‌کنند. در واقع هر مادهٔ غذایی انرژی دارد و میزان انرژی آن به جرمی بستگی دارد که می‌سوزد.
- توجه** *فیلی واصله که انرژی ذخیره شده در هر ماده به نوع و مقدار آن وابسته است.*

۴ روغن و چربی از جمله ترکیب‌های آلی هستند که به دلیل تفاوت در ساختار، رفتارهای فیزیکی و شیمیایی متفاوتی دارند به طوری که روغن دارای حالت فیزیکی مایع بوده اما چربی جامد است.

* توجه از دیدگاه شیمیایی، در ساختار مولکول‌های روغن نسبت به چربی، پیوندهای دوگانه بیشتری وجود دارد و با توجه به مطالبی که در فصل قبل یاد گرفتیم می‌توان نتیجه گرفت که روغن واکنش‌پذیری بیشتری نسبت به چربی دارد.

بعد از مطالعه این گزاره‌های فیزیکی، وقتش رسیده که وارد بحث شیمی بشیم. دما، انرژی گرمایی و گرما می‌توانی خیلی سریع هر کدام را توضیح بدهی؟

دما، انرژی گرمایی و گرما



۱ هر جسم در حال حرکت دارای انرژی جنبشی است. از آنجا که ذره‌های سازنده ماده (یعنی اتم‌ها، مولکول‌ها و یا یون‌ها) به طور پیوسته و نامنظم در حال حرکت هستند؛ پس همیشه نتیجه گرفت همه مواد دارای انرژی جنبشی می‌باشند و انرژی جنبشی هر ماده برابر مجموع انرژی جنبشی ذره‌های سازنده آن ماده است.

۲ برای یک ماده معین (مثل آب)، اگر چه ذره‌های سازنده در سه حالت فیزیکی جامد، مایع و گاز یکسان بوده و پیوسته در جنب‌وجوش هستند، اما میزان جنبش ذره‌ها متفاوت از یکدیگر است به طوری که جنبش‌های نامنظم (انرژی جنبشی) ذره‌ها در حالت گاز بیشتر از مایع و آن هم بیشتر از حالت جامد است.

جامد > مایع > گاز: مقایسه انرژی جنبشی یک ماده

دما



برای دما، تا تعریف باید یاد بگیریم! تعریف اول: کمیتی است که میزان گرمی و سردی مواد را نشان می‌دهد و تعریف دوم: از دیدگاه ذره‌ای، دمای یک ماده را می‌توان معیاری برای توصیف میانگین تندی و میانگین انرژی جنبشی ذره‌های سازنده آن دانست. دما ویژگی مشترک مواد با هر حالت فیزیکی است.

* توجه دانستن دمای یک جسم اطلاعات سودمندی در مورد میانگین انرژی جنبشی و میانگین تندی حرکت ذره‌های سازنده آن جسم در اختیار ما می‌گذارد. مثلاً اختلاف دمای میان دو جسم ما را از اختلاف در میانگین تندی و میانگین انرژی جنبشی ذره‌های تشکیل‌دهنده آن دو آگاه می‌سازد.

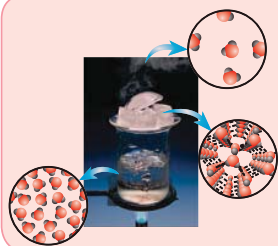
هر چه دمای یک جسم بالاتر ← میانگین تندی و میانگین انرژی جنبشی ذره‌های سازنده آن جسم بیشتر

+ توضیح در تعریف دما، همواره از واژه «میانگین» استفاده شده است؛ زیرا یک نمونه ماده دارای تعداد بی‌شماری ذره است و بر اثر گرم شدن آن، توزیع انرژی میان همه ذره‌ها یکسان نیست و هر ذره بسته به موقعیت و فاصله‌ای که از منبع گرما دارد، میزان متفاوتی از انرژی را جذب می‌کند. به همین دلیل که دما را معیاری برای توصیف میانگین تندی یا میانگین انرژی جنبشی ذره‌های سازنده یک ماده می‌دانند.

اشتباه نگیند فیزیکی باید هواستون باشه که دما تعیین‌کننده مقدار میانگین تندی یا میانگین انرژی جنبشی ذره‌های سازنده یک ماده نیست، بلکه دما فقط معیاری برای توصیف آن‌ها است؛ زیرا تندی و انرژی جنبشی ذره‌های سازنده یک ماده به هیچ وجه قابل اندازه‌گیری نیستند.

* توجه یکای رایج دما، درجه سلسیوس (°C)، در حالی که یکای دما در «SI»، کلوین (K) است. نماد دما برحسب سلسیوس، «θ» و نماد دما برحسب کلوین، «T» است.

نکته



شکل مقابل اثر دما را بر میزان جنبش مولکول‌های آب نشان می‌دهد. همان‌طور که می‌دانید، دمای بخار آب بیشتر از آب مایع و دمای آب مایع نیز بیشتر از یخ است. از این رو میانگین تندی و میانگین انرژی جنبشی مولکول‌های آب در حالت گاز بیشتر از مایع و آن هم بیشتر از حالت جامد است.

جامد > مایع > گاز: مقایسه دما → جامد > مایع > گاز: مقایسه میانگین تندی و میانگین انرژی جنبشی

انرژی گرمایی



به مجموع انرژی‌های جنبشی ذره‌های سازنده یک نمونه ماده، انرژی گرمایی آن ماده می‌گویند. انرژی گرمایی یک ماده علاوه بر دما به تعداد ذره‌های سازنده (جرم) ماده نیز وابسته است به طوری که هر چه تعداد ذره‌های سازنده (جرم) یک ماده بیشتر و دمای آن بالاتر باشد، انرژی گرمایی ماده بیشتر است.

هر چه تعداد ذره‌های سازنده یک ماده بیشتر

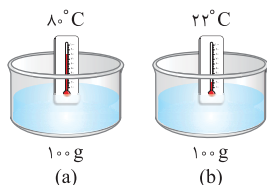
انرژی گرمایی ماده بیشتر

هر چه دمای یک نمونه ماده بالاتر

نحوه مقایسه انرژی گرمایی دو نمونه از یک ماده



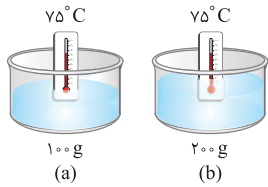
برای مقایسه انرژی گرمایی دو نمونه از یک ماده، علاوه بر دما باید به جرم آن‌ها نیز توجه کرد. در هنگام چنین مقایسه‌هایی با یکی از سه حالت زیر روبه‌رو خواهید شد:



جرم: $a = b$
دما: $a > b$

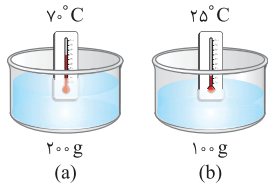
مثال از آنجا که جرم آب موجود در ظرف (a) با جرم آب موجود در ظرف (b) برابر بوده و دمای آب ظرف (a) بالاتر از دمای آب ظرف (b) است؛ پس انرژی گرمایی آب موجود در ظرف (a) بیشتر است.

• **حالت دوم:** برای دو نمونه از یک ماده با دماهای یکسان، انرژی گرمایی نمونه‌ای بیشتر است که جرم بیشتری دارد.



جرم: $b > a$
دما: $b = a$ → انرژی گرمایی: $b > a$

✓ **مثال** از آنجا که دمای آب موجود در ظرف (a) با دمای آب موجود در ظرف (b) برابر بوده و جرم آب موجود در ظرف (b) بیشتر از جرم آب موجود در ظرف (a) است؛ پس انرژی گرمایی آب موجود در ظرف (b) بیشتر است.



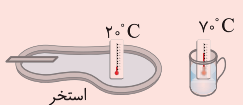
جرم: $a > b$
دما: $a > b$ → انرژی گرمایی: $a > b$

• **حالت سوم:** بسیار واضح و آشکار است که میان دو نمونه از یک ماده، انرژی گرمایی نمونه‌ای که جرم و دمای بالاتری دارد، بیشتر است.

✓ **مثال** انرژی گرمایی آب موجود در ظرف (a) بیشتر از ظرف (b) است؛ زیرا جرم و دمای آب موجود در ظرف (a) بیشتر است.

نکته

در کلاس درس، بعد از اینکه حالت سوم رو می‌گیریم، یک دانش‌آموز کنجکاوار می‌پرسد: «آقا، آکه جرم به جرم بیشتر و دمای جرم به دمای بالاتر باشه، چی؟» در پاسخ می‌گیریم: برای دو نمونه از یک ماده که جرم و دمای متفاوتی دارند، به طوری که یکی جرم بیشتری و دیگری دمای بالاتری دارد، نمی‌توان انرژی گرمایی را مقایسه نمود مگر در شرایطی که تفاوت جرم آن‌ها زیاد باشه. برای مثال یک لیوان آب 7°C و یک استخر آب 2°C را در نظر بگیرید. از آنجا که جرم و تعداد مولکول‌های آب موجود در استخر خیلی بیشتر از آب موجود در لیوان است، می‌توان گفت انرژی گرمایی آب استخر بیشتر از آب لیوان می‌باشد.



آب لیوان \gg آب استخر: جرم
آب لیوان $>$ آب استخر: انرژی گرمایی
آب استخر $>$ آب لیوان: دما

گرما

همین اول بگم که گرما با انرژی گرمایی جرم فرق داره در واقع گرما شکلی از انرژی است که به هنگام تماس یک جسم با دمای بالاتر با جسم با دمای پایین‌تر جریان می‌یابد. به بیان دیگر، گرما را می‌توان هم‌ارز با آن مقدار انرژی گرمایی دانست که به دلیل اختلاف دما میان دو جسم جاری می‌شود.

توجه: انتقال گرما همیشه از جسم با دمای بالاتر به جسم با دمای پایین‌تر صورت می‌گیرد. حتی اگر جسم با دمای بالاتر انرژی گرمایی کمتری داشته باشد.

جهت انتقال گرما $7^\circ\text{C} = \text{دما}$ → $25^\circ\text{C} = \text{دما}$

📌 دما، انرژی گرمایی و گرما در یک نگاه 😊

جمع‌بندی

دما	
۱- کمیتی که میزان گرمی و سردی مواد را نشان می‌دهد.	۲- معیاری برای توصیف میانگین تندی و میانگین انرژی جنبشی ذرات یک ماده است.
۳- مستقل از جرم ماده است.	۴- نماد آن برحسب سلسیوس، « θ » و برحسب آن در «SI»، کلونین (K) است.
۵- یکای رایج آن درجه سلسیوس ($^\circ\text{C}$) و یکای آن در «SI»، کلونین (K) است.	۶- نماد آن برحسب سلسیوس، « θ » و برحسب کلونین، «T» است.
۷- از ویژگی‌های یک نمونه از ماده است.	۸- صورتی از انرژی نیست.

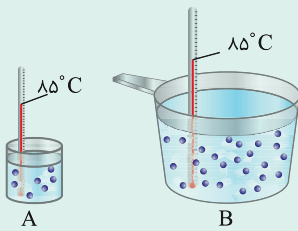
انرژی گرمایی

۱- مجموع انرژی جنبشی ذره‌های سازنده یک ماده است.	۲- به جرم و دمای ماده وابسته است.	۳- قابل اندازه‌گیری نیست.
۴- از ویژگی‌های یک نمونه ماده است.	۵- صورتی از انرژی است.	

گرما

۱- شکلی از انرژی است که به هنگام تماس دو جسم با دمای متفاوت جریان می‌یابد.	۲- هم‌ارز با آن مقدار انرژی گرمایی است که به دلیل تفاوت در دما، میان دو جسم جاری می‌شود.	۳- تغییر دمای یک سامانه ($\Delta\theta$ یا ΔT) و گرما (Q) برای توصیف یک فرایند به کار می‌روند.
۴- از ویژگی‌های یک نمونه ماده نیست و اشاره به گرمای یک نمونه ماده از نظر علمی نادرست است.	۵- گرما را با نماد « Q » نشان می‌دهند و یکای اندازه‌گیری آن در «SI»، ژول (J) است.	۶- برای بیان مقدار گرما می‌توان از یکاهای دیگری مانند کالری (cal) استفاده نمود. ($1\text{ cal} = 4/18\text{ J}$)
	۲- $1\text{ J} = 1\text{ kg}\cdot\text{m}^2\cdot\text{s}^{-2}$	

تست



- با توجه به شکل‌های روبه‌رو، کدام گزینه درست است؟
- ۱) میانگین تندی مولکول‌های آب در ظرف (B) بیشتر از ظرف (A) است.
 - ۲) انرژی گرمایی آب موجود در ظرف (A) کمتر از آب موجود در ظرف (B) است.
 - ۳) با اضافه کردن مقداری آب ۸۵°C به ظرف (A)، میانگین انرژی جنبشی ذرات آن افزایش می‌یابد.
 - ۴) جهت جاری شدن گرما از ظرف (B) به ظرف (A) است؛ زیرا انرژی گرمایی ظرف (B) بیشتر از ظرف (A) می‌باشد.

پاسخ دمای آب موجود در هر دو ظرف یکسان است. پس میانگین تندی مولکول‌های آب موجود در ظرف (A) با میانگین تندی مولکول‌های آب موجود در ظرف (B) برابر است و با اضافه کردن آب ۸۵°C به ظرف (A)، دما تغییر نمی‌کند و در نتیجه میانگین انرژی جنبشی ذره‌ها نیز دچار تغییر نمی‌شود. همچنین گرما هم‌ارز با مقدار انرژی گرمایی است که به دلیل تفاوت در دما جاری می‌شود. با توجه به شکل صورت سؤال، دمای آب در هر دو ظرف یکسان است. توجه داشته باشید که میزان انرژی گرمایی یک سامانه به دما و جرم آن بستگی دارد؛ پس انرژی گرمایی آب موجود در ظرف (A) کمتر از ظرف (B) است.

گزینه ۲

ظرفیت گرمایی و ظرفیت گرمایی ویژه



همان‌طور که می‌دانید برای تغییر دمای یک ماده باید فرایندی انجام شود که طی آن، ماده مقداری گرما مبادله کند. هر چه گرمای مبادله شده (Q) بیشتر باشد، تغییر دمای ماده ($\Delta\theta$) بیشتر خواهد بود.

برای یک ماده ← هر چه گرمای مبادله شده (Q) بیشتر ← تغییر دما ($\Delta\theta$) بیشتر

اما به نکته وپور داره، اونم اینکه که با مبادله مقدار یکسانی گرما، تغییر دمای مواد متفاوت‌تره! می‌رونی پراسا

ظرفیت گرمایی



۱) مقدار گرمای مورد نیاز برای افزایش دمای یک نمونه ماده به اندازه یک درجه سلسیوس، ظرفیت گرمایی نامیده می‌شود. ظرفیت گرمایی را با C (حرف بزرگ) نمایش می‌دهند.

$$Q: \text{ گرمای مبادله شده (برحسب ژول یا کالری)} \quad \Delta\theta: \text{ تغییر دما (برحسب درجه سلسیوس)} \quad \Delta T: \text{ تغییر دما (برحسب کلوین)}$$

$$C = \frac{Q}{\Delta\theta} = \frac{Q}{\Delta T}$$

* توجه ارزش دمایی « ۱°C » برابر با « ۱ K » است؛ از این‌رو، در فرایندهایی که دما تغییر می‌کند، « $\Delta\theta = \Delta T$ » خواهد بود.

۲) با توجه به رابطه بالا، در صورتی که یکای Q ژول باشد، یکای ظرفیت گرمایی می‌تواند $J \cdot K^{-1}$ یا $J \cdot ^\circ C^{-1}$ باشد و در صورتی که یکای Q کالری باشد، یکای ظرفیت گرمایی می‌تواند $cal \cdot ^\circ C^{-1}$ یا $cal \cdot K^{-1}$ باشد.

۳) ظرفیت گرمایی یک نمونه ماده به دما و فشار محیط، نوع و مقدار ماده بستگی دارد و با تغییر هر یک از آن‌ها، ظرفیت گرمایی نیز تغییر می‌کند؛ به عبارت دیگر ظرفیت گرمایی در دما و فشار اتاق، افزون‌بر نوع ماده به مقدار آن نیز وابسته است.

* توجه منظور از نوع ماده، ماهیت شیمیایی و حالت فیزیکی ماده است. پس خواهیم داشت:

- عوامل مؤثر بر ظرفیت گرمایی: ۱- دما و فشار محیط ۲- ماهیت شیمیایی ماده ۳- حالت فیزیکی ماده ۴- مقدار ماده

۴) از آنجا که ظرفیت گرمایی یک نمونه ماده به جرم آن وابسته است، این ویژگی کاربرد کمی دارد. از این‌رو دانشمندان بیشتر از ویژگی دیگر ماده که ظرفیت گرمایی ویژه (گرمای ویژه) نامیده می‌شود، استفاده می‌کنند. **فیر فوب اینکه** ظرفیت گرمایی ویژه مستقل از جرم ماده است.

ظرفیت گرمایی ویژه (گرمای ویژه)



۱) مقدار گرمای مورد نیاز برای افزایش دمای یک گرم از یک نمونه ماده به اندازه یک درجه سلسیوس، ظرفیت گرمایی ویژه یا گرمای ویژه نامیده می‌شود. ظرفیت گرمایی ویژه را با c (حرف کوچک) نمایش می‌دهند.

* توجه ظرفیت گرمایی یک گرم ماده، ظرفیت گرمایی ویژه آن ماده را نشان می‌دهد.

$$Q: \text{ گرمای مبادله شده (برحسب ژول یا کالری)} \quad m: \text{ جرم ماده (برحسب گرم)} \quad \Delta\theta: \text{ تغییر دما (برحسب درجه سلسیوس)}$$

$$c = \frac{Q}{m \times \Delta\theta} = \frac{Q}{m \times \Delta T}$$

۲) با توجه به رابطه بالا، در صورتی که یکای Q ژول باشد، یکای ظرفیت گرمایی ویژه می‌تواند $J \cdot g^{-1} \cdot ^\circ C^{-1}$ یا $J \cdot g^{-1} \cdot K^{-1}$ باشد و در صورتی که یکای Q کالری باشد، یکای ظرفیت گرمایی ویژه می‌تواند $cal \cdot g^{-1} \cdot ^\circ C^{-1}$ یا $cal \cdot g^{-1} \cdot K^{-1}$ باشد.

۳ ظرفیت گرمایی ویژه یک ماده به دما و فشار محیط و نوع ماده بستگی دارد، اما به جرم ماده وابسته نیست.

* توجه منظور از نوع ماده، ماهیت شیمیایی و حالت فیزیکی ماده است. پس خواهیم داشت:

• عوامل مؤثر بر ظرفیت گرمایی ویژه: ۱- دما و فشار محیط ۲- ماهیت شیمیایی ماده ۳- حالت فیزیکی ماده

۴ با توجه به روابط ارائه شده، به سادگی می‌توان به رابطه میان ظرفیت گرمایی و ظرفیت گرمایی ویژه برای یک ماده پی برد:

ظرفیت گرمایی ویژه (c) × جرم ماده (m) = ظرفیت گرمایی (C)

رابطه ظرفیت گرمایی و ظرفیت گرمایی ویژه با تغییر دما



رابطه ظرفیت گرمایی با تغییر دما



با توجه به رابطه ظرفیت گرمایی، اگر به دو یا چند ماده که دارای ظرفیت گرمایی (C) متفاوت هستند، مقدار یکسانی گرما داده شود، تغییر دمای جسمی بیشتر است

$$\downarrow C = \frac{Q}{\Delta\theta \uparrow}$$

به ازای Q های مساوی هر چه ظرفیت گرمایی کمتر ← تغییر دمای ماده بیشتر

رابطه ظرفیت گرمایی ویژه با تغییر دما



۱ با توجه به رابطه ظرفیت گرمایی ویژه، اگر به دو یا چند ماده با جرم‌های یکسان که دارای ظرفیت گرمایی ویژه (c) متفاوت هستند، مقدار یکسانی گرما داده شود، تغییر

دمای جسمی بیشتر است که ظرفیت گرمایی ویژه کمتری دارد. مثل آزمای کم ظرفیتی که با به شوفی ساره، فیلی زور عصبانی میشن و به اصطلاح زور پویش مبارن!

$$\downarrow c = \frac{Q}{m \times \Delta\theta \uparrow}$$

به ازای Q های مساوی و جرم‌های یکسان از مواد هر چه ظرفیت گرمایی ویژه کمتر ← تغییر دمای ماده بیشتر

با توجه به ظرفیت گرمایی ویژه دو یا چند ماده و بدون اطلاع از جرم آن‌ها نمی‌توان تغییر دمای آن‌ها را بر اثر مبادله مقدار یکسانی از گرما، با یکدیگر مقایسه کرد؛ زیرا ظرفیت گرمایی ویژه یک ماده مستقل از جرم آن است. پس برای مقایسه تغییر دمای دو جسم به ازای دریافت Q های مساوی، در صورت داشتن ظرفیت گرمایی، نیازی به دانستن جرم آن‌ها نیست ولی در صورت داشتن ظرفیت گرمایی ویژه، دانستن جرم آن‌ها لازم و ضروری است.



برای مقایسه تغییر دمای دو جسم به ازای Q های مساوی با داشتن ظرفیت گرمایی ویژه ← به دانستن جرم نیازی نیست. با داشتن ظرفیت گرمایی ویژه ← دانستن جرم ضروری است.

۲ تخم مرغ در دمای ۷۵°C در آب پخته می‌شود ولی در روغن زیتون تغییر محسوسی نمی‌کند؛ زیرا ظرفیت گرمایی ویژه آب از روغن زیتون بیشتر است و آب برای این میزان از تغییر دما، گرمای بیشتری نسبت به روغن زیتون جذب می‌کند که این عامل سبب پختن تخم مرغ در آب می‌شود.

روغن زیتون $(\frac{J}{g \cdot ^\circ C}) > ۱/۹۷$ آب $(\frac{J}{g \cdot ^\circ C}) < ۴/۱۸$: مقایسه ظرفیت گرمایی ویژه

چراغ سوراخ یک تست مفهومی از ظرفیت گرمایی و ظرفیت گرمایی ویژه.

تست

به چهار قطعه ۱۰۰ گرمی از فلزهای آلومینیم، طلا، آهن و نقره در دمای ۲۵°C، یک کیلوژول گرما داده شده است. با توجه به جدول زیر که نشان‌دهنده دمای نهایی هر یک از این فلزات است، کدام مقایسه در مورد گرمای ویژه فلزات صحیح است؟

فلز	آلومینیم	طلا	آهن	نقره
دمای نهایی (°C)	۳۶/۱	۱۰۳/۱	۴۷/۱	۶۷/۴

۱) طلا < نقره < آهن < آلومینیم ۲) نقره < آهن < طلا < آلومینیم ۳) آلومینیم < آهن < نقره < طلا ۴) آهن < آلومینیم < نقره < طلا

پاسخ با توجه به رابطه $c = \frac{Q}{m \times \Delta\theta}$ ، ظرفیت گرمایی ویژه با تغییرات دما رابطه معکوس دارد. پس هر چه تغییرات دمای یک ماده به ازای دریافت مقدار یکسانی از

گرما بیشتر باشد، ظرفیت گرمایی ویژه آن ماده کمتر است. البته به شرطی که جرم مواد با یکدیگر برابر باشد.

طلا > نقره > آهن > آلومینیم: مقایسه ظرفیت گرمایی ویژه
آلومینیم > آهن > نقره > طلا: مقایسه تغییرات دما

گزینه ۳

اگر با دادن مقدار مساوی گرما به دو ماده A و B، تغییر دمای ماده B از ماده A بیشتر باشد، کدام مقایسه درست است؟

- ۱) گرمای ویژه: B < A
- ۲) گرمای ویژه: A < B
- ۳) ظرفیت گرمایی: B < A
- ۴) ظرفیت گرمایی: A < B

پاسخ چون گرمای داده شده به دو ماده A و B یکسان است، تغییر دمای ماده‌ای که ظرفیت گرمایی بیشتری دارد کمتر است. از طرفی چون جرم A و B را نداریم، نمی‌توانیم در مورد ظرفیت گرمایی ویژه (گرمای ویژه) آن‌ها اظهار نظر کنیم.

گزینه ۳

مسائل مربوط به این قسمت بسیار ساده بوده و تمامی روابطی که برای حل آنها لازم دارید، در زیر آمده است.

$Q=C\Delta\theta$ $Q=mc\Delta\theta$ $C=mc$

تست

اگر به ۲/۵ مول گرافیت ۱۰۸۰ ژول گرما دهیم، دمای آن از ۲۹۱ به ۳۴۱ کلوین افزایش می‌یابد. ظرفیت گرمایی ویژه گرافیت چند $J.g^{-1}.K^{-1}$ است؟
(۱ mol C=۱۲g)

- ۰/۷۲ (۱) ۱/۵۷ (۲) ۰/۹۳ (۳) ۰/۸۶ (۴)

پاسخ ابتدا جرم نمونه گرافیت را محاسبه می‌کنیم.

$$? g C = 2/5 \text{ mol C} \times \frac{12g C}{1 \text{ mol C}} = 30g C$$

سپس به کمک رابطه $Q=mc\Delta T$ ، ظرفیت گرمایی ویژه گرافیت را به دست می‌آوریم.

$$Q=mc\Delta T \Rightarrow c = \frac{Q}{m \times \Delta T} = \frac{1080}{30 \times (341-291)} = 0/72 J.g^{-1}.K^{-1}$$

گزینه ۱

چنانچه به نیم لیتر اتانول در دمای $18^\circ C$ ، ۱۳ کیلوژول گرما داده شود، دمای آن به $32^\circ C$ می‌رسد. چگالی اتانول تقریباً چند گرم بر میلی لیتر است؟ (ظرفیت گرمایی ویژه اتانول ۲/۴۵ ژول بر گرم بر درجه سلسیوس است و چگالی اتانول را ثابت در نظر بگیرید.)

- ۰/۸۴ (۱) ۰/۷۶ (۲) ۰/۹۷ (۳) ۱/۳ (۴)

پاسخ ابتدا جرم نمونه اتانول را محاسبه می‌کنیم.

$$Q=mc\Delta\theta \Rightarrow m = \frac{Q}{c \times \Delta\theta} = \frac{13 \times 10^3}{2/45 \times (32-18)} = 379g$$

سپس به کمک حجم نمونه اتانول، چگالی آن را به دست می‌آوریم.

$$\text{چگالی} = \frac{\text{جرم}}{\text{حجم}} = \frac{379g}{500 \text{ mL}} = 0/76g.mL^{-1}$$

گزینه ۲

اگر به ۴۵۰ گرم فلز طلا در دمای $22^\circ C$ به میزان ۷/۲ کیلوژول گرما داده شود، دمای نهایی آن بر حسب درجه سلسیوس کدام است؟ (ظرفیت گرمایی ویژه طلا برابر ۱۲۸ ژول بر گرم بر درجه سلسیوس است.)

- ۱۲۵ (۱) ۱۵۸ (۲) ۱۴۷ (۳) ۱۳۶ (۴)

پاسخ $Q=mc\Delta\theta \Rightarrow 7/2 \times 10^3 = 450 \times 0/128 \times (\theta - 22) \Rightarrow \theta_{\text{نهایی}} = 147^\circ C$

گزینه ۳

* توجه در برخی مسائل، به یک نمونه که مخلوطی از دو یا چند ماده است، گرما داده می‌شود و دمای مخلوط افزایش می‌یابد و از شما خواسته می‌شود که به طور مثال گرمای مورد نیاز این فرایند را محاسبه کنید. برای حل چنین مسائلی کافی است گرمای دریافت شده توسط هر ماده را محاسبه و آن‌ها را با یکدیگر جمع کنید. تست ببری رو ببین!

تست

۲ لیتر اتیلن گلیکول با چگالی $1/1 g.mL^{-1}$ در ۳ کیلوگرم آب خالص به طور کامل حل شده است. مقدار گرمای لازم برای افزایش دمای این محلول به اندازه $1^\circ C$ چند کیلوژول است؟ (ظرفیت گرمایی ویژه آب و اتیلن گلیکول به ترتیب برابر ۴/۲ و ۲/۴ ژول بر گرم بر درجه سلسیوس است و ظرفیت گرمایی مواد در محلول تغییری نمی‌کند.)

- ۱۷۸۸ (۱) ۱۷۴۰ (۲) ۱۷۴ (۳) ۱۷۸/۸ (۴)

پاسخ ابتدا جرم اتیلن گلیکول را محاسبه می‌کنیم.

$$? g = 2L \times \frac{10^3 mL}{1L} \times \frac{1/1 g}{1 mL} = 2200g$$

سپس مقدار گرمای لازم برای افزایش دمای محلول به اندازه $1^\circ C$ را به دست می‌آوریم:

$$Q = Q_{\text{اتیلن گلیکول}} \times \Delta\theta + Q_{\text{آب}} \times \Delta\theta = (m_{\text{اتیلن گلیکول}} \times c_{\text{اتیلن گلیکول}} \times \Delta\theta) + (m_{\text{آب}} \times c_{\text{آب}} \times \Delta\theta) = (2200 \times 2/4 \times 1) + (3000 \times 4/2 \times 1) = 1780J = 178/8 kJ$$

گزینه ۴

اگر با قرار دادن یک قطعه آلومینیم با دمای $192^\circ C$ در یک کیلوگرم اتانول با دمای $2^\circ C$ ، دمای نهایی مجموعه برابر $32^\circ C$ شود، جرم قطعه آلومینیمی چند گرم بوده است؟ (ظرفیت گرمایی ویژه اتانول و آلومینیم به ترتیب برابر ۲/۴ و ۰/۹ ژول بر گرم بر درجه سلسیوس است.)

- ۱۰۰ (۱) ۱۵۰ (۲) ۲۰۰ (۳) ۲۵۰ (۴)

پاسخ $Q_{\text{اتانول}} = m_{\text{اتانول}} \times c_{\text{اتانول}} \times \Delta\theta$ و $Q_{\text{آلومینیم}} = m_{\text{آلومینیم}} \times c_{\text{آلومینیم}} \times \Delta\theta$

$$\Rightarrow m_{\text{آلومینیم}} = 200g$$

گزینه ۳

تست

اگر برای افزایش دمای یک نمونه ۲۰۰ گرمی شامل آب و استون از دمای ۲۵°C به ۳۵°C، ۷/۹۸ کیلوژول گرما لازم باشد، چند درصد نمونه را استون تشکیل داده است؟ (ظرفیت گرمایی ویژه استون و آب به ترتیب برابر ۳/۵ و ۴/۲ ژول بر گرم بر کلونین است و ظرفیت گرمایی مواد در محلول تغییر نمی‌کند.)

- ۳۰ (۱) ۴۵ (۲) ۶۰ (۳) ۷۰ (۴)

پاسخ جرم استون را x و جرم آب را (۲۰۰-x) در نظر می‌گیریم.

$$Q_{\text{آب}} = (200 - x) \times 4/2 \times (35 - 25) = 42(200 - x) \text{ J}, \quad Q_{\text{استون}} = x \times 3/5 \times (35 - 25) = 35x \text{ J}$$

$$\Rightarrow Q_{\text{کل}} = Q_{\text{آب}} + Q_{\text{استون}} \Rightarrow 7/98 \times 10^3 = 42(200 - x) + 35x \Rightarrow x = 60$$

اکنون درصد جرمی استون را محاسبه می‌کنیم:
 $\text{درصد جرمی استون} = \frac{\text{جرم استون}}{\text{جرم نمونه}} \times 100 = \frac{60}{200} \times 100 = 30\%$

گزینه ۱

* توجه در برخی مسائل دو یا تعداد بیشتری ماده با دماهای متفاوت در کنار یکدیگر قرار می‌گیرند تا هم دما شوند و از شما خواسته می‌شود تا دمای نهایی، برآورد هر یک از مواد و ... را به دست آورید. برای حل چنین مسائلی کافی است گرمای مبادله شده توسط همه مواد را با هم جمع کنید و مساوی عدد صفر قرار دهید.

$$Q_A + Q_B + Q_C + \dots + Q_n = 0$$

تست

اگر یک قطعه ۱۰۰ گرمی از فلز آهن با دمای ۲۰۰°C را درون ۵۰۰ گرم آب ۲۰°C قرار دهیم، دمای نهایی چند کلونین می‌شود؟ (ظرفیت گرمایی ویژه آب و آهن به ترتیب برابر ۴/۲ و ۰/۴۵ ژول بر گرم بر درجه سلسیوس است.)

- ۳۰۵/۸ (۱) ۲۹۶/۸ (۲) ۳۲/۸ (۳) ۲۳/۸ (۴)

$$Q_{\text{آب}} + Q_{\text{آهن}} = 0 \Rightarrow 500 \times 4/2 \times (\theta_{\text{نهایی}} - 20) + 100 \times 0/45 \times (\theta_{\text{نهایی}} - 200) = 0 \Rightarrow \theta_{\text{نهایی}} = 23/8 \text{ } ^\circ\text{C} = 296/8 \text{ K}$$

گزینه ۲

جاری شدن انرژی گرمایی



۱ شیمی‌دان‌ها برای درک آسان‌تر نحوه جاری شدن انرژی گرمایی در فرایندهای مختلف، جهان را به دو قسمت سامانه و محیط تقسیم می‌کنند.

- سامانه: بخشی از جهان هستی که برای مطالعه انتخاب می‌شود.
- محیط: تمام جهان هستی که در پیرامون سامانه قرار دارد.

* توجه با توجه به تعریف بالا، اگر چه تمام جهان هستی به جز سامانه را محیط می‌نامند ولی در عمل فقط بخشی از جهان که با سامانه برهم‌کنش دارد، محیط در نظر گرفته می‌شود.

✓ مثال یک لیوان آب ۷۰°C را در یک اتاق با دمای ۲۵°C در نظر بگیرید. اگر بخواهیم لیوان آب را مورد مطالعه قرار دهیم، لیوان آب را سامانه و اتاق را محیط در نظر می‌گیریم.

۲ همان‌طور که می‌دانید، یکی از راه‌های مبادله انرژی بین سامانه و محیط، انتقال گرما است. طبق یک قرارداد کلی چنان‌چه گرما از سامانه به محیط منتقل شود، فرایند گرماده و $Q < 0$ است ولی اگر گرما از محیط به سامانه منتقل شود، فرایند گرماگیر و $Q > 0$ می‌باشد.

* توجه در زیر، نمودار انبساط فرایندهای گرماده و گرماگیر از دیدگاه انرژی را ملاحظه می‌کنین:

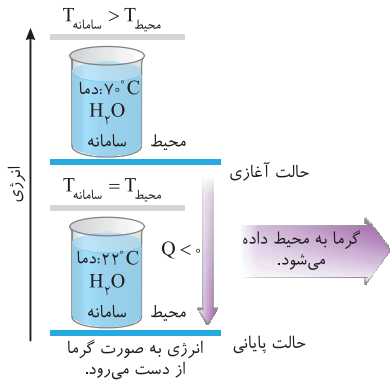
گرماده	گرماگیر
الف نمودار بالا مربوط به انجام فرایندهای گرماده از دیدگاه انرژی است.	الف نمودار بالا مربوط به انجام فرایندهای گرماگیر از دیدگاه انرژی است.
ب در این فرایندها گرما از سامانه به محیط انتقال می‌یابد.	ب در این فرایندها گرما از محیط به سامانه انتقال می‌یابد.
پ در این فرایندها سطح انرژی حالت پایانی از حالت آغازی پایین‌تر است.	پ در این فرایندها سطح انرژی حالت پایانی از حالت آغازی بالاتر است.
ت در این فرایندها $Q < 0$ است.	ت در این فرایندها $Q > 0$ است.
ث الگوی نوشتاری این فرایندها به صورت زیر است:	ث الگوی نوشتاری این فرایندها به صورت زیر است:
گرما (Q) + حالت پایانی \rightarrow حالت آغازی	حالت پایانی \rightarrow گرما (Q) + حالت آغازی

- * توجه ۱. در فرایندهای گرماده، Q در سمت راست معادله نوشتاری قرار می‌گیرد.
- ۲. در فرایندهای گرماگیر، Q در سمت چپ معادله نوشتاری قرار می‌گیرد.

در ادامه قراره هر کرا از فرایندهای گرماده و گرماگیر رو به همراه چند مثال بررسی کنیم.

فرایندهای گرماده

فرایندهایی هستند که در آنها با انتقال گرما از سامانه به محیط، سطح انرژی سامانه کاهش می‌یابد و در نتیجه $Q < 0$ است. در فرایندهای گرماده، دمای آغازی و پایانی سامانه می‌تواند تغییر کند یا ثابت بماند.



الف در برخی از این فرایندها انتقال گرما از سامانه به محیط با تغییر دمای سامانه رخ می‌دهد.

مثال اگر یک سامانه شامل نمونه‌ای آب 70°C درون یک ظرف در محیط با دمای 22°C قرار گیرد، چون دمای سامانه از محیط بیشتر است ($\theta_{\text{محیط}} > \theta_{\text{سامانه}}$)، گرما از سامانه به محیط پیرامون منتقل می‌شود و مبادله گرما تا زمانی ادامه می‌یابد که دمای سامانه با دمای محیط برابر شود.

*** توجه** در این فرایند دمای سامانه کاهش می‌یابد ($\Delta\theta < 0$) و در نتیجه $Q < 0$ است. الگوی نوشتاری این فرایند به صورت مقابل است:

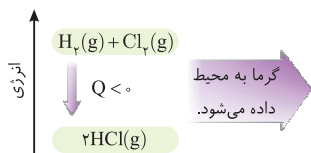


ب **پایه که پروتین**، در برخی فرایندها انتقال گرما از سامانه به محیط در دمای ثابت رخ می‌دهد. گرمای مبادله شده در این فرایندها مربوط به تفاوت انرژی پتانسیل (انرژی شیمیایی) میان واکنش‌دهنده‌ها و فراورده‌ها است.

مثال ۱ در فرایند تبدیل آب ($^\circ\text{C}$) به یخ ($^\circ\text{C}$)، گرما از سامانه به محیط منتقل می‌شود ($Q < 0$) ولی این انتقال انرژی در دمای ثابت انجام می‌شود ($\Delta\theta = 0$).

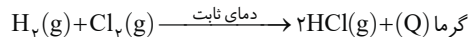
*** توجه** در این فرایند دمای سامانه تغییری نمی‌کند ($\Delta\theta = 0$) و $Q < 0$ است. الگوی نوشتاری این فرایند را می‌توان به صورت زیر نمایش داد:

گرما $(Q) + \text{یخ } (^\circ\text{C}) \rightarrow \text{آب } (^\circ\text{C})$



مثال ۲ از واکنش یک مول گاز هیدروژن (H_2) با یک مول کلر (Cl_2) در دمای ثابت، دو مول هیدروژن کلرید (HCl) به همراه مقدار زیادی انرژی آزاد می‌شود.

*** توجه** در این فرایند، دمای واکنش‌دهنده‌ها با فراورده‌ها برابر است و چون سطح انرژی فراورده‌ها از واکنش‌دهنده‌ها پایین‌تر است، $Q < 0$ می‌باشد. الگوی نوشتاری



این فرایند شیمیایی را می‌توان به صورت مقابل نوشت:

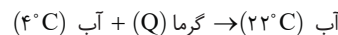
فرایندهای گرماگیر

فرایندهایی هستند که در آنها با انتقال گرما از محیط به سامانه، سطح انرژی سامانه افزایش می‌یابد و در نتیجه $Q > 0$ است. در فرایندهای گرماگیر دمای آغازی و پایانی سامانه می‌تواند تغییر کند یا ثابت بماند.

الف در برخی از این فرایندها انتقال گرما از محیط به سامانه با تغییر دمای سامانه رخ می‌دهد.

مثال اگر یک سامانه شامل نمونه‌ای آب 4°C درون یک ظرف در محیط با دمای 22°C قرار گیرد، چون دمای سامانه از محیط کمتر است ($\theta_{\text{محیط}} < \theta_{\text{سامانه}}$)، گرما از محیط پیرامون به سامانه منتقل می‌شود و مبادله گرما تا زمانی ادامه می‌یابد که دمای سامانه با دمای محیط برابر شود.

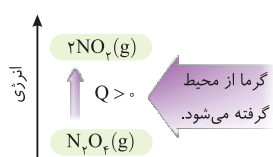
*** توجه** در این فرایند دمای سامانه افزایش می‌یابد ($\Delta\theta > 0$) و در نتیجه $Q > 0$ است. الگوی نوشتاری این فرایند به صورت زیر است:



ب در برخی فرایندها انتقال گرما از سامانه به محیط در دمای ثابت رخ می‌دهد. گرمای مبادله شده در این فرایندها مربوط به تفاوت انرژی پتانسیل میان واکنش‌دهنده‌ها و فراورده‌ها است.

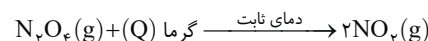
مثال ۱ در فرایند تبدیل یخ ($^\circ\text{C}$) به آب ($^\circ\text{C}$)، گرما از محیط به سامانه منتقل می‌شود ($Q > 0$) ولی این انتقال انرژی در دمای ثابت انجام می‌شود ($\Delta\theta = 0$).

*** توجه** در این فرایند دمای سامانه تغییری نمی‌کند ($\Delta\theta = 0$) و $Q > 0$ است. الگوی نوشتاری این فرایند به صورت زیر است: آب $(^\circ\text{C}) \rightarrow$ گرما $(Q) +$ یخ $(^\circ\text{C})$

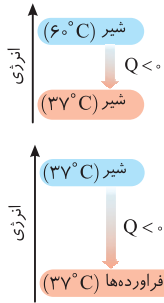


مثال ۲ از واکنش تجزیه گرماگیر یک مول گاز N_2O_4 در دمای ثابت، دو مول گاز NO_2 به دست می‌آید.

*** توجه** در این فرایند، دمای واکنش‌دهنده‌ها با فراورده‌ها برابر است و چون سطح انرژی فراورده‌ها از واکنش‌دهنده‌ها بالاتر است، $Q > 0$ است. الگوی نوشتاری این فرایند شیمیایی را به صورت مقابل می‌توان نمایش داد:



۳ به نظر تون، غذایی که می‌خوریم، در بدن چه پوری به انرژی تبدیل میشه؟ با مصرف مواد غذایی، اول ماده غذایی (سامانه) با بدن (محیط) هم‌دمای می‌شود. در مرحله بعد، طی فرایند گوارش و سوخت‌وساز، انرژی پتانسیل (شیمیایی) آن آزاد می‌شود.



مثال ✓ با مصرف یک لیوان شیر با دمای 6°C ، پس از ورود شیر به بدن، ابتدا شیر مقداری انرژی به شکل گرما از دست می‌دهد تا با بدن هم‌دم شود. در این فرایند با جاری شدن انرژی از شیر به بدن که دمای آن همواره 37°C است، دمای شیر به 37°C کاهش می‌یابد و $Q < 0$ می‌شود و در نتیجه فرایند گرماده است. در مرحله بعد بخش عمده انرژی موجود در شیر هنگام فرایند گوارش و سوخت‌وساز به بدن می‌رسد. فرایندهایی که با انجام واکنش‌های شیمیایی گوناگونی همراه است منجر به تولید انرژی و مواد اولیه مورد نیاز سوخت‌وساز یاخته‌های بدن خواهد شد. فرایند گوارش و سوخت‌وساز مواد غذایی از جمله شیر در بدن با آزادسازی انرژی همراه است؛ پس این فرایندها همواره گرماده هستند.

توجه + در مورد بستنی **هواستون باشه** که فرایند هم‌دم شدن آن در بدن گرماگیر است، در حالی که گوارش و سوخت‌وساز آن گرماده می‌باشد.

تست

کدام عبارت‌ها درست نیستند؟

- (الف) ظرفیت گرمایی یک ماده به مقدار آن وابسته است و مقدار آن نمی‌تواند از گرمای ویژه ماده کمتر باشد.
 (ب) اگر ظرفیت گرمایی ویژه آب و اتانول به ترتیب $4/2$ و $2/4$ ژول بر گرم در درجه سلسیوس باشد، ظرفیت گرمایی 4 گرم آب با ظرفیت گرمایی 7 گرم اتانول برابر است.
 (پ) در فرایند گوارش و سوخت‌وساز شیر با دمای 37°C ، تغییرات دمای سامانه منفی و در نتیجه $Q < 0$ می‌باشد.
 (ت) با دادن 81 ژول گرما به 10 گرم آلومینیم با دمای اولیه 5°C ، دمای آن 9 درجه سلسیوس افزایش می‌یابد.

$(c_{Al} = 0.9 \text{ J.g}^{-1}.\text{C}^{-1})$

- (۱) (الف) و (ب) (۲) (ب) و (پ) (۳) (الف) و (پ) (۴) (الف)، (پ) و (ت)

پاسخ عبارتهای (الف) و (پ) نادرست هستند. بررسی عبارت‌ها: **عبارت (الف):** چنانچه جرم نمونه ماده کمتر از 1 گرم باشد، ظرفیت گرمایی آن از گرمای ویژه اش کمتر می‌شود.

عبارت (ب): چون حاصل ضرب جرم آب در ظرفیت گرمایی ویژه اش با حاصل ضرب جرم اتانول در ظرفیت گرمایی ویژه آن برابر است؛ پس این عبارت درست است.

عبارت (پ): در فرایند گوارش و سوخت‌وساز شیر با دمای 37°C ، تغییر دما برابر صفر است. **عبارت (ت):**

$Q = mc\Delta\theta = 10 \times 0.9 / 9 \times 9 = 81 \text{ J}$

گزینه ۳

فصل دوم

تست بخش ۱

۱۱۰ سلام! به تست‌های این بخش فوش اومدین. برای این فصل، کلی تست با کیفیت براتون تدارک دیدیم. هتماً تا آخر همراه ما باشید. 😊

در پی غذای سالم (صفحه ۴۹ تا ۵۶ کتاب درسی)

تست‌هایی از بنس اطلاعات عمومی!

۴۶۴ چه تعداد از موارد زیر درست هستند؟

- (الف) دانشمندان اجزای بنیادی جهان مادی را ماده و انرژی می‌دانند و براساس یافته‌های آن‌ها انرژی از راه‌های گوناگون با ماده ارتباط دارد.
 (ب) کاهش جرم خورشید به‌عنوان تنها منبع حیات بخش انرژی، تبدیل انرژی به ماده را تأیید می‌کند.
 (پ) نیاز به انرژی برای انجام هر فعالیت با هر آهنگی، وجود یک منبع انرژی نزدیک‌تر از خورشید را آشکار می‌سازد.
 (ت) کاشتن دانه‌ها و درو کردن فراورده‌ها، نخستین انقلاب در کشاورزی بود و باعث شد انسان‌ها حیوانات و غلات را به مقدار زیادی تولید کنند.
 (ث) جانوران برای انجام فعالیت‌های خود، اغلب نمی‌توانند به‌طور مستقیم از انرژی خورشید استفاده کنند.

- (۱) ۲ (۲) ۳ (۳) ۴ (۴) ۵

۴۶۵ چند مورد از مطالب زیر درست است؟

- جانوران با مصرف غذا، مواد اولیه برای ساخت و رشد بخش‌های مختلف بدن و انرژی مورد نیاز برای انجام انواع فعالیت‌ها را تأمین می‌کنند.
- مقدار کمی از اتم‌ها، مولکول‌ها و یون‌های موجود در بدن از وعده‌های غذایی تأمین می‌شود.
- سرانه مصرف ماده غذایی، مقدار میانگین مصرف آن را به ازای هر فرد در یک گستره زمانی معین نشان می‌دهد.
- برای تولید غذا در حجم انبوه به فعالیت‌های صنعتی گوناگونی نیاز است که صنایع غذایی نامیده می‌شوند.
- نان در ایران و جهان بیشترین سرانه مصرف را در بین تمام مواد غذایی دارد.

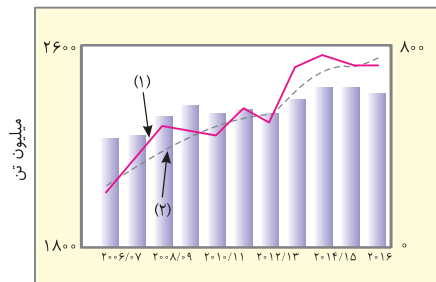
- (۱) ۱ (۲) ۲ (۳) ۳ (۴) ۴

۴۶۶ نمودار زیر تولید و مصرف جهانی غلات را در یک دهه اخیر نشان می‌دهد. با توجه به این

نمودار، کدام عبارت‌ها (ها) درست است؟

- (الف) نمودارهای شماره (۱) و (۲)، به ترتیب بهره‌برداری و تولید و نمودار میله‌ای، میزان غلات ذخیره شده را نشان می‌دهد.
 (ب) در طول یک دهه اخیر، میزان بهره‌برداری از غلات همانند میزان غلات ذخیره شده به‌طور پیوسته افزایش یافته است.
 (پ) در سال 2013 ، میزان غلات ذخیره شده در انبارها تقریباً برابر 600 میلیون تن بوده است.
 (ت) در سال 2011 ، میزان غلات ذخیره شده و میزان غلات تولید شده تقریباً با هم برابر و بیشتر از میزان غلات بهره‌برداری شده است.

- (۱) (الف) و (ب) (۲) (ب) و (پ) (۳) فقط (۳) (۴) (پ) و (ت)



(۴) (پ) و (ت)

نسبت شمار عبارت‌های نادرست به درست کدام است؟ ۴۶۷

- بدن ما برای انجام فعالیت‌های ارادی و غیرارادی گوناگون به ماده و انرژی نیاز دارد.
- یکی از راه‌های آزاد شدن انرژی مواد مانند سوخت‌های فسیلی، سوزاندن آن‌هاست.
- واکنش‌هایی که دمای بدن را کنترل و تنظیم می‌کنند، با آهنگ یکسانی به انجام می‌رسند.
- افزایش نامتناسب برخی مولکول‌ها و یون‌ها در وعده‌های غذایی سبب افزایش وزن و دیگر بیماری‌ها خواهد شد.

۱ (۱) $\frac{1}{3}$ ۲ (۲) ۳ (۳) ۴ (۴) ۳

کدام‌یک از مطالب زیر نادرست است؟ ۴۶۸

- (۱) شیر و فراورده‌های آن، منبع مهمی برای تأمین پروتئین و به ویژه یون سدیم است.
- (۲) گوشت قرمز و ماهی افزون‌بر پروتئین، محتوی انواع ویتامین و مواد معدنی است.
- (۳) مصرف غذا، انرژی مورد نیاز برای حرکت ماهیچه‌ها و ارسال پیام‌های عصبی را تأمین کرده و مواد اولیه برای ساخت و رشد بخش‌های گوناگون بدن را فراهم می‌کند.
- (۴) سوء تغذیه هنگامی خودنمایی می‌کند که وعده‌های غذایی با کمبود نوع خاصی از اتم‌ها، مولکول‌ها و یا یون‌ها همراه باشد و در این شرایط، احتمال ابتلای فرد به بیماری افزایش می‌یابد.

درستی یا نادرستی مطالب زیر، به ترتیب در کدام گزینه آمده است؟ ۴۶۹

- (الف) میزان انرژی هر ماده غذایی به جرم آن بستگی دارد که با سوختن آن، بخشی از این انرژی آزاد می‌شود.
- (ب) کمبود کلسیم در مواد غذایی منجر به پوکی استخوان می‌شود.
- (پ) در تولید انبوه مواد غذایی، به دلیل فساد و دشواری نگهداری آن‌ها، حفظ کیفیت و ارزش مواد غذایی اهمیت بسزایی دارد.
- (ت) ارزش مواد غذایی در تأمین ماده و انرژی مورد نیاز بدن یکسان است.
- (ث) انرژی مورد نیاز برای انجام فعالیت‌های مختلف فقط از واکنش‌های شیمیایی تأمین می‌شود.
- (۱) درست - درست - درست - نادرست - نادرست
(۲) نادرست - درست - درست - نادرست - درست
(۳) درست - نادرست - درست - نادرست - درست
(۴) درست - درست - نادرست - نادرست - نادرست

چه تعداد از مطالب زیر در مورد چربی و روغن درست است؟ ۴۷۰

- (الف) هر دو جزء ترکیبات آلی هستند.
- (ب) واکنش‌پذیری چربی از روغن بیشتر است.
- (پ) هر دو ترکیب سیرنشده هستند و در ساختار خود پیوند دوگانه دارند.
- (ت) روغن در دمای اتاق حالت فیزیکی جامد و چربی حالت فیزیکی مایع دارد.
- (ث) چربی برخلاف روغن از جمله ترکیب‌های آلی است و این دو ترکیب به دلیل تفاوت در ساختار، رفتارهای فیزیکی و شیمیایی متفاوتی دارند.
- ۱ (۱) ۲ (۲) ۳ (۳) ۴ (۴) ۴

دما، انرژی گرمایی و گرما (صفحه ۵۴ تا ۵۸ کتاب درسی)

کدام‌یک از گزینه‌های زیر درست است؟ ۴۷۱

- (۱) در شیمی، بررسی ساختار مواد و فرایندها از دیدگاه میکروسکوپی، اهمیت و جایگاه ویژه‌ای دارد.
- (۲) داغی یا خنکی نوشیدنی و سردی یا گرمی هوا، نشانه‌ای از تفاوت دما است.
- (۳) ذره‌های سازنده ماده، در حالت جامد، هیچ‌گونه تحرک و جنب‌وجوشی ندارند.
- (۴) مقایسه میزان جنبش ذره‌ها در حالت‌های مختلف فیزیکی، به صورت مقابل است: گاز < مایع = جامد

چند مورد از مطالب زیر توسط دمای ماده مشخص می‌شود؟ ۴۷۲

- (الف) میزان سردی و گرمی مواد
- (ب) میانگین انرژی جنبشی ذره‌های سازنده ماده
- (ت) میانگین انرژی پتانسیل ذره‌های سازنده ماده
- ۱ (۱) ۲ (۲) ۳ (۳) ۴ (۴) ۴

کدام‌یک از گزینه‌های زیر، نادرست است؟ ۴۷۳

- (۱) از جمله ویژگی‌های مشترک میان همه مواد، وجود جنبش‌های نامنظم ذره‌های سازنده آن‌ها در دمای معین است.
- (۲) از کمیت دما، فقط برای بیان میزان جنبش گازها می‌توان استفاده کرد.
- (۳) مقایسه میانگین انرژی جنبشی اتم‌ها در دو شکل داده شده، به صورت $A > B$ است.
- (۴) هر چه دمای ماده بیشتر باشد، میانگین تندی و میانگین انرژی جنبشی ذره‌های سازنده آن بیشتر است.


اگر تست‌های این بخش رو نمی‌تونن درست حل کنی، یعنی هنوز فرق بین دما، انرژی گرمایی و گرما رو متوجه نشدی و درسامه لازمی! 🙄

چه تعداد از موارد زیر درست هستند؟ ۴۷۴

- دمای یک ماده، برای توصیف میانگین تندی و میانگین انرژی جنبشی ذره‌های سازنده آن ماده به کار می‌رود.
- انرژی گرمایی یک نمونه ماده هم‌ارز با مجموع انرژی جنبشی ذره‌های سازنده آن ماده است و مقدار آن فقط به دمای ماده بستگی دارد.
- یکای رایج دما، کلونین (K) و یکای دما در SI، درجه سلسیوس ($^{\circ}C$) است.
- شکل مقابل، افزایش میزان جنبش ذره‌های سازنده کاکائو در اثر افزایش دما را نشان می‌دهد که باعث می‌شود کاکائو حالت خمیری و روان داشته باشد.
- به شکلی از انرژی که میان یک جسم با دمای بالاتر و جسم با دمای پایین‌تر جریان می‌یابد، گرما می‌گویند.



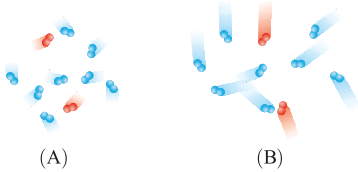
۱ (۱) ۲ (۲) ۳ (۳) ۴ (۴) ۵



۴۷۵ شکل روبه‌رو اثر دما بر میزان جنبش مولکول‌ها را نشان می‌دهد. با توجه به این شکل، کدام یک از گزینه‌های زیر نادرست است؟

- (۱) مقایسه میزان جنبش مولکول‌ها در این سه حالت ماده به صورت $(۱) > (۲) > (۳)$ است.
- (۲) هر چه دما بالاتر باشد، میزان جنبش ذره‌ها در هر یک از حالت‌های ماده بیشتر است.
- (۳) ذره‌های سازنده ماده در حالت (۳) برخلاف حالت (۱) همواره در حال جنبش هستند.
- (۴) در حالت‌های (۲) و (۳) جنبش مولکول‌ها به صورت دائمی و نامنظم انجام می‌شود.

۴۷۶ شکل‌های زیر، دو نمونه از هوای صاف یک شهر با جرم یکسان را نشان می‌دهد. با توجه به این شکل، کدام مورد (موارد) زیر نادرست است؟

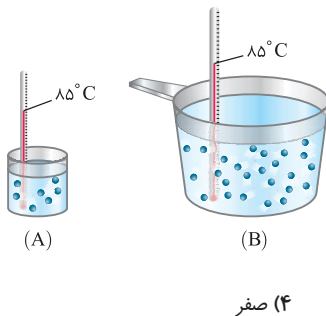


- (الف) اگر شکل A نمونه‌ای از هوا را در یک روز زمستانی نشان دهد، شکل B نمونه‌ای از هوا در یک روز تابستانی است.
- (ب) با توجه به اینکه تعداد مولکول‌های موجود در دو نمونه یکسان است، انرژی گرمایی ذره‌های سازنده نمونه B بیشتر از نمونه A می‌باشد.
- (پ) سرعت حرکت و میانگین تندی ذره‌های سازنده نمونه B بیشتر از نمونه A است.
- (ت) مجموع انرژی جنبشی ذره‌های سازنده هر دو نمونه یکسان است.

- (۱) (الف) و (ب)
- (۲) (پ) و (ت)
- (۳) فقط (ت)
- (۴) (ب) و (ت)

۴۷۷ چند مورد از مطالب زیر درست‌اند؟

- اگر دمای ماده X بیشتر از ماده Y باشد، انرژی گرمایی ماده X نیز بیشتر از انرژی گرمایی ماده Y خواهد بود.
- دما معیاری از میزان گرمی یا سردی یک جسم است و نماد دما برحسب کلوین، « θ » و برحسب درجه سلسیوس، « T » است.
- بوی غذای گرم آسان‌تر و سریع‌تر از غذای سرد به مشام می‌رسد؛ زیرا افزایش دما باعث افزایش جنبش مولکول‌های ماده می‌شود.
- در شکل مقابل اگر مقداری از آب طرف B را به آب طرف A اضافه کنیم، انرژی گرمایی ذره‌های آب موجود در طرف B کاهش و میانگین تندی ذره‌های آب موجود در طرف A افزایش می‌یابد.



(۴) صفر

۴۷۸ کدام عبارت‌ها درست هستند؟

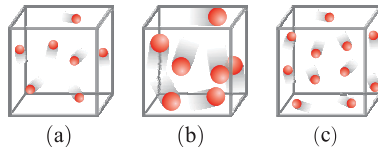
- (الف) دمای یک ماده، تعیین‌کننده مجموع انرژی جنبشی ذره‌های سازنده آن ماده است.
- (ب) دمای یک جسم همانند انرژی گرمایی آن به مقدار جسم بستگی دارد.
- (پ) جنبش ذره‌های H_2O در حالت بخار برخلاف حالت یخ به صورت نامنظم است.

(ت) ارزش دمایی $1^\circ C$ با $1 K$ برابر است و در فرایندهایی که دما تغییر می‌کند، $\Delta\theta = \Delta T$ می‌باشد.

(ث) گرما و تغییر دما برخلاف انرژی گرمایی برای توصیف یک فرایند به کار می‌روند و از ویژگی‌های یک ماده نیستند.

- (۱) (الف)، (ب) و (پ)
- (۲) (پ)، (ت) و (ث)
- (۳) (ت) و (ث)
- (۴) (ب) و (ت)

۴۷۹ هر یک از سامانه‌ها در شکل زیر، محتوی یک نمونه گاز نجیب در دمای اتاق است. با توجه به آن، پاسخ صحیح هر سه پرسش زیر در کدام گزینه آمده است؟



(الف) گاز موجود در ظرف (b) و گاز موجود در ظرف (c) به ترتیب کدام است؟ (آرگون و هلیم)

(ب) مقایسه انرژی گرمایی سامانه‌های a، b و c به کدام صورت است؟

(پ) اگر گازهای موجود در این سامانه بدون دادوستد انرژی با محیط پیرامون با یکدیگر مخلوط شوند، کدام کمیت (دما - انرژی گرمایی) تغییر می‌کند؟

(۱) آرگون و هلیم - $a = b$ و $a < c$ - انرژی گرمایی

(۲) آرگون و هلیم - $a < b$ و $a > c$ - دما

(۳) هلیم و آرگون - $a = b$ و $a > c$ - انرژی گرمایی

(۴) هلیم و آرگون - $a < b$ و $a > c$ - انرژی گرمایی

۴۸۰ چند مورد از مطالب زیر درست نیست؟

(الف) دما برابر میانگین انرژی جنبشی و تندی ذرات سازنده یک ماده است.

(ب) دمای یک جسم با میانگین سرعت و میانگین انرژی جنبشی ذره‌های سازنده آن، رابطه مستقیم دارد.

(پ) گرما و دما از ویژگی‌های یک نمونه ماده محسوب می‌شوند و به جرم ماده وابسته هستند.

(ت) دو ظرف آب با دمای متفاوت قطعاً انرژی گرمایی متفاوتی دارند.

- (۱) ۱
- (۲) ۲
- (۳) ۳
- (۴) ۴

۴۸۱ کدام دو عبارت زیر نادرست‌اند؟

- (الف) گرما را می‌توان هم‌ارز با آن مقدار انرژی گرمایی دانست که به دلیل تفاوت در دما جاری می‌شود.
 (ب) گرما را با نماد Q نشان می‌دهند و یکای اندازه‌گیری آن در SI، ژول است که معادل $1 \text{ kg} \cdot \text{m}^2 \cdot \text{s}^{-2}$ است.
 (پ) اگر یک استکان چای با دمای 90°C درون اتاقی با دمای 25°C قرار داده شود، با گذشت زمان، دما و انرژی گرمایی چای کاهش می‌یابد.
 (ت) کالری یکی از واحدهای اندازه‌گیری دماست و هر یک کالری معادل $4/18$ ژول است.
 (ث) انرژی گرمایی آب استخر با دمای 4°C از دمای یک لیوان آب 6°C کمتر است.
- (۱) (الف) و (ت) (۲) (ب) و (پ) (۳) (ب) و (ث) (۴) (ت) و (ث)

۴۸۲ اگر دمای مایع موجود در دو ظرف A و B با هم برابر باشد، چه تعداد از موارد زیر در دو ظرف حتماً با هم برابر است؟

- (الف) میانگین تندی (ب) انرژی گرمایی (پ) مجموع انرژی جنبشی
 (ت) میانگین سرعت حرکت ذرات (ث) سرعت حرکت هر ذره (ج) مجموع انرژی پتانسیل
- (۱) ۲ (۲) ۳ (۳) ۴ (۴) ۵

تجربی ۱۴۰۲ (نوبت اول)

۴۸۳ چند مورد از مطالب زیر درست است؟

- انجام یک فرایند در یک سامانه، می‌تواند سبب تغییر دمای آن سامانه شود.
 - ظرفیت گرمایی جرم معینی از آب، بیشتر از ظرفیت گرمایی همان مقدار روغن زیتون است.
 - انرژی گرمایی یک نمونه ماده، کمیتی است که هم به دما و هم به مقدار آن نمونه وابسته است.
 - گرمای یک نمونه ماده از ویژگی‌های آن است و دادوستد آن، موجب تغییر دمای آن نمونه می‌شود.
- (۱) ۱ (۲) ۲ (۳) ۳ (۴) ۴

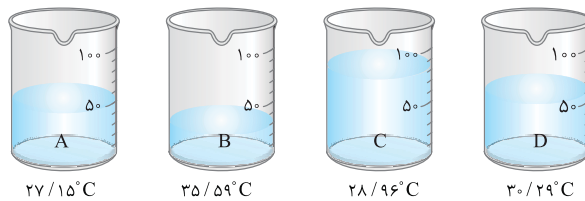
ظرفیت گرمایی و ظرفیت گرمایی ویژه (صفحه ۵۶ تا ۵۸ کتاب درسی)

در این قسمت براتون تست‌های مفهومی ظرفیت گرمایی و ظرفیت گرمایی ویژه رو آوریم.

۴۸۴ کدام عبارت، درباره ظرفیت گرمایی و ظرفیت گرمایی ویژه، نادرست است؟

- (۱) ظرفیت گرمایی ماده، هم‌ارز با گرمای لازم برای افزایش دمای آن به اندازه یک درجه سلسیوس است.
 (۲) اگر به دو جسم A و B مقدار یکسانی گرما دهیم، جسمی که ظرفیت گرمایی بیشتری دارد، افزایش دمای کمتری خواهد داشت.
 (۳) ظرفیت گرمایی یک ماده، همانند ظرفیت گرمایی ویژه آن به جرم و نوع ماده بستگی دارد.
 (۴) رابطه بین ظرفیت گرمایی و ظرفیت گرمایی ویژه به صورت «ظرفیت گرمایی = ظرفیت گرمایی ویژه \times جرم» است.

۴۸۵ چهار نمونه 50°C گرمی از چهار مایع گوناگون با دمای 25°C ، در بشرهای A تا D ریخته و به هر یک، 450 J گرما می‌دهیم. اگر دمای پایانی آن‌ها، مطابق شکل زیر بر روی آن‌ها درج شده باشد، ترتیب افزایش ظرفیت گرمایی ویژه مایع داخل بشرها به کدام صورت است؟



- (۱) $A < C < D < B$ (۲) $B < C < D < A$ (۳) $D < B < C < A$ (۴) $B < D < C < A$

۴۸۶ با توجه به جدول داده شده، کدام عبارت درست است؟

ترکیب	A	B	C
ظرفیت گرمایی ویژه ($\text{J} \cdot \text{g}^{-1} \cdot ^\circ\text{C}^{-1}$)	۲/۱۵	۳/۴۵	۲/۳۰

- (۱) اگر 10°C گرم از هر سه ماده را در اختیار داشته باشیم، ظرفیت گرمایی A، بیشتر است.
 (۲) ظرفیت گرمایی 3°C گرم از ماده B از ظرفیت گرمایی 5°C گرم ماده C، کمتر است.
 (۳) اگر به جرم یکسان از این سه ماده، گرمای یکسانی داده شود، میزان افزایش دمای ماده B، بیشتر است.
 (۴) نوع ذره‌های تشکیل‌دهنده دو ماده A و C، یکسان است.

۴۸۷ کدام موارد از مطالب زیر درست است؟

- (الف) به مقدار گرمای مورد نیاز برای افزایش دمای یک جسم به اندازه یک درجه سلسیوس، ظرفیت گرمایی آن جسم می‌گویند.
 (ب) ظرفیت گرمایی یک گرم از یک ماده، ظرفیت گرمایی ویژه یا گرمای ویژه آن ماده را نشان می‌دهد.
 (پ) در دما و فشار ثابت، ظرفیت گرمایی ویژه برخلاف ظرفیت گرمایی، به نوع و مقدار ماده بستگی دارد.
 (ت) به ازای دادن مقدار مساوی گرما به مواد مختلف با جرم‌های یکسان، افزایش دمای ماده‌ای بیشتر است که گرمای ویژه بیشتری دارد.
- (۱) (الف)، (ب) و (پ) (۲) (الف) و (ب) (۳) (الف)، (پ) و (ت) (۴) (ب) و (ت)

۴۸۸ چند مورد از مطالب زیر نادرست است؟

(الف) رابطه بین ظرفیت گرمایی (C) و ظرفیت گرمایی ویژه (c). به صورت $C = \frac{c}{m}$ است.

(ب) ظرفیت گرمایی یک ماده فقط به نوع و مقدار ماده بستگی دارد.

(پ) مقایسه ظرفیت گرمایی ویژه سه فلز نقره، آلومینیم و طلا به صورت (طلا < نقره < آلومینیم) است.

(ت) اگر جرم یکسانی از آب و روغن زیتون با دمای 70°C را در محیطی با دمای 25°C قرار دهیم، آب زودتر با محیط هم‌دما می‌شود.

۱ (۱) ۲ (۲) ۳ (۳) ۴ (۴)

۴۸۹ کدام موارد از مطالب زیر، درباره شکل‌های داده شده درست است؟

با هم ببیندیشیم کتاب درسی



200g روغن زیتون (75°C) $\xrightarrow{19700\text{J}}$ 200g روغن زیتون (25°C)

200g JA (75°C) $\xrightarrow{41800\text{J}}$ 200g JA (25°C)

(الف) اگر یک تخم‌مرغ در آب و یک تخم‌مرغ در روغن زیتون انداخته شود، تخم‌مرغ موجود در آب می‌پزد.

(ب) به دلیل ظرفیت گرمایی بالاتر آب، با دادن گرمای یکسان، دمای آب افزایش کمتری را نشان خواهد داد.

(پ) نیروهای بین مولکولی در روغن زیتون، بسیار قوی‌تر از آب می‌باشد.

(ت) ظرفیت گرمایی ویژه آب، حدوداً $2/1$ برابر ظرفیت گرمایی ویژه روغن زیتون است.

۱ (الف) و (پ) ۲ (الف) و (ب) ۳ (ب)، (پ) و (ت) ۴ (الف)، (ب) و (ت)

۴۹۰ پاسخ صحیح هر سه پرسش زیر درباره چربی و روغن، در کدام گزینه بیان شده است؟

(الف) حالت فیزیکی روغن و چربی به ترتیب در دمای اتاق چیست؟

(ب) در کدام یک تعداد پیوندهای دوگانه و واکنش‌پذیری مولکول بیشتر است؟

(پ) نیروهای بین مولکولی در کدام یک بیشتر است؟

۱ جامد و مایع - روغن - روغن ۲ مایع و جامد - روغن - روغن

۳ مایع و جامد - روغن - چربی ۴ مایع و جامد - چربی - روغن

۴۹۱ کدام موارد از مطالب زیر، درست‌اند؟

(الف) دما و گرما معادل یکدیگر می‌باشند و میان آن‌ها رابطه وجود دارد.

(ب) اگر در شکل روبه‌رو، ظرف (الف) حاوی آب 75°C درجه سلسیوس و ظرف (ب) حاوی روغن

زیتون 75°C درجه سلسیوس باشد، تخم‌مرغ فقط در ظرف (الف) می‌پزد.

(پ) با قرار دادن یک استکان چای با دمای 90°C در یک اتاق با دمای 25°C ، پس از

مدتی، گرمای استکان چای و اتاق با یکدیگر برابر می‌شود.

(ت) هر یک ژول، تقریباً $24/100$ برابر یک کالری است.

۱ (ب) و (پ)

۲ (ب)، (پ) و (ت)

۳ (الف) و (ت)

۴ (ب) و (ت)

۴۹۲ چه تعداد از عبارات‌های زیر درست‌اند؟

• آب نسبت به روغن زیتون ظرفیت گرمایی ویژه بیشتری دارد و به همین علت تخم‌مرغ درون آب 75°C نسبت به روغن زیتون 75°C دیرتر می‌پزد.

• اگر ظرفیت گرمایی ویژه ماده A بیشتر از ماده B باشد، ظرفیت گرمایی ماده A نیز بیشتر از ماده B خواهد بود.

• اگر بخواهیم دمای جرم یکسانی از آب، سدیم کلرید و طلا را به یک اندازه افزایش دهیم، نمونه آب گرمای بیشتری را جذب می‌کند.

• اگر جرم یک نمونه ماده ۲ برابر و دمای آن ۴ برابر شود، ظرفیت گرمایی ماده ۸ برابر می‌شود.

• اگر ظرفیت گرمایی یک مول از فلزات با یکدیگر برابر باشد، هر چه جرم مولی فلز بیشتر باشد، ظرفیت گرمایی ویژه آن کمتر است.

۱ (۲) ۲ (۳) ۳ (۴) ۴ (۵)

۴۹۳ درستی یا نادرستی مطالب زیر، به ترتیب در کدام گزینه آمده است؟

(الف) گرمای ویژه آب در هر سه حالت فیزیکی جامد، مایع و گاز با هم برابر است.

(ب) وجود ناخالصی در یک نمونه تأثیر چندانی بر ظرفیت گرمایی آن نمونه ندارد.

(پ) مقدار گرمای لازم برای افزایش دمای یک گرم آب به اندازه یک درجه سلسیوس، برابر یک کالری است.

(ت) اگر به ازای دادن مقدار گرمای یکسان به دو نمونه آب و روغن زیتون، دمای هر دو به یک اندازه افزایش پیدا کند، جرم نمونه آب بیشتر است.

۱ درست - نادرست - درست - نادرست ۲ نادرست - درست - درست - درست

۳ نادرست - نادرست - درست - درست ۴ نادرست - نادرست - درست - نادرست

خود را بیازماید کتاب درسی



(ب)



(الف)

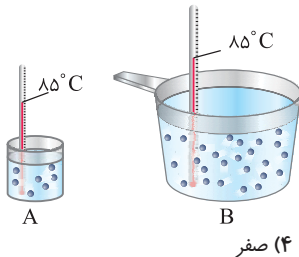
۴۹۴ کلمه مناسب برای تکمیل جاهای خالی زیر در کدام گزینه آمده است؟ (ظرفیت گرمایی ویژه آب و اتانول به ترتیب برابر $4/18$ و $2/4$ ژول بر گرم بر درجه سلسیوس است.)

(الف) ظرفیت گرمایی یک مول اتانول از ظرفیت گرمایی یک مول آب است.
 (ب) اگر بخواهیم یک مول روغن و یک مول چربی را به یک ترکیب سیرشده تبدیل کنیم، یک مول چربی تعداد مول گاز هیدروژن را جذب می کند.
 (پ) اگر تکه ای نان و تکه ای سیب زمینی داغ با جرم و دمای یکسان را هم زمان در محیطی با دمای 20°C قرار دهیم، سیب زمینی نسبت به نان با محیط هم دما می شود.

۴۹۵ چهار قطعه با جرم های برابر از چهار فلز مختلف در اختیار داریم و به هر کدام از آن ها به مقدار یکسان گرما می دهیم. اگر پس از جذب کامل این گرما توسط هر یک از این فلزها، تغییرات دمایی آن ها مطابق جدول زیر باشد، مقایسه ظرفیت گرمایی ویژه این فلزها کدام است؟

	A	B	C	D
دمای اولیه ($^{\circ}\text{C}$)	۲۵	۲۵	۲۵	۲۵
دمای نهایی ($^{\circ}\text{C}$)	۳۵	۳۱	۴۹	۲۸

- (۱) بیشتر - کمتری - دیرتر
 (۲) بیشتر - بیشتری - دیرتر
 (۳) کمتر - کمتری - دیرتر
 (۴) کمتر - بیشتری - زودتر
- (۱) $C > A > B > D$
 (۲) $B > D > C > A$
 (۳) $D > B > A > C$
 (۴) $A > B > D > C$



۴۹۶ با توجه به شکل های مقابل چند مورد درست است؟ (هر دو ظرف محتوی آب هستند.)

- برای افزایش دمای محتوای دو ظرف به اندازه 1°C گرمای یکسانی لازم است.
 - میانگین انرژی جنبشی و میانگین تندی ذره های سازنده دو ظرف یکسان است.
 - تخم مرغ در ظرف B زودتر از ظرف A پخته می شود.
 - به دلیل بیشتر بودن انرژی گرمایی ظرف B نسبت به ظرف A، گرما از جسم B به جسم A منتقل می شود.
 - با اضافه کردن محتویات ظرف A به ظرف B، سرعت جنبش ذرات موجود در ظرف B افزایش می یابد.
- (۱) ۱ (۲) ۲ (۳) ۳ (۴) ۴

۴۹۷ به 100 گرم از ماده A و 200 گرم ماده B به طور جداگانه مقدار برابری گرما می دهیم. اگر تغییر دمای ماده B دو برابر تغییر دمای ماده A باشد، کدام مقایسه درباره ظرفیت گرمایی ویژه این دو ماده درست است؟

- (۱) ظرفیت گرمایی ویژه ماده A دو برابر ظرفیت گرمایی ویژه ماده B است.
 (۲) ظرفیت گرمایی ویژه ماده B دو برابر ظرفیت گرمایی ویژه ماده A است.
 (۳) ظرفیت گرمایی ویژه ماده A چهار برابر ظرفیت گرمایی ویژه ماده B است.
 (۴) ظرفیت گرمایی ویژه ماده B چهار برابر ظرفیت گرمایی ویژه ماده A است.

مسائل ظرفیت گرمایی و ظرفیت گرمایی ویژه (صفحه ۵۶ تا ۵۸ کتاب درسی)

هالا وقتشه بریم سراغ مسائل ظرفیت گرمایی و ظرفیت گرمایی ویژه!

۴۹۸ اگر با صرف $18/2$ کیلوژول گرما، دمای یک کیلوگرم آلومینیم از 15°C به 35°C افزایش یابد، گرمای ویژه این فلز برابر چند $\text{J.g}^{-1}.\text{C}^{-1}$ است؟

ریاضی ۱۴۰۲ (نوبت اول)

- (۱) $9/8$ (۲) $18/9$ (۳) $9/1$ (۴) $1/9$

۴۹۹ ظرفیت گرمایی ویژه آلومینیم، برابر $9/\text{J.g}^{-1}.\text{C}^{-1}$ است. اگر به 20 گرم از این فلز در دمای 24°C ، به میزان 1260 ژول گرما دهیم، دمای نهایی آن برحسب $^{\circ}\text{C}$ کدام است؟

- (۱) 46 (۲) 94 (۳) 42 (۴) 70

۵۰۰ به نمونه ای از سدیم کلرید با ظرفیت گرمایی $8/5 \text{ J.g}^{-1}.\text{C}^{-1}$ ، چند کیلوژول گرما بدهیم تا دمای آن از 25°C به 200°C افزایش یابد؟

- (۱) $1/4875$ (۲) 435 (۳) $1487/5$ (۴) 435

۵۰۱ $453/6$ ژول گرما، باعث افزایش دمای مقداری CO_2 ، از دمای 13°C به دمای 58°C شده است. جرم CO_2 چند گرم است؟ (ظرفیت گرمایی ویژه CO_2 برابر 84 ژول بر گرم بر درجه سانتی گراد است.)

- (۱) 6 (۲) 45 (۳) 24 (۴) 12

۵۰۲ در صورتی که به $2/5$ مول اتانول ($\text{C}_2\text{H}_5\text{OH}$)، 6348 ژول گرما بدهیم، دمای آن از 13°C به 36°C افزایش می یابد. ظرفیت گرمایی ویژه اتانول برحسب $\text{J.g}^{-1}.\text{C}^{-1}$ کدام است؟

- (۱) $110/4$ (۲) $4/8$ (۳) $2/4$ (۴) $2/3$

۵۰۳ دمای یک ماده از جنس طلا به جرم 16 گرم، از 26°C به 146°C افزایش یافته است. گرمای جذب شده از این ماده، برحسب kJ و ظرفیت گرمایی آن برحسب $\text{J.g}^{-1}.\text{C}^{-1}$ ، به ترتیب از راست به چپ کدام است؟ (ظرفیت گرمایی ویژه طلا برابر $13/\text{J.g}^{-1}.\text{C}^{-1}$ است.)

- (۱) $2/08 - 2496/6$ (۲) $2/08 - 249/6$ (۳) $0/13 - 303/69$ (۴) $0/13 - 303/69$

۵۰۴ فلز A به جرم ۴۵ گرم، برای افزایش دما به میزان 38°C ، به جذب $104/4$ کیلوژول گرما نیاز دارد. با توجه به جدول زیر، جنس فلز A، کدام است؟

Ni	Au	Ag	Al	فلز
۰/۳۴	۰/۱۳	۰/۲۴	۰/۹۰	ظرفیت گرمایی ویژه $(\text{J.g}^{-1}.\text{C}^{-1})$

Al (۴) Ni (۳) Ag (۲) Au (۱)

۵۰۵ با توجه به جدول داده شده که ظرفیت گرمایی ویژه چند ماده را نشان می‌دهد، اگر به ۱۶ گرم از هر کدام از آن‌ها، ۱۱ کیلوژول گرما داده شود، مقایسه تغییر دمای آن‌ها، به کدام صورت است؟

D	C	B	A	ماده
۰/۶۵	۰/۵۸	۰/۲۵	۰/۴۰	ظرفیت گرمایی ویژه $(\text{J.g}^{-1}.\text{C}^{-1})$

B>A>C>D (۴) A>B>C>D (۳) D>C>A>B (۲) D>C>B>A (۱)

۵۰۶ به $89/6$ لیتر گاز که ابتدا در شرایط STP قرار دارد، 7040 ژول گرما می‌دهیم تا دمای آن به اندازه 50°C افزایش یابد. ظرفیت گرمایی ویژه این گاز برحسب $(\text{J.g}^{-1}.\text{C}^{-1})$ کدام است؟ (جرم مولی گاز ۱۶ گرم بر مول است.)

۱/۲ (۴) ۳/۲ (۳) ۲/۲ (۲) ۲/۴ (۱)

۵۰۷ نمونه‌ای از فلز نقره که دارای دمای 24°C است، $75/816$ ژول گرما را جذب می‌کند و دمای آن به 29°C می‌رسد. اگر ظرفیت گرمایی ویژه فلز نقره برابر $(0/24\text{J.g}^{-1}.\text{C}^{-1})$ باشد، حجم این نمونه چند سانتی‌متر مکعب است؟

۶/۵ (۱) ۶/۶۵ (۲) ۶ (۳) ۶/۳۱ (۴)

۵۰۸ چند کالری گرما باید به $31/5$ گرم متانول داده شود تا دمای آن به میزان 20°C افزایش یابد و این مقدار گرما دمای چند گرم نقره را می‌تواند به اندازه 50°C افزایش دهد؟ (ظرفیت گرمایی ویژه متانول و نقره برابر $2/2\text{J.g}^{-1}.\text{K}^{-1}$ و $24\text{J.g}^{-1}.\text{K}^{-1}$ است و یک کالری را معادل $4/2$ ژول در نظر بگیرید.)

۱۱۵/۵ - ۵۶۰ (۱) ۱۱۵/۵ - ۵۶۰ (۲) ۸۲/۵ - ۳۳۰ (۳) ۱۱۵/۵ - ۳۳۰ (۴)

۵۰۹ دمای 36 گرم آب را از 89°C به 37°C می‌رسانیم. در صورتی که گرمای آزاد شده در این فرایند را برای گرم کردن مقداری فلز آلومینیم به اندازه 78°C استفاده کنیم، جرم آلومینیم به کار رفته، چند گرم است؟ (ظرفیت گرمایی ویژه آلومینیم و آب، به ترتیب برابر $0/90$ و $4/2$ ژول بر گرم بر درجه سانتی‌گراد است.)

۱۱۲ (۴) ۵/۱۴ (۳) ۱۲۱ (۲) ۱۱/۲ (۱)

۵۱۰ از سوختن کامل هر مول گاز اتان (C_2H_6) ، 1428 کیلوژول گرما آزاد می‌شود. چند گرم اتان، باید به‌طور کامل بسوزد تا گرمای حاصل از آن بتواند $71/4$ گرم آب را از دمای 3°C در فشار یک اتمسفر به دمای جوش برساند؟

$(c_{\text{H}_2\text{O}} = 4/2\text{J.g}^{-1}.\text{C}^{-1}, C = 12, H = 1: \text{g.mol}^{-1})$
 ۱۴/۷ (۴) ۰/۴۴۱ (۳) ۰/۱۴۷ (۲) ۴۴۱ (۱)

۵۱۱ $1/2$ مول فلز آلومینیم، با جذب مقداری گرما به اندازه 51°C افزایش دما پیدا می‌کند. اگر همین مقدار گرما را 54 گرم سدیم کلرید جذب کند، دمای آن چند درجه سانتی‌گراد افزایش می‌یابد؟ (ظرفیت گرمایی ویژه آلومینیم و سدیم کلرید را به ترتیب برابر $0/90$ و $0/85$ ژول بر گرم بر درجه سانتی‌گراد در نظر بگیرید.)

$(Al = 27\text{g.mol}^{-1})$
 ۶۴/۸ (۴) ۲/۴ (۳) ۱/۲ (۲) ۳۲/۴ (۱)

۵۱۲ 37 گرم پروپانول $(\text{C}_3\text{H}_7\text{OH})$ را در 53 گرم آب خالص، به‌طور کامل حل می‌کنیم. پس از حل شدن، دما به 3°C می‌رسد. اگر این محلول، $7/785$ کیلوژول گرما را جذب کند، دمای نهایی آن برحسب $^{\circ}\text{C}$ کدام است؟

$(c_{\text{C}_3\text{H}_7\text{OH}} = 2/4\text{J.g}^{-1}.\text{C}^{-1}, c_{\text{H}_2\text{O}} = 4/2\text{J.g}^{-1}.\text{C}^{-1})$
 ۵۵ (۴) ۲۵ (۳) ۹۱ (۲) ۶۱ (۱)

۵۱۳ $22/2$ گرم کلسیم کلرید را در 46 گرم آب، به‌طور کامل حل می‌کنیم. بر اثر این فرایند، دمای محلول، تقریباً به اندازه 81°C افزایش می‌یابد. بر اثر انحلال هر مول کلسیم کلرید در آب، به تقریب چند کیلوژول گرما آزاد می‌شود؟

$(c_{\text{H}_2\text{O}} = 4/2\text{J.g}^{-1}.\text{C}^{-1}, c_{\text{CaCl}_2} = 0/65\text{J.g}^{-1}.\text{C}^{-1}, Ca = 40, Cl = 35/5: \text{g.mol}^{-1})$
 ۱۶/۵ (۴) ۲۳ (۳) ۸۴ (۲) ۷۸ (۱)

۵۱۴ ظرفی دارای 60 کیلوگرم آب 40°C است. می‌خواهیم به وسیله سوزاندن زغال، دمای آن را به 80°C برسانیم. اگر 40 درصد گرمای حاصل از زغال به هدر رفته و از سوختن هر گرم زغال 32kJ گرما تولید شود، برای افزایش دمای آب چند مول زغال باید بسوزد؟

(جرم مولی کربن $= 12\text{g.mol}^{-1}$ ، ظرفیت گرمایی ویژه آب $= 4/2\text{J.g}^{-1}.\text{C}^{-1}$)
 ۳۱۵ (۴) ۵۲۵ (۳) ۲۶/۲۵ (۲) ۴۳/۷۵ (۱)

۵۱۵ به نمونه‌ای از سیلیسیم به جرم ۲۵ گرم، ۵۶۸ ژول گرما می‌دهیم. اگر دمای این نمونه به اندازه 2°C افزایش یابد، به ترتیب چند درصد از گرمای داده شده صرف افزایش دمای سیلیسیم شده است و مقدار گرمای تلف شده در این فرایند، معادل با گرمای حاصل از انحلال چند میلی‌گرم کلسیم کلرید در آب است؟ (گرمای مولی انحلال کلسیم کلرید برابر $110 \text{ kJ}\cdot\text{mol}^{-1}$ است.) $(c_{\text{Si}} = 0.71 \text{ J}\cdot\text{g}^{-1}\cdot^{\circ}\text{C}^{-1})$

- (۱) $358 - 62/5$ (۲) $215 - 62/5$ (۳) $215 - 40$ (۴) $358 - 40$

۵۱۶ نمونه‌ای از کربن دی‌اکسید در اثر دریافت $4/62 \text{ kJ}$ گرما به دمای 73°C می‌رسد. اگر در این نمونه از کربن دی‌اکسید، $3/0 \times 10^{24}$ اتم اکسیژن وجود داشته باشد، دمای اولیه آن کدام است؟ (ظرفیت گرمایی ویژه کربن دی‌اکسید برابر $0.84 \text{ J}\cdot\text{g}^{-1}\cdot^{\circ}\text{C}^{-1}$ است.) $(C=12, O=16: \text{g}\cdot\text{mol}^{-1})$

- (۱) 23°C (۲) 123°C (۳) 48°C (۴) 5°C

۵۱۷ چه تعداد از عبارتهای زیر درست هستند؟ $(c_{\text{Ca}} = 0.63, c_{\text{Co}} = 0.42, c_{\text{Ne}} = 1.03: \text{J}\cdot\text{g}^{-1}\cdot^{\circ}\text{C}^{-1}, \text{Ne}=20, \text{Mg}=24, \text{Ti}=48: \text{g}\cdot\text{mol}^{-1})$

(الف) اگر برای افزایش دمای $5/0$ مول منیزیم از دمای $6/3^{\circ}\text{C}$ به $8/4^{\circ}\text{C}$ به $6/12$ کالری گرما نیاز باشد، ظرفیت گرمایی ویژه منیزیم برابر $1/02 \text{ J}\cdot\text{g}^{-1}\cdot^{\circ}\text{C}^{-1}$ است.

(ب) با گرمای لازم برای افزایش دمای 105 گرم کلسیم به میزان 36°C ، دمای 126 گرم کبالت را می‌توان به میزان 45°C افزایش داد.
 (پ) اگر ظرفیت گرمایی یک مول منیزیم با ظرفیت گرمایی یک مول تیتانیم برابر باشد، ظرفیت گرمایی ویژه منیزیم دو برابر تیتانیم است.
 (ت) با $247/2$ ژول گرما، دمای $6/72$ لیتر گاز نئون را که در فشار 1 atm و دمای 0°C قرار دارد می‌توان به دمای 40°C رساند.

- (۱) ۱ (۲) ۲ (۳) ۳ (۴) ۴

در سال‌های اخیر، طراحان معماری نیکو، علاقه زیادی به مسائل تعادل گرمایی نشون‌داران ما هم براتون پندتا تست از این مدل آوریم که به این مدل مسائل مسلط بشین.

۵۱۸ $6/4$ گرم سدیم با دمای 10°C را در تماس با $4/1$ گرم طلا با دمای 90°C قرار می‌دهیم. در چه دمایی این دو جسم هم‌دمای خواهند شد؟ (از اتلاف انرژی صرف نظر شود.) $(c_{\text{Au}} = 0.128, c_{\text{Na}} = 1.23: \text{J}\cdot\text{g}^{-1}\cdot^{\circ}\text{C}^{-1})$

- (۱) ۱۵ (۲) ۳۵ (۳) ۲۵ (۴) ۴۰

۵۱۹ چند میلی‌لیتر آب مقطر با دمای 9°C باید به 75 میلی‌لیتر آب مقطر با دمای 35°C اضافه شود تا دمای پایانی سامانه، به 19°C برسد و برای افزایش دمای مخلوط حاصل از 19°C به 44°C ، چند کیلوژول گرما لازم است؟ (از تبادل گرما با محیط چشم‌پوشی شود.) $(c = 4/2 \text{ J}\cdot\text{g}^{-1}\cdot^{\circ}\text{C}^{-1})$ ریاضی خارج ۱۴۰۰

- (۱) $12/625 - 160$ (۲) $20/475 - 160$ (۳) $12/625 - 120$ (۴) $20/475 - 120$

۵۲۰ اگر یک قطعه 2 کیلوگرمی آهن و یک قطعه 500 گرمی آلومینیم، هر یک با دمای 50°C درون یک ظرف دارای دو لیتر آب با دمای 20°C انداخته شود، کاهش دمای هر قطعه فلز، به تقریب چند برابر افزایش دمای آب است؟ (ظرفیت گرمایی ویژه آب، آلومینیم و آهن به ترتیب برابر $4/2: \text{J}\cdot\text{g}^{-1}\cdot^{\circ}\text{C}^{-1}$ ، 0.9 و 0.45 است.)

- (۱) $3/24$ (۲) $5/47$ (۳) $6/23$ (۴) $7/47$

۵۲۱ یک ورقه فلزی به وزن 40 kg با گرمای ویژه $0.5 \text{ J}\cdot\text{g}^{-1}\cdot^{\circ}\text{C}^{-1}$ و دمای 450°C ، در 150 kg روغن با گرمای ویژه $2/5 \text{ J}\cdot\text{g}^{-1}\cdot^{\circ}\text{C}^{-1}$ و دمای 25°C فرو برده می‌شود. کدام مطلب درست است؟ (گرمای ویژه آب، برابر $4/2 \text{ J}\cdot\text{g}^{-1}\cdot^{\circ}\text{C}^{-1}$ در نظر گرفته شود.)

(۱) اگر روغن، همه گرمای داده شده از ورقه فلزی را جذب کند، مجموع تغییرات گرمایی ورقه و روغن، به صفر می‌رسد.
 (۲) اگر به جای روغن، آب (با جرم و دمای یکسان) به کار رود، دمای پایانی آب، بالاتر از دمای پایانی روغن خواهد بود.
 (۳) در مقایسه با دمای آغازی روغن، دمای پایانی سامانه به دمای آغازی ورقه فلزی، نزدیک‌تر است.
 (۴) در این فرایند، تغییرات دمایی ورقه فلزی کمتر از تغییرات دمایی روغن است.

موضوع ۲ تست ببری، گرم کردن یا سرد کردن مخلوطی از چند ماده است. شما همشون رو حل کنین.

۵۲۲ اگر دمای نمونه‌ای 150 گرمی از آلیاژ برنز (مخلوط فلزهای مس و قلع) در اثر از دست دادن 3114 J گرما از دمای 95°C به 35°C تغییر کند، چند درصد جرمی این آلیاژ را فلز قلع تشکیل داده است و ظرفیت گرمایی این آلیاژ برابر چند $\text{J}\cdot\text{g}^{-1}\cdot^{\circ}\text{C}^{-1}$ است؟ $(c_{\text{Cu}} = 0.38, c_{\text{Sn}} = 0.21: \text{J}\cdot\text{g}^{-1}\cdot^{\circ}\text{C}^{-1})$

- (۱) $88/5 - 20$ (۲) $51/9 - 80$ (۳) $88/5 - 80$ (۴) $51/9 - 20$

۵۲۳ 5 لیتر آب و 2 لیتر اتیلن گلیکول را با یکدیگر مخلوط کرده و درون رادیاتور خودرو استفاده می‌کنیم. مقدار گرمای جذب شده برای افزایش دمای این محلول به اندازه 20 درجه سلسیوس، چند کیلوژول می‌باشد؟ (گرمای ویژه آب و اتیلن گلیکول به ترتیب برابر $4/2$ و $2/4$ ژول بر گرم درجه سلسیوس است و ظرفیت گرمایی مواد در محلول تغییر نکرده است.) $(1 \text{ kg}\cdot\text{L}^{-1} = 1 \text{ kg}\cdot\text{L}^{-1})$ (چگالی آب)

- (۱) $105/6$ (۲) $314/4$ (۳) 420 (۴) $525/6$

۵۲۴ دمای نمونه‌ای از اتانول در اثر دریافت $1676/7 \text{ J}$ گرما از 12°C به 42°C می‌رسد. در این نمونه به تقریب چند اتم هیدروژن وجود دارد و این مقدار اتانول را از تخمیر بی‌هوازی چند گرم گلوکز می‌توان به دست آورد؟ $(C=12, H=1, O=16: \text{g}\cdot\text{mol}^{-1}, c_{\text{C}_2\text{H}_5\text{OH}} = 2/43 \text{ J}\cdot\text{g}^{-1}\cdot^{\circ}\text{C}^{-1})$

- (۱) $90 - 1/5 \times 10^{24}$ (۲) $90 - 1/8 \times 10^{24}$ (۳) $45 - 1/8 \times 10^{24}$ (۴) $45 - 1/5 \times 10^{24}$

- ۳ ۴۶۴ (A) همه موارد به جز (ب) درست هستند. بررسی عبارت (ب): کاهش جرم خورشید به عنوان تنها منبع حیات بخش انرژی، تبدیل ماده به انرژی را تأیید می کند.
- ۳ ۴۶۵ (A) موارد اول، سوم و چهارم درست هستند. بررسی موارد: مورد دوم: بخش عمده اتم‌ها، مولکول‌ها و یون‌های موجود در بدن از غذایی که می‌خوریم، تأمین می‌شود. مورد سوم: سرانه مصرف ماده غذایی، مقدار میانگین مصرف آن را به ازای هر فرد در یک گستره زمانی معین نشان می‌دهد. مورد پنجم: مطابق جدول سرانه مصرف سالانه مواد خوراکی، در ایران، نان و در جهان، شیر بیشترین سرانه مصرف را در بین مواد غذایی دارند.
- ۳ ۴۶۶ (A) فقط عبارت (پ) درست است. بررسی عبارت‌ها: عبارت‌های (الف) و (پ): نمودارهای (۱) و (۲) به ترتیب تولید و بهره‌برداری و نمودار میله‌ای، میزان غلات ذخیره شده را نشان می‌دهد. مطابق نمودار میله‌ای در سال ۲۰۱۳ میزان غلات ذخیره شده در انبارها تقریباً به ۶۰۰ میلیون تن در سال رسیده است. عبارت (ب): میزان بهره‌برداری از غلات در دهه اخیر، روند صعودی داشته و همواره افزایش یافته است. اما روند تغییرات میزان غلات ذخیره شده، منظم نیست و با افزایش و کاهش مواجه بوده است. عبارت (ت): توجه کنید که مقیاس نمودار غلات ذخیره شده با مقیاس نمودار تولید و بهره‌برداری متفاوت است. به طوری که در سال ۲۰۱۱، میزان غلات ذخیره شده حدود ۵۵۰ میلیون تن بوده است، در حالی که میزان تولید غلات در حدود ۲۳۰۰ میلیون تن بوده است.
- ۱ ۴۶۷ (A) عبارت سوم نادرست و سایر عبارت‌ها درست هستند. غذا انرژی لازم برای حرکت ماهیچه‌ها، ارسال پیام‌های عصبی و ... را تأمین می‌کند و همچنین مواد اولیه برای ساخت و رشد بخش‌های گوناگون بدن را فراهم می‌کند. همه این فرایندها وابسته به انجام واکنش‌های شیمیایی هستند که هر یک آهنگ ویژه‌ای دارند؛ واکنش‌هایی که دمای بدن را نیز کنترل و تنظیم می‌کنند. سایر گزینه‌ها درست هستند.
- ۱ ۴۶۸ (A) شیر و فراورده‌های آن، منبع مهمی برای تأمین پروتئین و به ویژه یون کلسیم است.
- ۱ ۴۶۹ (A) عبارت‌های (الف)، (ب) و (پ) درست و عبارت‌های (ت) و (ث) نادرست هستند. بررسی عبارت‌های نادرست: عبارت (ت): ارزش مواد غذایی در تأمین ماده و انرژی مورد نیاز بدن یکسان نیست و به نوع و مقدار آن وابسته است. عبارت (ث): انرژی مورد نیاز برای انجام فعالیت‌های مختلف از منابعی تأمین می‌شود که در آن‌ها تغییرهای فیزیکی و به ویژه واکنش‌های شیمیایی رخ می‌دهد.
- ۲ ۴۷۰ (A) عبارت‌های (الف) و (پ) درست هستند. روغن و چربی از جمله ترکیب‌های آلی هستند که به دلیل تفاوت در ساختار، رفتارهای فیزیکی و شیمیایی متفاوتی دارند. روغن دارای حالت فیزیکی مایع بوده اما چربی جامد است. از دیدگاه شیمیایی، در ساختار مولکول‌های روغن، پیوندهای دوگانه بیشتری وجود داشته و واکنش‌پذیری بیشتری نیز دارد. توجه کنید که چربی و روغن، هر دو سیر نشده هستند.
- ۲ ۴۷۱ (B) بررسی گزینه‌های نادرست: گزینه (۱): در شیمی بررسی ساختار مواد و فرایندها از دیدگاه ذره‌ای اهمیت و جایگاه ویژه‌ای دارد. گزینه (۳): ذره‌های سازنده ماده در حالت جامد، تحرک و جنب و جوش بسیار کمی دارند. گزینه (۴): مقایسه میزان جنب‌وجوش ذره‌ها در حالت‌های فیزیکی مختلف به صورت زیر است:
گاز < مایع < جامد
- ۳ ۴۷۲ (B) موارد (الف)، (ب) و (پ) توسط دمای یک ماده تعیین می‌شود.
- دما کمیتی است که میزان گرمی و سردی مواد را نشان می‌دهد. از طرفی هرچه دمای ماده بالاتر باشد، میانگین تندی و میانگین انرژی جنبشی ذره‌های سازنده آن بیشتر است. میانگین انرژی پتانسیل ذره‌های سازنده ماده، به نیروهای نگه‌دارنده ذره‌های سازنده آن ماده بستگی دارد.
- ۲ ۴۷۳ (A) دما علاوه بر میانگین انرژی جنبشی ذره‌های سازنده یک ماده، بیان‌گر میانگین تندی ذره‌های سازنده مواد در هر سه حالت جامد، مایع و گاز می‌باشد. بررسی گزینه (۳): هرچه دمای یک ماده بالاتر باشد، میانگین انرژی جنبشی ذره‌های سازنده آن بیشتر است. در نتیجه با توجه به دمای دو شکل، میانگین انرژی جنبشی در شکل A بیشتر از B است.
- ۲ ۴۷۴ (B) موارد اول، چهارم و پنجم درست هستند. بررسی موارد نادرست: مورد دوم: انرژی گرمایی هم‌ارز با مجموع انرژی جنبشی ذره‌های سازنده یک ماده است و مقدار آن علاوه بر دمای ماده به جرم (تعداد ذره‌ها) ماده نیز وابسته است. مورد سوم: یکای رایج دما، درجه سلسیوس ($^{\circ}\text{C}$) است در حالی که یکای دما در SI، کلوین (K) می‌باشد.
- ۳ ۴۷۵ (B) ذره‌های سازنده یک ماده در هر سه حالت فیزیکی یکسان بوده و پیوسته در حال جنب و جوش هستند، اما میزان جنبش ذره‌ها با یکدیگر متفاوت است، به طوری که جنبش‌های نامنظم ذره‌ها در حالت گاز شدیدتر از مایع و آن هم شدیدتر از حالت جامد است. همچنین هر چه دما بالاتر باشد، جنبش‌های نامنظم ذره‌های آن شدیدتر است. در مجموع می‌توان گفت یک ویژگی مشترک مواد با هر حالت فیزیکی، وجود جنبش‌های نامنظم ذره‌های سازنده آن‌هاست.
- ۳ ۴۷۶ (A) فقط عبارت (ت) نادرست است. بررسی عبارت‌ها: عبارت‌های (الف) و (پ): میانگین تندی و میانگین انرژی جنبشی ذره‌های سازنده یک ماده به دمای آن بستگی دارد. با توجه به شکل، میانگین انرژی جنبشی و سرعت حرکت ذره‌های سازنده در نمونه B بیشتر از A است و می‌توان گفت دمای هوا در شکل B بیشتر از دمای هوا در شکل A است. بنابراین شکل B می‌تواند مربوط به نمونه هوا در یک روز تابستانی باشد. عبارت‌های (ب) و (ت): انرژی گرمایی هم‌ارز با مجموع انرژی جنبشی ذره‌های سازنده یک ماده است و به دما (میانگین انرژی جنبشی ذره‌ها) و جرم (تعداد ذره‌ها) ماده وابسته است. با توجه به برابر بودن جرم (تعداد ذره‌ها) دو نمونه A و B، نمونه B به دلیل داشتن دمای بیشتر، انرژی گرمایی بیشتری دارد.
- ۱ ۴۷۷ (B) فقط عبارت سوم درست است. بررسی موارد: مورد اول: انرژی گرمایی هم‌ارز با مجموع انرژی جنبشی ذره‌های سازنده ماده است و به دمای ماده و همچنین تعداد ذره‌های سازنده ماده وابسته می‌باشد. ممکن است دمای یک جسم بالاتر باشد، اما انرژی گرمایی آن کمتر باشد؛ در واقع ممکن است میانگین انرژی جنبشی (دما) ذره‌های سازنده جسمی بیشتر باشد ولی به دلیل کمتر بودن تعداد ذره‌های آن، مجموع این انرژی‌ها کمتر است. به عنوان مثال انرژی گرمایی یک استخر آب با دمای 20°C از انرژی گرمایی یک لیوان آب با دمای 100°C بیشتر است. مورد دوم: نماد دما برحسب سلسیوس به صورت (θ) و نماد دما برحسب کلوین به صورت (T) است. مورد سوم: هر چه دمای ماده‌ای بالاتر باشد، جنبش‌های نامنظم ذره‌های سازنده آن شدیدتر است. بوی غذا گرم نیز به همین علت آسان‌تر و سریع‌تر به مشام می‌رسد. مورد چهارم: با توجه به هم‌دما بودن آب دو ظرف، در اثر افزودن آب از ظرف B به A، دما تغییری نمی‌کند و همچنان میانگین تندی و میانگین انرژی جنبشی ذره‌های سازنده آب موجود در ظرف‌های A و B ثابت و با هم برابر است، اما توجه کنید که به دلیل کاهش تعداد ذره‌ها در ظرف B، انرژی گرمایی آن کاهش می‌یابد.

۳ ۴۷۸ B عبارت‌های (ت) و (ث) درست هستند. بررسی عبارت‌ها: عبارت (الف): دمای یک ماده، معیاری برای توصیف میانگین انرژی جنبشی ذره‌ها و انرژی گرمایی یک ماده، هم‌ارز با مجموع انرژی جنبشی ذره‌های سازنده آن ماده است. عبارت (ب): دمای یک جسم برخلاف انرژی گرمایی آن به جرم (تعداد ذره‌ها) جسم بستگی ندارد. عبارت (پ): ذره‌های سازنده یک ماده در هر سه حالت فیزیکی پیوسته در حال جنبش‌های نامنظم هستند، اما میزان این جنبش‌ها با یکدیگر متفاوت است به طوری که میزان این جنبش‌ها در حالت گاز شدیدتر از مایع و آن هم شدیدتر از حالت جامد است. عبارت (ت): ارزش دمایی 1°C یا 1K برابر است، از این رو در فرایندهایی که دما تغییر می‌کند، $\Delta\theta = \Delta T$ می‌باشد.

* توجه: برای تبدیل دما در دو مقیاس سلسیوس و کلونین به یکدیگر از رابطه $T = \theta + 273$ استفاده می‌شود.

عبارت (ث): گرما (Q) و تغییر دما ($\Delta\theta$ یا ΔT) برای توصیف یک فرایند به کار می‌روند، این در حالی است که انرژی گرمایی از ویژگی‌های یک ماده است.

۱ ۴۷۹ B با توجه به موقعیت آرگون و هلیوم در جدول دوره‌ای، شعاع اتمی آرگون بیشتر از شعاع اتمی هلیوم می‌باشد. از طرفی اندازه ذره‌های موجود در ظرف b بزرگ‌تر از اندازه ذره‌های ظرف c است. بنابراین می‌توان نتیجه گرفت که ظرف b حاوی آرگون و ظرف c حاوی هلیوم می‌باشد. در مقایسه انرژی گرمایی، دمای هر سه سامانه یکسان می‌باشد و چون تعداد ذره‌های ظرف‌های a و b با یکدیگر برابر است، انرژی گرمایی ظرف‌های a و b برابر است. در حالی که ظرف c به علت داشتن تعداد ذره‌های بیشتر، دارای انرژی گرمایی بیشتری نسبت به ظرف a است. اگر گازهای موجود در هر سه سامانه را با یکدیگر مخلوط کنیم، به علت عدم داد و ستد انرژی با محیط پیرامون، دمای اولیه و نهایی با یکدیگر برابر است، ولی چون تعداد ذره‌های سامانه پس از مخلوط شدن افزایش می‌یابد، انرژی گرمایی زیاد می‌شود.

۳ ۴۸۵ B عبارت‌های (الف)، (پ) و (ت) نادرست هستند. بررسی عبارت‌ها: عبارت (الف): دقت کنید که دمای یک جسم، معیاری برای توصیف میانگین تندی و میانگین انرژی جنبشی ذره‌های سازنده آن است. عبارت (ب): هر چه دمای ماده بالاتر باشد، میانگین تندی و میانگین انرژی جنبشی ذره‌های سازنده آن بیشتر است؛ بنابراین میان دمای یک جسم و میانگین انرژی جنبشی ذره‌های سازنده آن، رابطه مستقیم وجود دارد. عبارت (پ): دما از ویژگی‌های یک ماده است. این در حالی است که گرما از ویژگی‌های یک نمونه ماده نیست و برای توصیف یک فرایند به کار می‌رود. عبارت (ت): میزان انرژی گرمایی یک ماده علاوه بر دما، به جرم آن نیز بستگی دارد؛ بنابراین دو نمونه آب با دمای متفاوت، ممکن است انرژی گرمایی برابری داشته باشند.

۴ ۴۸۱ A عبارت‌های (ت) و (ث) نادرست هستند. بررسی عبارت‌های نادرست: عبارت (ت): از یکای کالری (cal) برای بیان مقدار گرمای مبادله شده در یک فرایند استفاده می‌شود. ($1\text{cal} = 4/18\text{J}$) عبارت (ث): انرژی گرمایی یک ماده به جرم و دمای ماده وابسته است. از آنجا که جرم آب موجود در استخر خیلی بیشتر از آب موجود در لیوان است، پس انرژی گرمایی آب استخر از آب لیوان بیشتر می‌باشد.

۱ ۴۸۲ B موارد (الف) و (ت) برای دو ظرف A و B قطعاً با یکدیگر برابرند. بررسی موارد: موارد (الف) و (ت): دمای یک ماده، معیاری برای توصیف میانگین تندی و سرعت حرکت ذرات سازنده آن ماده است. موارد (ب) و (پ): دقت کنید که انرژی گرمایی و مجموع انرژی جنبشی ذرات سازنده یک ماده، علاوه بر دما، به جرم آن ماده نیز وابسته است. مورد (ث): در دو ماده با دمای برابر، میانگین سرعت حرکت ذرات با یکدیگر برابر است، اما الزاماً نمی‌توان گفت که سرعت حرکت هر ذره در این دو ماده با یکدیگر برابر است. مورد (ج): انرژی پتانسیل یک نمونه ماده، انرژی نهفته شده در آن است، انرژی‌ای که ناشی از نیروهای نگه‌دارنده ذره‌های سازنده آن است. با توجه به اینکه در متن تست اشاره‌ای به نوع مایعات موجود در دو ظرف نشده، نمی‌توان اظهار نظر نمود.

۳ ۴۸۳ B عبارت‌های اول، دوم و سوم درست هستند. بررسی عبارت‌ها: عبارت اول: با انجام یک فرایند در سامانه و تبادل گرما میان سامانه و محیط، دمای سامانه می‌تواند تغییر کند. عبارت دوم: برای افزایش دمای جرم‌های یکسانی از آب و روغن زیتون، آب گرمای بیشتری را جذب می‌کند، در نتیجه ظرفیت گرمایی آن بیشتر است. عبارت سوم: انرژی گرمایی یک ماده برابر مجموع انرژی جنبشی ذرات سازنده آن ماده است که به دمای ماده و مقدار آن بستگی دارد؛ به طوری که هر چه جرم و دمای یک نمونه ماده بیشتر باشد، انرژی گرمایی آن ماده بیشتر است. عبارت چهارم: همان‌طور که می‌دانید، گرما آن مقدار از انرژی گرمایی است که میان دو جسم با دمای متفاوت جاری می‌شود؛ از این رو گرما از جمله ویژگی‌های یک ماده نیست و برای توصیف یک فرایند به کار می‌رود.

۳ ۴۸۴ B ظرفیت گرمایی یک ماده به جرم و نوع ماده بستگی دارد، در حالی که ظرفیت گرمایی ویژه یک ماده، تنها به نوع ماده بستگی دارد.

۴ ۴۸۵ A وقتی به دو ماده متفاوت و هم‌جرم، مقدار یکسانی گرما داده شود، ماده‌ای که تغییر دما ($\Delta\theta$) آن کمتر باشد، ظرفیت گرمایی ویژه (c) بیشتری دارد. در این سؤال ترتیب تغییر دما به صورت « $\Delta\theta_B < \Delta\theta_D < \Delta\theta_C < \Delta\theta_A$ » است. در نتیجه بدون انجام محاسبه، می‌توانیم بگوییم که ترتیب ظرفیت گرمایی ویژه به صورت « $c_A > c_C > c_D > c_B$ » است که برعکس $\Delta\theta$ می‌باشد.

۲ ۴۸۶ B
$$\left. \begin{aligned} \text{B ماده: } C = mc \Rightarrow \text{ظرفیت گرمایی} &= 3 \times 3 / 45 = 10 / 35 \text{ J} \cdot \text{C}^{-1} \\ \text{C ماده: } C = mc \Rightarrow \text{ظرفیت گرمایی} &= 5 \times 2 / 3 = 10 / 3 \text{ J} \cdot \text{C}^{-1} \end{aligned} \right\} \Rightarrow 10 / 35 < 10 / 3$$

بررسی سایر گزینه‌ها: گزینه (۱): ظرفیت گرمایی 10°C گرم از ماده‌های A، B و C به ترتیب برابر $21/5 \frac{\text{J}}{^\circ\text{C}}$ ، $34/5 \frac{\text{J}}{^\circ\text{C}}$ و $23 \frac{\text{J}}{^\circ\text{C}}$ است. بنابراین ظرفیت گرمایی 10°C گرم ماده B

بیشتر است. گزینه (۳): طبق فرمول ($Q = mc\Delta\theta$)، در صورت برابر بودن Q و m، هر چه ظرفیت گرمایی ویژه بیشتر باشد، تغییرات دما کمتر است. در نتیجه میزان افزایش دمای B از A و C کمتر است. گزینه (۴): در این مورد، اظهار نظر نمی‌توان کرد. نوع ذره‌های تشکیل دهنده ماده‌های A و C، ممکن است یکسان و یا متفاوت باشد.

۲ ۴۸۷ A عبارت‌های (الف) و (ب) درست اند. بررسی عبارت‌های نادرست: عبارت (پ): در دما و فشار ثابت، ظرفیت گرمایی افزون بر نوع ماده به مقدار آن نیز بستگی دارد، در حالی که ظرفیت گرمایی ویژه در دما و فشار ثابت، تنها به نوع ماده وابسته است. عبارت (ت): مطابق رابطه $Q = m \cdot c \cdot \Delta\theta$ در صورت برابر بودن جرم (m) و دریافت گرمای یکسان (Q)، هر چه ظرفیت گرمایی ویژه (c) بیشتر باشد، تغییرات دما ($\Delta\theta$) کمتر خواهد بود.

۴ ۴۸۸ B همه عبارت‌ها نادرست هستند. بررسی عبارت‌ها: عبارت (الف): ظرفیت گرمایی (C)، مقدار گرمایی است که باید به یک جسم با هر جرمی داده شود تا دمای آن یک درجه سلسیوس افزایش یابد، در حالی که ظرفیت گرمایی ویژه مقدار گرمایی است که باید به یک گرم از جسم داده شود تا دمای آن یک درجه سلسیوس افزایش یابد. بنابراین:

عبارت (ب): ظرفیت گرمایی در دما و فشار ثابت، به نوع و مقدار ماده (m) وابسته است. توجه کنید که دما و فشار نیز از عوامل مهم مؤثر بر ظرفیت گرمایی ویژه و ظرفیت گرمایی است. عبارت (پ): در فلزها هر چه جرم مولی بیشتر باشد ظرفیت گرمایی ویژه کمتر است. بنابراین مقایسه ظرفیت گرمایی ویژه این سه فلز به صورت «آلومینیم < نقره < طلا» است.

عبارت (ت): ظرفیت گرمایی ویژه آب از روغن زیتون بیشتر است، پس مطابق رابطه $Q = m.c.\Delta\theta$ در جرم (m) و تغییر دمای ($\Delta\theta$) یکسان، آب باید گرمای (Q) بیشتری آزاد کند تا با محیط هم‌دما شود، در حالی که روغن زیتون با آزاد کردن مقدار گرمای کمتری با محیط هم‌دما می‌شود، پس روغن زیتون زودتر به دمای محیط می‌رسد.

۴۱۴۹۹ (B) عبارت‌های (الف)، (ب) و (ت) درست هستند. **بررسی عبارت‌ها: عبارت (الف):** در جرم و دمای اولیه برابر، با توجه به این که ظرفیت گرمایی آب بیشتر از روغن زیتون است، برای افزایش دمای یکسان، آب گرمای بیشتری را باید جذب کند، بنابراین تخم‌مرغ در آب می‌پزد. **عبارت (ب):** با توجه به این که ظرفیت گرمایی آب بیشتر از روغن زیتون است، می‌توان نتیجه گرفت نیروهای بین مولکولی آب قوی‌تر از روغن زیتون است. **عبارت (ت):** چون جرم و میزان تغییر دما در هر دو ماده برابر است خواهیم داشت:

$$\frac{Q_{\text{آب}}}{m_{\text{آب}} \times c_{\text{آب}} \times \Delta\theta_{\text{آب}}} = \frac{Q_{\text{روغن زیتون}}}{m_{\text{روغن زیتون}} \times c_{\text{روغن زیتون}} \times \Delta\theta_{\text{روغن زیتون}}} \Rightarrow \frac{Q_{\text{آب}}}{c_{\text{آب}}} = \frac{Q_{\text{روغن زیتون}}}{c_{\text{روغن زیتون}}} \Rightarrow \frac{c_{\text{آب}}}{c_{\text{روغن زیتون}}} = \frac{41800}{19700} \approx 2/1$$

۳۱۴۹۵ (B) در دمای اتاق، روغن دارای حالت فیزیکی مایع و چربی دارای حالت فیزیکی جامد است. بنابراین می‌توان نتیجه گرفت نیروهای بین مولکولی در چربی قوی‌تر از روغن می‌باشد. از دیدگاه شیمیایی، در ساختار مولکول‌های روغن پیوندهای دوگانه بیشتری وجود داشته و واکنش‌پذیری بیشتری دارد.

۴۱۴۹۱ (A) عبارت‌های (ب) و (ت) درست هستند. **بررسی عبارت‌ها: عبارت (الف):** دما و گرما با یک‌دیگر تفاوت دارند؛ گرما صورتی از انرژی است در حالی که دما، معیاری از میزان سردی و گرمی جسم است. علاوه بر این، تفاوت‌های زیاد دیگری بین این دو مفهوم دیده می‌شود، اما میان آن‌ها رابطه‌ای هم وجود دارد. $Q = C\Delta\theta$ **عبارت (ب):** جرم هر دو مایع در این آزمایش، برابر است اما آب به دلیل داشتن ظرفیت گرمایی بیشتر، برای این میزان از تغییر دما، گرمای بیشتری را جذب کرده است و همین گرمای بیشتر، سبب یختن تخم‌مرغ شده است. **عبارت (پ):** با قرار دادن یک استکان چای با دمای 90°C در یک اتاق با دمای 25°C ، پس از مبادله گرما، دمای چای و اتاق با یک‌دیگر برابر می‌شود، اما گرمای آن‌ها متفاوت است. استکان چای، بخشی از انرژی خود را به شکل گرما از دست می‌دهد و این روند تا جایی پیش می‌رود که با اتاق هم‌دما شود. **عبارت (ت):** هر $4/184$ ژول، برابر یک کالری است. $(4/184\text{J} = 1\text{cal})$ در نتیجه، یک ژول برابر $\frac{1}{4/184}$ کالری یا تقریباً $0/24$ برابر یک کالری است.

۱۱۴۹۲ (B) عبارت‌های سوم و پنجم درست هستند. **بررسی عبارت‌ها: عبارت اول:** آب به دلیل داشتن ظرفیت گرمایی ویژه بیشتر، برای رسیدن به دمای 75°C ، گرمای بیشتری جذب کرده است و همین انرژی گرمایی بیشتر سبب یختن تخم‌مرغ می‌شود. در واقع روغن زیتون با ظرفیت گرمایی کمتر، توانایی یختن تخم‌مرغ را با این تغییر دما نخواهد داشت. **عبارت دوم:** ظرفیت گرمایی علاوه بر ظرفیت گرمایی ویژه به جرم جسم نیز وابسته است. بنابراین راجع به مقایسه ظرفیت گرمایی این دو ماده که جرم آن‌ها داده نشده، نمی‌توان اظهار نظر نمود و حتماً باید جرم آن‌ها را داشته باشیم. **عبارت سوم:** ظرفیت گرمایی ویژه آب بیشتر از سدیم کلرید و آن هم بیشتر از طلا است. پس مطابق رابطه $Q = m.c.\Delta\theta$ در جرم (m) و تغییر دمای ($\Delta\theta$) یکسان، آب گرمای (Q) بیشتری جذب می‌کند. **عبارت چهارم:** ظرفیت گرمایی (C) در دما و فشار ثابت، به نوع و جرم جسم وابسته است و تغییر دمای جسم تأثیری در مقدار آن ندارد.

نتیجه‌تقریبی ظرفیت گرمایی مولی فلزات: براساس یک قاعده تحت عنوان دولون وپتی، ظرفیت گرمایی یک مول از فلزات عدد ثابتی دارد؛ بنابراین برای دو فلز A و B داریم:

$$C_m(A) = C_m(B) \Rightarrow M_w(A) \times c_A = M_w(B) \times c_B$$

مثلاً اگر بدانیم ظرفیت گرمایی ویژه آلومینیم برابر $9\text{J.g}^{-1}.\text{C}^{-1}$ است، می‌توانیم به کمک جرم مولی آن‌ها، گرمای ویژه نقره را به دست آوریم:

$$C_m(\text{Al}) = C_m(\text{Ag}) \Rightarrow M_w(\text{Al}) \times c_{\text{Al}} = M_w(\text{Ag}) \times c_{\text{Ag}} \Rightarrow 27 \times 9 = 108 \times c_{\text{Ag}} \Rightarrow c_{\text{Ag}} = 225\text{J.g}^{-1}.\text{C}^{-1}$$

عبارت پنجم: ظرفیت گرمایی یک مول از فلزات از رابطه مقابل به دست می‌آید: ظرفیت گرمایی ویژه \times جرم مولی فلز = ظرفیت گرمایی یک فلز اگر این مقدار برای همه فلزات یکسان باشد، پس هر چه جرم مولی یک فلز بیشتر باشد، ظرفیت گرمایی ویژه آن کمتر خواهد بود.

۴۱۴۹۳ (B) عبارت‌های (الف)، (ب) و (ت) نادرست هستند و عبارت (پ) درست است. **بررسی عبارت‌ها: عبارت (الف):** در حالت‌های فیزیکی مختلف آب، نوع نیروهای جاذبه بین مولکول‌ها و میزان حرکت مولکول‌ها و اتم‌ها با هم متفاوت است، پس ظرفیت گرمایی آب در سه حالت یکسان نیست. **عبارت (ب):** ظرفیت گرمایی یک جسم در دما و فشار معین، افزون بر جرم، به نوع ماده نیز وابسته است و در ظرفیت گرمایی یک نمونه ناخالص هم مقدار و نوع ماده خالص و هم مقدار و نوع ناخالصی‌ها تأثیر دارند. **عبارت (پ):** ظرفیت گرمایی ویژه آب برابر ۱ کالری $(4/184)$ ژول است. **عبارت (ت):** ظرفیت گرمایی ویژه آب بیشتر از روغن زیتون است، پس مطابق رابطه $Q = m.c.\Delta\theta$ اگر به ازای تبادل گرمای یکسان، تغییر دمای یکسانی حاصل شود، جرم (m) نمونه روغن زیتون بیشتر بوده است.

۱۱۴۹۴ (A) **بررسی عبارت‌ها: عبارت (الف):** ظرفیت گرمایی (C) برابر حاصل ضرب ظرفیت گرمایی ویژه (c) در جرم (m) ماده است. پس خواهیم داشت:

$$C_{\text{آب}} = c_{\text{آب}} \times M_{\text{آب}} = 4/184 \times 18 = 75/24\text{J}.\text{C}^{-1}$$

$$C_{\text{اتانول}} = c_{\text{آب}} \times M_{\text{آب}} = 2/4 \times 46 = 110/4\text{J}.\text{C}^{-1}$$

پس ظرفیت گرمایی یک مول اتانول، بیشتر از ظرفیت گرمایی یک مول آب است. **عبارت (ب):** در ساختار مولکول‌های چربی، پیوندهای دوگانه کمتری از مولکول‌های روغن وجود دارد، پس یک مول چربی برای سیر شدن کامل، به تعداد مول گاز هیدروژن کمتری نیاز دارد. **عبارت (پ):** درصد آب در سیب‌زمینی بیشتر از نان است، در نتیجه در جرم‌های یکسانی از این دو، ظرفیت گرمایی سیب‌زمینی بیشتر از نان است و در صورت تبادل گرمای برابر، تغییرات دمای سیب‌زمینی کمتر خواهد بود و دیرتر با محیط هم‌دما می‌شود.

۳۱۴۹۵ (A) با توجه به دمای اولیه و نهایی قطعه‌ها، میزان تغییر دمای آن‌ها به صورت مقابل است:

	A	B	C	D
$\Delta\theta$	۱۰	۶	۲۴	۳

مطابق رابطه $Q = m.c.\Delta\theta$ در جرم و گرمای مبادله شده یکسان، هر چه ظرفیت گرمایی ویژه (c) بیشتر باشد، میزان تغییر دما ($\Delta\theta$) کمتر است، پس مقایسه ظرفیت گرمایی ویژه فلزهای داده شده به صورت $D > B > A > C$ است.

۱۱۴۹۶ (B) تنها عبارت دوم درست است. **بررسی عبارت‌ها: عبارت اول:** با توجه به اینکه مقدار آب موجود در ظرف B بیشتر است؛ بنابراین برای افزایش دمای محتویات ظرف B به میزان 1°C ، نسبت به ظرف A، به گرمای بیشتری نیاز است. **عبارت دوم:** میانگین انرژی جنبشی و میانگین تندی ذره‌های سازنده یک ماده، وابسته به دمای آن است. با توجه به دمای برابر دو ظرف، بنابراین میانگین انرژی جنبشی و میانگین تندی ذره‌های سازنده دو ظرف با یکدیگر برابر است. **عبارت سوم:** با توجه به یکسان بودن نوع ماده و دمای برابر محتویات موجود در ظرف A و B، بنابراین سرعت انتقال گرما در این دو ظرف و در نتیجه مدت زمان یختن تخم‌مرغ یکسان خواهد بود. **عبارت چهارم:** با توجه به دمای برابر و همچنین جرم بیشتر محتویات در ظرف B نسبت به ظرف A، بنابراین انرژی گرمایی آن بیشتر است. اما دقت کنید که شرط انتقال گرما بین دو جسم، وجود اختلاف دما بین آن دو جسم است. **عبارت پنجم:** با توجه به دمای برابر محتویات دو ظرف A و B، میانگین سرعت جنبش ذرات در هر دوی آن‌ها با یکدیگر برابر است و در اثر اضافه کردن محتویات این دو ظرف به یکدیگر، تغییری در سرعت جنبش ذرات، ایجاد نمی‌شود.

۳ ۴۹۷ A مقدار گرمای جذب شده توسط هر دو ماده را محاسبه می کنیم:

$$Q_A = m_A \times c_A \times \Delta\theta_A = 100 \times c_A \times \Delta\theta_A$$

$$Q_B = m_B \times c_B \times \Delta\theta_B = 200 \times c_B \times (2\Delta\theta_A)$$

با توجه به اینکه گرمای جذب شده توسط دو ماده یکسان است می توان نتیجه گرفت:

$$Q_A = Q_B \Rightarrow 100 \times c_A \times \Delta\theta_A = 400 \times c_B \times \Delta\theta_A \Rightarrow c_A = 4c_B$$

پس ظرفیت گرمایی ویژه ماده A چهار برابر ظرفیت گرمایی ویژه ماده B است.

۳ ۴۹۸ A گرمای ویژه یک جسم، برابر با مقدار گرمایی است که به یک گرم از جسم می دهند تا دمای آن به میزان یک درجه سلسیوس تغییر کند و می توان آن را از

$$c(\text{گرمای ویژه}) = \frac{Q}{m \cdot \Delta\theta} \Rightarrow c = \frac{18 / (2 \times 10^3) \text{ J}}{(1 \times 10^3 \text{ g}) \times (35^\circ \text{C} - 15^\circ \text{C})} = 0.9 \text{ J} \cdot \text{g}^{-1} \cdot ^\circ \text{C}^{-1}$$

رابطه زیر به دست آورد:

۲ ۴۹۹ A ابتدا تغییرات دما را محاسبه می کنیم و سپس دمای نهایی را به دست می آوریم.

$$Q = mc\Delta\theta \Rightarrow 1260 \text{ J} = 200 \text{ g} \times 0.9 \text{ J} \cdot \text{g}^{-1} \cdot ^\circ \text{C}^{-1} \times \Delta\theta \Rightarrow \Delta\theta = 7^\circ \text{C}$$

$$\Delta\theta = \theta_f - \theta_i \Rightarrow 7^\circ = \theta_f - 24^\circ \Rightarrow \theta_f = 31^\circ \text{C}$$

۱ ۵۰۰ A ابتدا میزان تغییر دما را به دست می آوریم، به کمک آن مقدار گرمای لازم برای این تغییر برحسب ژول را به دست آورده و تبدیل واحد می کنیم.

$$Q = C\Delta\theta \Rightarrow Q = 8 / 5 \text{ J} \cdot ^\circ \text{C}^{-1} \times (200 - 25)^\circ \text{C} \Rightarrow Q = 1487 / 5 \text{ J} = 297.4 \text{ kJ}$$

۴ ۵۰۱ A این بار مجهول ما جرم CO_2 می باشد که با جایگذاری اعداد سؤال در رابطه گرما به دست می آید.

$$Q = mc\Delta\theta \Rightarrow 453 / 6 \text{ J} = m \times 0.84 \text{ J} \cdot \text{g}^{-1} \cdot ^\circ \text{C}^{-1} \times (58 - 13)^\circ \text{C} \Rightarrow m = 12 \text{ g}$$

۳ ۵۰۲ A ابتدا مقدار مول اتانول را به جرم آن تبدیل می کنیم و سپس با استفاده از رابطه $Q = mc\Delta\theta$ مقدار c را محاسبه می کنیم:

$$? \text{ g } C_2H_5OH = 2 / 5 \text{ mol } C_2H_5OH \times \frac{46 \text{ g } C_2H_5OH}{1 \text{ mol } C_2H_5OH} = 18.8 \text{ g } C_2H_5OH$$

$$Q = mc\Delta\theta \Rightarrow 6348 \text{ J} = 18.8 \text{ g} \times c \times (36 - 13)^\circ \text{C} \Rightarrow c = 2 / 4 \text{ J} \cdot \text{g}^{-1} \cdot ^\circ \text{C}^{-1}$$

$$Q = mc\Delta\theta \Rightarrow Q = 16 \text{ g} \times 0.13 \text{ J} \cdot \text{g}^{-1} \cdot ^\circ \text{C}^{-1} \times (146 - 26)^\circ \text{C} = 249 / 6 \text{ J} = 41.5 \text{ kJ}$$

۱ ۵۰۳ A

$$C = mc \Rightarrow C = 16 \text{ g} \times 0.13 \text{ J} \cdot \text{g}^{-1} \cdot ^\circ \text{C}^{-1} = 2.08 \text{ J} \cdot ^\circ \text{C}^{-1}$$

$$16 \times 0.13 \times (146 - 26) \xrightarrow{\text{تکنیک دسته بندی}} 16 \times 13 \times 12 \times 10^{-2} \times 10^1$$

$$\xrightarrow{\text{تکنیک رقم سمت راست}} 6 \times 3 \times 2 \times 10^{-1} = 36 \times 10^{-1} \text{ J} = 36 \times 10^{-4} \text{ kJ}$$

توضیح محاسبات

بنابراین رقم سمت راست پاسخ بخش اول سؤال، ۶ می باشد و ۴ رقم اعشار هم باید داشته باشیم که فقط گزینه یک این شرایط را دارد. نیاز به محاسبه بخش دوم تست نبود.

۲ ۵۰۴ A در این سؤال با توجه به گرمای جذب شده، جرم و تغییر دما، ظرفیت گرمایی ویژه ماده را به دست آورده و سپس با توجه به جدول، متوجه می شویم ماده

$$Q = mc\Delta\theta \Rightarrow 0.4104 \text{ kJ} = 410 / 4 \text{ J} = 45 \text{ g} \times c \times 38^\circ \text{C} \Rightarrow c = 0.24 \text{ J} \cdot \text{g}^{-1} \cdot ^\circ \text{C}^{-1}$$

مورد نظر، کدام ماده است.

در نتیجه فلز مورد نظر نقره (Ag) بوده است.

۴ ۵۰۵ A با توجه به رابطه $Q = mc\Delta\theta$ از آنجا که جرم و گرمای داده شده برابر است، تغییر دمای ماده ای که ظرفیت گرمایی ویژه کمتری دارد، بیشتر خواهد بود.

مقایسه تغییر دما: $B > A > C > D$

۲ ۵۰۶ B ابتدا جرم گاز را به دست می آوریم.

$$? \text{ g } \text{گاز} = 89 / 6 \text{ L } \text{گاز} \times \frac{1 \text{ mol } \text{گاز}}{22 / 4 \text{ L } \text{گاز}} \times \frac{16 \text{ g}}{1 \text{ mol } \text{گاز}} = 64 \text{ g } \text{گاز}$$

$$Q = mc\Delta\theta \Rightarrow 7040 \text{ J} = 64 \text{ g} \times c \times 50^\circ \text{C} \Rightarrow c = 2 / 2 \text{ J} \cdot \text{g}^{-1} \cdot ^\circ \text{C}^{-1}$$

۳ ۵۰۷ B ابتدا جرم این نمونه نقره را به دست می آوریم و سپس به کمک چگالی آن حجم آن را محاسبه می کنیم.

$$Q = mc\Delta\theta \Rightarrow 75 / 816 \text{ J} = m \times 0.24 \text{ J} \cdot \text{g}^{-1} \cdot ^\circ \text{C}^{-1} \times (29 - 24)^\circ \text{C} \Rightarrow m = 63 / 18 \text{ g}$$

$$? \text{ cm}^3 = 63 / 18 \text{ g} \times \frac{1 \text{ cm}^3}{10 / 53 \text{ g}} = 6 \text{ cm}^3$$

۴ ۵۰۸ A قسمت اول: ابتدا مقدار گرمای لازم را برحسب ژول محاسبه کرده و سپس آن را به کالری تبدیل می کنیم:

$$Q = m \cdot c \cdot \Delta\theta \Rightarrow Q = 31 / 5 \times 2 / 2 \times 20 = 1386 \text{ J}$$

$$? \text{ cal} = 1386 \text{ J} \times \frac{1 \text{ cal}}{4 / 2 \text{ J}} = 330 \text{ cal}$$

$$Q = m_{\text{Ag}} \times c_{\text{Ag}} \times \Delta\theta \Rightarrow 1386 = m_{\text{Ag}} \times 0.24 \times 50 \Rightarrow m_{\text{Ag}} = 115 / 5 \text{ g}$$

قسمت دوم:

۴ ۵۰۹ B ابتدا گرمای آزاد شده از سرد شدن آب را به دست می آوریم و سپس محاسبه می کنیم این مقدار گرما دمای چقدر آلومینیم را 78°C تغییر می دهد. علامت

$$Q = mc\Delta\theta \Rightarrow Q = 36 \text{ g} \times 4 / 2 \text{ J} \cdot \text{g}^{-1} \cdot ^\circ \text{C}^{-1} \times (37 - 89)^\circ \text{C} = -7862 / 4 \text{ J}$$

منفی نشانه از دست دادن گرما است.

$$Q = mc\Delta\theta \Rightarrow 7862 / 4 \text{ J} = m \times 0.9 \text{ J} \cdot \text{g}^{-1} \cdot ^\circ \text{C}^{-1} \times 78^\circ \text{C} \Rightarrow m = 112 \text{ g}$$