

فهرست

فصل اول

- ۵ عدد و شمارش
- ۷ دسته‌های ده‌تایی و یکی
- ۱۲ جمع و تفریق
- ۱۵ شمارش چندتا چندتا

فصل پنجم

- ۵۳ اندازه‌گیری طول
- ۵۵ اندازه‌گیری دقیق‌تر
- ۵۹ واحد سانتی‌متر
- ۶۱ واحد میلی‌متر

فصل دوم

- ۱۷ جمع و تفریق ده‌تایی
- ۱۹ جمع و تفریق اساسی
- ۲۱ جمع و تفریق دو عدد دورقمی
- ۲۵ ادامه‌ی جمع و تفریق دو عدد

فصل ششم

- ۶۴ مقایسه‌ی اعداد
- ۶۸ جمع و تفریق عددهای سه‌رقمی
- ۷۳ جمع در جدول ارزش مکانی
- ۷۶ تفریق در جدول ارزش مکانی

فصل سوم

- ۲۸ یادآوری شکل‌های هندسی
- ۳۰ روابط بین شکل‌ها
- ۳۳ تقارن ۲ طرفه
- ۳۶ تقارن ۴ قسمتی یا ۴ طرفه

فصل هفتم

- ۷۹ قسمتی از یک واحد
- ۸۲ نمایش کسرها
- ۸۵ مفهوم احتمال
- ۸۶ احتمال و کسر

فصل چهارم

- ۳۹ معرفی پول
- ۴۳ معرفی عددهای سه‌رقمی
- ۴۸ عددهای سه‌رقمی تقریبی
- ۵۰ آمادگی برای جمع و تفریق

فصل هشتم


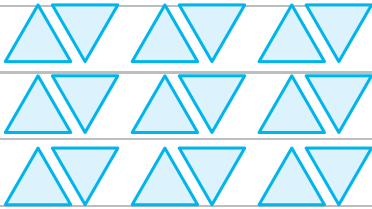
- ۸۸ سرشماری
- ۸۹ نمودار ستونی
- ۹۴ نمودار تصویری
- ۹۵ انتخاب نمودار

عددوشمارش


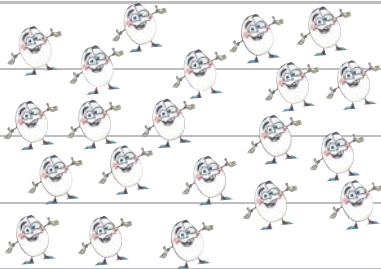
۱ بشمار، به عدد بنویس و چوب خط بکش.





به عدد: ۷



به عدد:





به عدد:



به عدد:

۲ ساعتی که عدد ۵ را نشان می دهد، رنگ بزن.



۳ با خط کش عدد‌های مثل هم را به هم وصل کن.


19	46	78	34
چهل و شش	نوزده	سی و چهار	هفتاد و هشت

۴ به عدد‌های زیر دقت کن، عدد قبل و بعد آن‌ها را درون گلبرگ‌ها بنویس.

87	61
38	20

۵ عدد‌ها را مانند نمونه در جای مناسب قرار بده.

38	16	62
83	79	42
38 < 83	40 > 79	59 < 95
	51 > 16	62 < 42



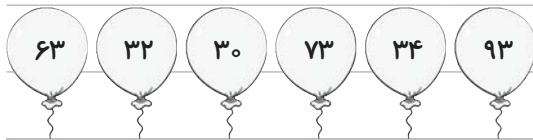
۶ جدول شگفت‌انگیز زیر را کامل کن و بگو ساعت چه عددی را نشان می‌دهد؟



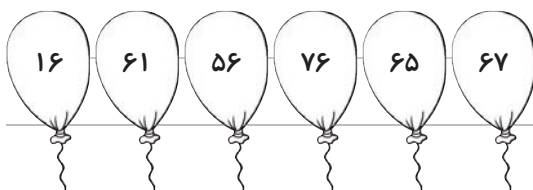
۳	۱	۲	۸	۷	۵	۴		۶
۵		۷		۴	۹	۳	۸	۲
۴	۸	۹	۲	۶	۳	۵	۱	۷
۷	۵		۹	۳	۶	۲	۴	۸
۹	۲	۸	۵	۱		۶	۷	۳
۶		۴	۷	۸	۲	۱	۵	
۲	۴	۵	۶	۹	۷	۸	۳	۱
	۷	۶	۳	۵	۸		۲	۴
۸	۹	۳	۴		۱	۷	۶	۵

دسته‌های ده‌تایی و یکی

۷ عدد روی هر بادکنک را بخوان.



الف بادکنک‌هایی را که یکان عدد داخل آن ۳ است، رنگ بزن.

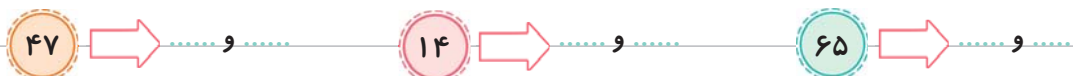


ب بادکنک‌هایی را که دهگان عدد داخل آن ۶ است، رنگ بزن.




پ داخل بادکنک‌ها اعدادی را بنویس که دهگان آن‌ها ۷ باشد.

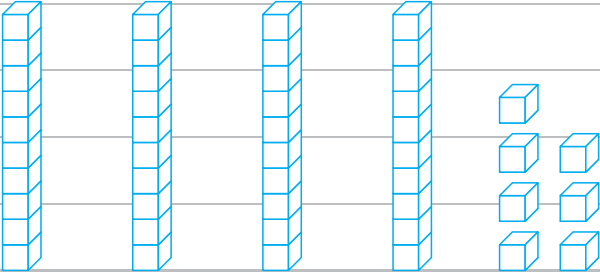
۸ رقم‌های اعداد زیر را بنویس.



۹ بالون‌های یک‌رقمی را با مداد سبز و بالون‌های دورقمی را با مداد قرمز رنگ کن.



۱۰ به اندازه‌ی عدد ۳۴ از شکل زیر جدا کن و رنگ بزن.



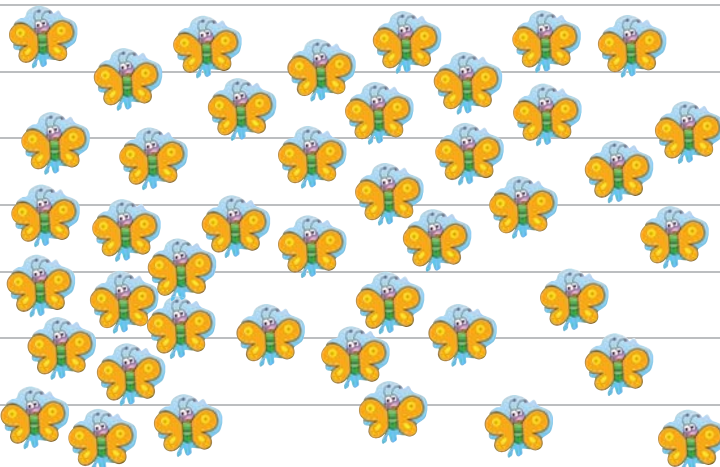
۱۱ دسته‌های ده‌تایی جدا کن، در جدول قرار بده و عدد مناسب را بنویس.



ده‌تایی	یکی

عدد:

حروف:





ده‌تایی	یکی

عدد:

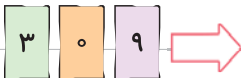
حروف:



۱۲ نوشتن عددهای زیر را ادامه بده و جاهای خالی را کامل کن.



۱۳ با کارت‌های زیر، تا می‌توانی عدد ۲ رقمی بساز و بنویس.



۱۴ به سؤالات زیر پاسخ بده.



بزرگ‌ترین عدد یک‌رقمی کدام است؟



کوچک‌ترین عدد یک‌رقمی را بنویس.



بزرگ‌ترین عدد دورقمی کدام است؟



کوچک‌ترین عدد دورقمی را بنویس.

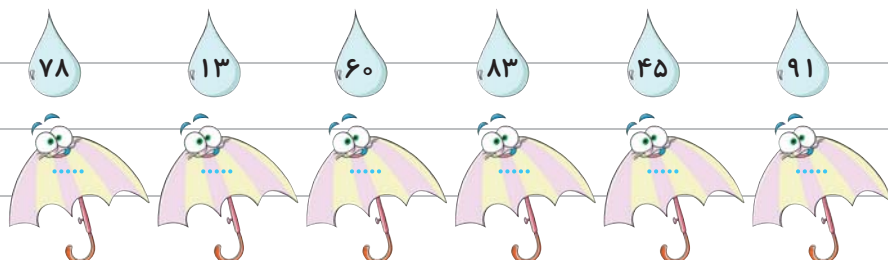


با کدام رقم‌ها می‌توان عدد ۷۴ را ساخت؟




عدد دورقمی بنویس که یکان آن ۶ و دهگان آن ۳ باشد.

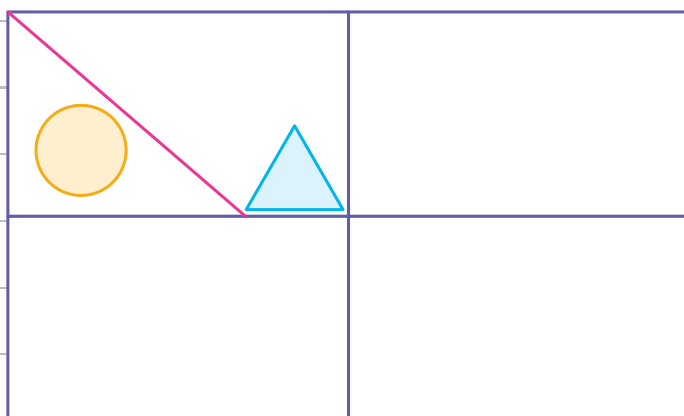
۱۵ رقم دهگان هر عدد را جدا کن و درون چتر زیر آن بنویس.



۱۶ با عددهای ۸ و ۳ چند عدد دورقمی می توانی بسازی؟ آن ها را درون قایق بنویس.




۱۷ سه قسمت دیگر شکل را با استفاده از خط کش و شابلون کامل کن.



۱۸ زهره ۱۶ آبنبات داشت. ۷ تا از آن ها با طعم پرتغالی و بقیه با طعم توت فرنگی بود. زهره چند آبنبات

توت فرنگی داشت؟ (شکل بکش.)



زهره آبنبات توت فرنگی داشت.




۱۹ در پارکی ۱۴ کودک در حال بازی کردن بودند. ۸ تا از آنها همراه مادرشان از پارک خارج شدند و پس از چند دقیقه ۵ کودک دیگر وارد پارک شدند. حالا چند کودک در پارک بازی می‌کنند؟ (با استفاده از محور حل کن.)



..... کودک در پارک بازی می‌کنند.

۲۰ الگوهای زیر را ادامه بده.



۲۱ بگو من چه عددی هستم؟



الف عددی دورقمی هستم که رقم یکانم ۲ و رقم دهگانم یک عدد قبل از ۷ است.



ب عددی دورقمی هستم که رقم یکانم ۶ و رقم دهگانم ۲ تا بیشتر از رقم یکانم است.



پ عددی دورقمی هستم که رقم دهگانم ۸ و رقم یکانم ۳ تا کم‌تر از دهگانم است.



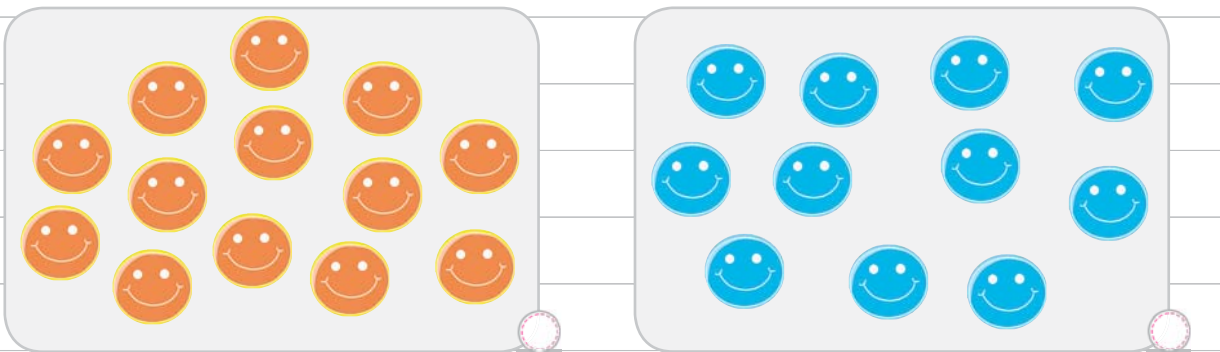
ت عددی دورقمی هستم که رقم دهگانم ۵ و رقم یکانم ۲ تا بیشتر از دهگانم است.

۲۲ حمید ۱۸ نهال کاشته است. خواهرش ۳ نهال بیشتر از او کاشته است. خواهر حمید چند نهال کاشته است؟
(چوب خط بکش.)



خواهر حمید نهال کاشته است.

۲۳ حدس بزن در کدام دسته، تعداد شکل‌ها کم‌تر است. دایره را رنگ بزن.



حالا تعداد هر شکل را بنویس و بگو حدس تو درست بود یا نه؟


جمع و تفریق

۲۴ مانند نمونه، جواب جمع و تفریق‌های زیر را با کشیدن چوب خط به دست بیاور.


$6 + 4 + 7 = 17$



$7 + 5 + 6 =$



$4 + 8 + 3 =$

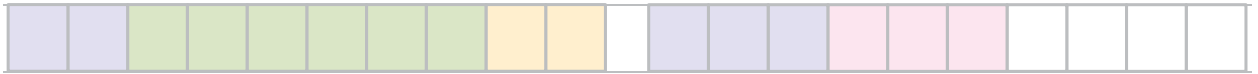


۲۵ با کشیدن شکل، مسئله را حل کن و راه حل را بنویس.



فراز ۹ ماژیک آبی و ۷ ماژیک قرمز دارد. فراز روی هم، چند ماژیک دارد؟

۲۶ شکل زیر مربوط به کدامیک از عبارتهای جمع است؟ با علامت ✓ مشخص کن و جای خالی را پر کن.



$۲ + ۶ + ۵ + ۳ = \dots$

$۲ + ۶ + ۶ + ۳ = \dots$

$۲ + ۶ + ۵ + ۲ = \dots$


۲۷ مسئلهی زیر را با هر روشی که دوست داری حل کن.



شب‌نم خیاط است. او هفتهی گذشته ۵ پیراهن و ۳ دامن دوخته است. این هفته هم

۴ دامن می‌دوزد. شب‌نم تا آخر این هفته روی هم چند پیراهن و دامن می‌دوزد؟

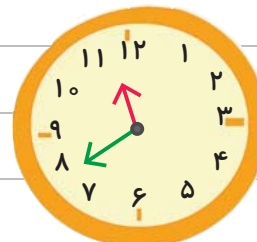
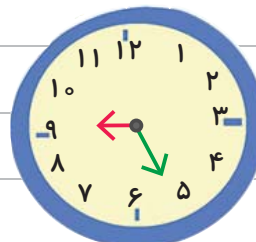
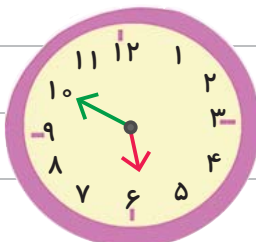
۲۸ برای شکل‌های زیر جمع یا تفریق مناسب بنویس.



$\dots - \dots = \dots$

$\dots + \dots = \dots$

۲۹ جاهای خالی را با اعداد مناسب کامل کن.



ساعت به مانده ساعت از گذشته ساعت به مانده ساعت از گذشته

۳۰ حاصل جمع و تفریق‌های زیر را به عدد مناسب وصل کن.

$17 - 4$

۱۵

$8 + 5$

$9 + 6$

۸

$18 - 3$

$6 + 2$

۱۳

$16 - 8$

۳۱ حاصل جمع‌های زیر را به دست آور.

$5 + 5 + 10 + 20 =$

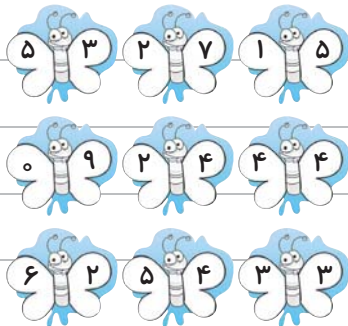
$5 + 20 + 30 + 5 + 10 =$

$20 + 20 + 5 + 30 + 5 =$

$5 + 4 + 30 + 10 + 20 =$

$30 + 10 + 10 + 5 =$




۳۲ هر دو عدد روی بال پروانه را جمع کن و حاصل جمع را با توجه به راهنمای جدول رنگ بزن.




	۶
	۹
	۸

۳۳ با توجه به جدول، ساعت‌ها را رنگ کن.

ساعت به ۳ مانده	
ساعت از ۷ گذشته	
ساعت به ۱ مانده	



۳۴ جمع‌های زیر را کامل کن. (مانند نمونه)



۳-۵-۷ الگوهای زیر را انجام بده.

۲۵-۳۰-۳۵

..... ۸۰-۹۰

شمارش چندتا چندتا

۳۶ هر طبقه‌ی ساختمان زیر از ۳ چینه ساخته شده است. ساختمان‌سازی را تا طبقه‌ی پنجم ادامه بده و الگوی عددی را کامل کن.



طبقه‌ی اول



طبقه‌ی دوم



طبقه‌ی سوم



طبقه‌ی چهارم



طبقه‌ی پنجم

۳, , , , ,

۳۷ اتوبوسی ۹ مسافر داشت. ۵ نفر در ایستگاه اول پیاده شدند و ۴ نفر در ایستگاه

دوم سوار شدند. حالا چند مسافر در اتوبوس باقی مانده است؟





فصل ۱

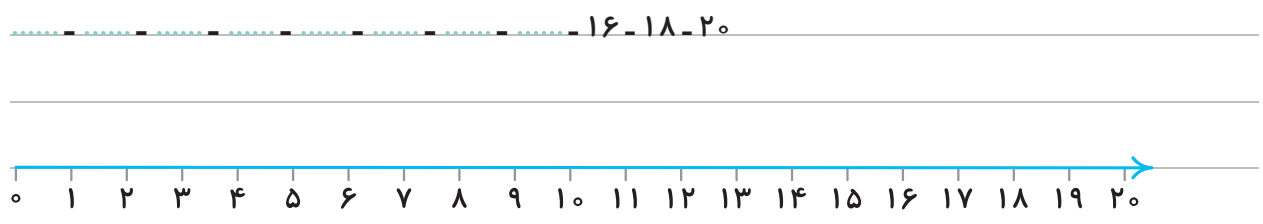
ریاضی دوم کار و تمرین



۳۸ الگوی عددی زیر را ادامه بده و مربع‌ها را طبق الگو رنگ کن.



۳۹ با کمک محور این الگو را کامل کن.



۴۰ جاهای خالی را کامل کن.

- الف در شمارش ۳ تا ۳ تا عدد قبل از ۱۵ چند است؟
- ب در شمارش ۷ تا ۷ تا عدد بعد از ۱۴ را بنویس.
- پ در شمارش ۰ تا ۰ تا عدد بعد از ۵۰ چند است؟
- ت در شمارش ۹ تا ۹ تا بعد از عدد ۲۷ چه عددی است؟
- ث کوچک‌ترین عدد ساخته شده با دو کارت ۸ و ۴ کدام است؟
- ج من ۵ تا از ۷ بیشترم. حالا بگو من چه عددی هستم؟

۴۱ با رسم شکل و چوب‌خط الگوهای عددی را کامل کن. (مانند نمونه)

