

مقدمه ناشر

تقدیم به

خودت

قطعاً بیشترین علامتهایی که در درس‌های ریاضی (به خصوص حسابان) دیده می‌شد ایناست: $=$ ، \neq ، $>$ و $<$. به جورایی می‌شه گفت ریاضی بیشتر دنبال اینه که بگه چی با چی مساویه، چی با چی مساوی نیست. تساوی‌های مطلق ریاضی، دقیق و براساس منطق جبریه و مولای درزش نمی‌ره. به نظرم یکی از چیزایی که ریاضی رو جذاب کرده، همینیه که برابریش واقعاً برابریه!

اما تساوی بازی‌ها، تساوی حقوق آدم‌ها، تساوی همگان در برابر قانون و ...!

برابری‌هایی که خیلی وقتاً برابر نیستند! مثلاً می‌بینید که دو تیم با هم مساوی می‌کنن ولی یکیشون حذف می‌شه. اون یکی می‌ره مرحله بعد. می‌گن بازی با تساوی به پایان رسید ولی به دلیل گل زده بیشتر در خانه حریف، فلان تیم می‌ره مرحله بعد! خب پس در واقع منظورمون اینه که این بازی مساوی، مساوی نشده! داوری و ناداوری و سلیقه شخصی و ... رو هم اضافه کنید به این داستان. از این مثال تو بازی‌ها و مسابقات فراوانه. اوضاع توی تساوی آدم‌ها و حق و حقوقشون خیلی پیچیده‌تر و عجیب‌تره؛ به قول جورج اورول در کتاب قلعه حیوانات (که کتابی بس جذاب است):

all animals are equal but some animals are more equal than others!

بی‌خیال تا گیج‌تر نشدم بریم سر همون ریاضی خودمون که لااقل راست و حسینی مساویش مساویه، نامساویش هم نامساوی! ممنونم از مؤلفای بی‌نظیرمون میثم و علی عزیز که با نوشتن این کتاب فرصتی برای موفقیت بیشتر علاقه‌مندان به ریاضی فراهم کردند. ممنونم از کیوان صارمی که با پیشنهادهای دقیق و موشکافانه‌اش در بهترشدن کتاب مؤثر بود و ممنونم از خانم‌ها یگانه فلاحی، هدی ملک‌پور، زهرا جالینوسی، ریحانه محمدی‌نژاد و میترا حسامی. ممنونم از ویراستاران خوبمون که می‌دونم تمام تلاششون رو کردن تا کتاب بی‌غلط بشه، ممنونم از تیم منسجم و منظم تولیدمون که در خاورمیانه همتا ندارن!

ما دوستتون داریم < آن‌چه فکر می‌کنید.

مقدمه مؤلف

ده سال تحصیلی گذشت. فقط دو سال مانده تا کنکور و بعدش هم دانشگاه. اصل داستان هم آخراشه!

رشته‌تان هم که ریاضی است، پس نتیجه می‌گیریم امسال باید شدیدن حسابان را دریابید! اصلن این کتاب برای همین نوشته شده که شما دوستان ریاضی یازدهمی، در حسابان به مرحله «دریابیدن» برسید! بیا تا بهت بگم چه طوری این کار رو براتون انجام دادیم.

این کتاب شامل ۵ فصل و هر فصل شامل چندین درس‌نامه پر و پیمون! به همراه کلی مثال و تست است.

تو درس‌نامه‌ها هر جا لازم شده که یک روش باحال یاد بدیم که کارتون رو راحت‌تر بکنه، با عنوان «تکنیک» مطرح شدند که البته این جدا از نکات تستی و مفهومی هستند که در کل درس‌نامه برای درک راحت‌تر آورده شده‌اند.

و در آخر هر درس‌نامه، تست‌های آن درس‌نامه با ظرافت خاصی چیده شدن که دست شمارو بگیره گام‌به‌گام جلو بیره تا برسید به اونجا که باید.

در بخش تست‌ها، بعضی از تست‌ها رنگی شده‌اند. اگر وقت کافی برای زدن همه تست‌ها ندارین، این تست‌های رنگی را در اولویت قرار بدین.

تست‌های سری Z که در آخر هر بخش آمده، تست‌های جدی‌تر و قوی‌تری هستند که می‌توانید با آن‌ها خودتان را محک جدی‌تری بزنید. در پایان هر فصل هم یک آزمون جامع گذاشتیم که خودتون رو تو اون فصل محک بزنین.

پاسخ تست‌های هر فصل هم در آخر آن فصل آمده است و برای هر پاسخ آن قدر وسواس به خرج دادیم که بعد از خوندن هر پاسخ خودت بگی «ایول بابا دریابیده شدم»

تازه یک چیز دیگه! چون هم نگران امتحان نهاییتون بودیم و هم کنکور، تو تعدادی از پاسخ‌ها چند راه‌حل نوشتیم؛ هم روش تشریحی (مطابق روش‌های کتاب) که به درد دنیاتون می‌خوره و هم روش‌های تستی که درد آخرتتون! خلاصه این‌که یک کتابی آماده کردیم که لذت فهمیدن ریاضی رو از ته اعماق وجودت درک کنی!

در آخر از تمام دوستان خیلی سبزی‌مان که چند سالی است با آن‌ها کار می‌کنیم تشکر می‌کنیم.

از دکتر کمیل نصری، ایمان سلیمان‌زاده و خانم‌ها زهرا جالینوسی، ریحانه محمدی‌نژاد و میترا حسامی که زحمت زیادی برای این کتاب کشیدند تشکر می‌کنیم.

از همکاران واحد تولید هم که خیلی اذیتشان کردیم تشکر می‌کنیم.

فهرست

۱ فصل اول: جبر و معادله

صفحه

- ۸ درس اول: مجموع جملات دنباله‌های حسابی و هندسی
- ۱۷ درس دوم: معادلات درجه دوم (معادله درجه دوم و ریشه‌های آن - رابطه بین ضرایب و ریشه‌های معادله درجه دوم - معادلات درجه سوم با یک عامل $(x - a)$ - نوشتن معادله درجه دوم - تشکیل معادله درجه دوم جدید - حل معادله با تغییر متغیر - تابع درجه دوم - محور تقارن و مختصات رأس سهمی - رسم نمودار و تعیین ضابطه درجه دوم از روی نمودار - تعیین علامت صفرهای تابع درجه دوم - وضعیت خط و سهمی نسبت به یکدیگر - عدم عبور نمودار تابع درجه دوم از یک ناحیه خاص - مسائل کاربردی - روش هندسی حل معادلات)
- ۴۳ درس سوم: معادلات گویا و گنگ
- ۵۳ درس چهارم: قدرمطلق و ویژگی‌های آن
- ۶۶ درس پنجم: آشنایی با هندسه تحلیلی (نقطه و ویژگی‌های آن، خط و معادله آن، وضعیت دو خط نسبت به هم - فاصله نقطه از خط، فاصله دو خط موازی)
- ۸۱ آزمون فصل:
- ۸۳ پاسخ‌نامه تشریحی:

۲ فصل دوم: تابع

صفحه

- ۱۵۰ درس اول: آشنایی بیشتر با تابع (مفهوم تابع، تابع به عنوان یک ماشین، تساوی دو تابع)
- ۱۵۶ درس دوم: انواع تابع (گویا، رادیکالی، پله‌ای و جزء صحیح)
- ۱۷۳ درس سوم: وارون تابع
- ۱۸۶ درس چهارم: اعمال روی توابع
- ۲۰۲ آزمون فصل:
- ۲۰۴ پاسخ‌نامه تشریحی:

۳ فصل سوم: توابع نمایی و لگاریتمی

صفحه

- ۲۴۵ درس اول: تابع نمایی (نمودار تابع نمایی، معادلات نمایی، نامعادلات نمایی)
- ۲۵۴ درس دوم: تابع لگاریتمی و لگاریتم

۲۶۱ درس سوم: ویژگی‌های لگاریتم و حل معادلات لگاریتمی
۲۷۲ آزمون فصل:
۲۷۴ پاسخ‌نامه تشریحی:

صفحه

۴ فصل چهارم: مثلثات

۳۰۰ درس اول: رادیان (واحدهای اندازه‌گیری زاویه - محاسبه طول کمان)
۳۰۶ درس دوم: نسبت‌های مثلثاتی برخی از زوایا
۳۲۰ درس سوم: توابع مثلثاتی
۳۲۸ درس چهارم: روابط مثلثاتی مجموع و تفاضل زوایا
۳۴۳ آزمون فصل:
۳۴۵ پاسخ‌نامه تشریحی:

صفحه

۵ فصل پنجم: حد و پیوستگی

۳۸۲ درس اول: مفهوم حد و فرایندهای حدی
۳۸۶ درس دوم: حدهای یک‌طرفه (حد چپ و حد راست)
۳۹۵ درس سوم: قضایای حد
۴۰۲ درس چهارم: محاسبه حد توابع کسری (حالت $\frac{\infty}{\infty}$)
۴۱۰ درس پنجم: پیوستگی
۴۲۴ آزمون فصل:
۴۲۶ پاسخ‌نامه تشریحی:
۴۵۹ پاسخ‌نامه کلیدی:

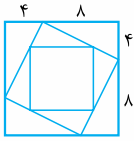


۶۹- مجموع ده جمله اول دنباله ۹,۹۹,۹۹۹,۰۰۰ چندتا یک دارد؟

- ۷ (۱) ۸ (۲) ۹ (۳) ۱۰ (۴)

۷۰- مجموع ده جمله اول دنباله $\frac{1}{3}, \frac{3}{4}, \frac{7}{8}, \dots$ چند برابر $\frac{1}{1024}$ است؟

- ۹۱۷۲ (۱) ۹۷۱۲ (۲) ۹۲۱۷ (۳) ۹۲۷۱ (۴)



۷۱- در شکل مقابل، طول ضلع مربع بزرگ‌تر برابر ۱۲ است. مطابق شکل مربع‌هایی با نسبت‌های ثابت روی اضلاع، در داخل مربع بزرگ‌تر رسم شده است. با رسم حداقل چند مربع، مجموع مساحت‌های مربع‌ها از ۲۹۷ بیشتر می‌شود؟ (مثل‌کنند)

- ۷ (۱) ۴ (۲) ۵ (۳) ۶ (۴)

۷۲- در یک دنباله حسابی جمله اول ۳ واحد از جمله دوم کم‌تر است. اگر مجموع n جمله اول و مجموع $2n$ جمله اول ۶۸ باشد، جمله اول دنباله کدام است؟

- ۱ (۱) -۱ (۲) -۲ (۳) ۳ (۴)

۷۳- حاصل مجموع $2 - 15x^{15} + 3x^3 + 2x^2 + x$ به ازای $x = 2$ کدام است؟

- ۵(۲^{۱۷}) (۱) ۵(۲^{۱۶}) (۲) ۷(۲^{۱۷}) (۳) ۷(۲^{۱۶}) (۴)

۷۴- در یک دنباله هندسی جمله $(n - m)$ ام برابر ۲۰ و جمله $(n + m)$ ام آن برابر ۵ است. اگر بین جمله m ام دنباله و عدد ۱۶۰، هفت واسطه هندسی مثبت قرار دهیم، مجموع کل نه عدد حاصل کدام است؟

- ۲۸۰ + ۷۰√۲ (۱) ۳۲۰ + ۱۲۰√۲ (۲) ۲۹۰ + ۱۴۰√۲ (۳) ۳۱۰ + ۱۵۰√۲ (۴)

۷۵- مجموع شش جمله اول یک دنباله هندسی برابر ۷۵ / ۱۵ و مجموع معکوس‌های آن‌ها برابر ۷ / ۸۷۵ است. حاصل ضرب این شش جمله کدام است؟

- ۸ (۱) ۴ (۲) $\frac{1}{8}$ (۳) $\frac{1}{4}$ (۴)

درس ۲: معادلات درجه دوم

معادله درجه دوم و ریشه‌های آن

در کتاب ریاضی سال دهم روش‌های حل معادله درجه دوم به طور کامل بررسی شد. این روش‌ها را در این جا با هم مرور می‌کنیم.

روش فاکتورگیری این معادلات به فرم $ax^2 + bx = 0$ هستند که با فاکتورگیری در x می‌توانیم ریشه‌ها را بیابیم.

مثال:

$$2x^2 - 3x = 0 \Rightarrow x(2x - 3) = 0 \Rightarrow \begin{cases} x = 0 \\ 2x - 3 = 0 \Rightarrow x = \frac{3}{2} \end{cases}$$

روش تجزیه فرض کنید معادله $x^2 + ax + b = 0$ به راحتی قابل تجزیه باشد، در این حالت باید دو تا عدد پیدا کنیم که مجموع آن‌ها a و حاصل ضرب آن‌ها b است و این دو عدد را در عبارت تجزیه شده قرار دهیم.

مثال:

$$x^2 - 2x - 8 = 0 \Rightarrow (x - 4)(x + 2) = 0 \Rightarrow \begin{cases} x = 4 \\ x = -2 \end{cases}$$

حاصل ضرب مجموع

نکته: اگر ضریب x^2 عددی غیر از یک باشد، از دو تا تکنیک زیر می‌توانید استفاده کنید:

۱ ضریب x^2 مربع کامل باشد: در این حالت جذر جمله اول را از جمله دوم جدا کن.

حالا باید دو تا عدد پیدا کنید به طوری که مجموع آن‌ها ۴ و حاصل ضرب آن‌ها -۲۱ باشد. که این دو عدد ۷ و -۳ خواهند بود؛ پس تجزیه به صورت زیر انجام می‌شود: (حواست باشه در تجزیه، عبارت‌های شامل $2x$ داریم!)

$$4x^2 + 8x - 21 = 0 \Rightarrow 4x^2 + 4(2x) - 21 = 0 \Rightarrow \begin{cases} x = -\frac{3}{2} \\ x = \frac{7}{2} \end{cases}$$

۲ ضریب x^2 مربع کامل نباشد: گام به گام این موضوع را جلو می‌بریم.

گام اول: ضریب x^2 را در عدد ثابت انتهایی ضرب کن:

$$3x^2 + 4x - 4 = 0 \Rightarrow 3x^2 + 4x - 4 = 0 \Rightarrow x^2 + 4x - 12 = 0$$

گام دوم: عبارت حاصل را تجزیه کن:

$$(x + 6)(x - 2) = 0$$

گام سوم: ضریب x^2 را در تجزیه انجام شده برمی‌گردانیم. به این صورت که یکی از اعداد ثابت را تقسیم بر ۳ و ضریب x پرانتز دیگر را ۳ قرار می‌دهیم:

$$(x + \frac{6}{3})(3x - 2) = 0 \Rightarrow (x + 2)(3x - 2) = 0 \Rightarrow \begin{cases} x = -2 \\ x = \frac{2}{3} \end{cases}$$

تذکر: اگر با این تکنیک‌ها عبارت درجه دوم قابل تجزیه نبود، باید از روش کلی حل معادله برای محاسبه ریشه‌ها استفاده کنید.

روش کلی حل معادله درجه دوم فرمول کلی حل معادله درجه دوم $ax^2 + bx + c = 0$ به صورت $x = \frac{-b \pm \sqrt{\Delta}}{2a}$ است که در آن $\Delta = b^2 - 4ac$ است.

مثال: معادلات درجه دوم زیر را حل کنید.

(ب) $2x^2 + 4x + 3 = 0$

(الف) $3x^2 - 4x - 3 = 0$

$\Delta = b^2 - 4ac = (-4)^2 - 4(3)(-3) = 16 + 36 = 52$

پاسخ: الف) دلتای معادله برابر است با:

پس جواب‌های معادله برابر است با:

$$3x^2 - 4x - 3 = 0 \Rightarrow x = \frac{-(-4) \pm \sqrt{52}}{2(3)} = \frac{4 \pm 2\sqrt{13}}{6} \Rightarrow \begin{cases} x_1 = \frac{4 + 2\sqrt{13}}{6} = \frac{2 + \sqrt{13}}{3} \\ x_2 = \frac{4 - 2\sqrt{13}}{6} = \frac{2 - \sqrt{13}}{3} \end{cases}$$

$\Delta = b^2 - 4ac = 4^2 - 4(2)(3) = -8 < 0$

ب)

چون دلتای معادله منفی شده، در تساوی $x = \frac{-b \pm \sqrt{\Delta}}{2a}$ ، زیر رادیکال منفی می‌شود. رادیکال هر پی زور میزنه! نمی‌تونه فروبی بره! پس در این حالت معادله جواب حقیقی ندارد.

یادآوری: در حل معادله درجه دوم $ax^2 + bx + c = 0$ سه حالت زیر را داریم:

شرط	ویژگی	ریشه‌ها
$\Delta > 0$	معادله دو ریشه حقیقی متمایز دارد.	$x_1 = \frac{-b + \sqrt{\Delta}}{2a}, x_2 = \frac{-b - \sqrt{\Delta}}{2a}$
$\Delta = 0$	معادله یک ریشه مضاعف دارد.	$x = \frac{-b}{2a}$
$\Delta < 0$	معادله ریشه حقیقی ندارد.	—

تست: اگر $x = -2$ یک جواب معادله $4x^2 + kx - k = 7$ باشد، جواب دیگر معادله کدام است؟

(۴) $-1/75$

(۳) $-1/25$

(۲) $1/75$

(۱) $1/25$

$4(-2)^2 + k(-2) - k = 7 \Rightarrow 2k = 9 \Rightarrow k = 3$

پاسخ: $x = -2$ یک ریشه معادله است پس در آن صدق می‌کند:

\Rightarrow معادله: $4x^2 + 3x - 10 = 0$

برای یافتن ریشه دیگر معادله از روش کلی حل معادله درجه دوم استفاده می‌کنیم:

$$x = \frac{-b \pm \sqrt{\Delta}}{2a} = \frac{-3 \pm \sqrt{9 - 4(4)(-10)}}{2(4)} = \frac{-3 \pm \sqrt{169}}{8} \Rightarrow \begin{cases} x_1 = \frac{-3 + 13}{8} = \frac{10}{8} = 1/25 \\ x_2 = \frac{-3 - 13}{8} = -2 \end{cases}$$

گاهی وقت‌ها در حل یک مسئله به یک معادله درجه دوم می‌رسیم که باید با حل آن به جواب مسئله برسیم.

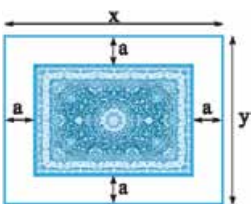
تست: فاصله هر طرف قالی از کنار دیوار یک اتاق مستطیل شکل، ثابت و یکسان است. اگر مساحت اتاق ۲۴ محیط اتاق ۲۰ و محیط قالی ۱۲ باشد، فاصله هر طرف قالی از کنار دیوار اتاق چه قدر است؟

(۴) ۲

(۳) ۱/۵

(۲) ۱

(۱) ۰/۵



پاسخ: شکل مسئله به صورت مقابل است:

با توجه به اندازه‌های روی شکل طول قالی $(x - 2a)$ و عرض آن $(y - 2a)$ است. مساحت اتاق برابر ۲۴ است، پس:

$xy = 24$ (*)

$2(x + y) = 20 \Rightarrow x + y = 10 \Rightarrow y = 10 - x$

محیط اتاق هم برابر ۲۰ است:

با جای گذاری تساوی $y = 10 - x$ در (*) طول و عرض اتاق را می‌یابیم:

$x(10 - x) = 24 \Rightarrow 10x - x^2 = 24 \Rightarrow x^2 - 10x + 24 = 0 \Rightarrow (x - 6)(x - 4) = 0 \Rightarrow x = 6, 4$

چون طول اتاق از عرض آن بیشتر است، پس طول اتاق برابر ۶ و عرض آن برابر ۴ است. حالا با توجه به این که محیط قالی برابر ۱۲ است، فاصله هر طرف قالی از کنار دیوار اتاق یعنی a را می‌یابیم: $2(6 - 2a + 4 - 2a) = 12 \xrightarrow{x=6, y=4} 2(6 - 2a + 4 - 2a) = 12 \Rightarrow 10 - 4a = 6 \Rightarrow 4a = 4 \Rightarrow a = 1$



ریشه مشترک دو معادله درجه دوم ریشه مشترک دو معادله، ریشه‌ای است که در هر دو معادله صدق می‌کند. مثلاً در معادلات $x^2 + 2x - 3 = 0$

و $x^2 + x - 6 = 0$ ، ریشه مشترک دو معادله است.

برای یافتن ریشه مشترک دو معادله کفایت ابتدا همه عبارتها را در هر معادله به یک طرف ببریم و سپس دو عبارت درجه دوم را برابر قرار دهیم، به طوری که x^2 ها حذف شوند؛ سپس معادله خطی حاصل را حل می‌کنیم. اگر جواب این معادله در معادلات صدق کند، ریشه مشترک دو معادله است.

تذکر: اگر ضریب x^2 در معادله‌های درجه دوم یکسان نباشد، اول باید ضرایب را یکسان کنید.

تست: اگر $x = 2 + \sqrt{3}$ ریشه مشترک معادلات $x^2 + mx + 3 = 0$ و $2x^2 + 2x + m = 0$ باشد، m کدام است؟

(۱) $\frac{6-2\sqrt{3}}{3}$ (۲) $\frac{6+2\sqrt{3}}{3}$ (۳) $\frac{18+10\sqrt{3}}{3}$ (۴) $\frac{18-10\sqrt{3}}{3}$

پاسخ ۴: معادله اول را در ۲ ضرب می‌کنیم تا ضریب x^2 ها یکی شوند:

$$x^2 + mx + 3 = 0 \xrightarrow{\times 2} 2x^2 + 2mx + 6 = 0$$

$$2x^2 + 2mx + 6 = 2x^2 + 2x + m \Rightarrow 2mx + 6 = 2x + m \Rightarrow (2m - 2)x = m - 6 \quad (*)$$

حالا طرف چپ معادلات را برابر قرار می‌دهیم: چون ریشه مشترک معادلات، $2 + \sqrt{3}$ است، پس $x = 2 + \sqrt{3}$ در معادله (*) صدق می‌کند:

$$(2m - 2)(2 + \sqrt{3}) = m - 6 \Rightarrow (4 + 2\sqrt{3})m - 4 - 2\sqrt{3} = m - 6 \Rightarrow (3 + 2\sqrt{3})m = 2\sqrt{3} - 2$$

$$\Rightarrow m = \frac{(2\sqrt{3} - 2)}{2\sqrt{3} + 3} \stackrel{\text{گویا}}{=} \frac{(2\sqrt{3} - 2)(2\sqrt{3} - 3)}{12 - 9} = \frac{12 - 10\sqrt{3} + 6}{3} = \frac{18 - 10\sqrt{3}}{3}$$

روابط بین ضرایب و ریشه‌های معادله درجه دوم در حالتی که معادله درجه دوم $ax^2 + bx + c = 0$ دو ریشه دارد، ریشه‌ها عبارت‌اند از:

$$\alpha = \frac{-b + \sqrt{\Delta}}{2a}, \beta = \frac{-b - \sqrt{\Delta}}{2a}$$

پس روابط بین ریشه‌ها که سه حالت اساسی دارد، به صورت زیر محاسبه می‌شود:

الف مجموع ریشه‌ها که با حرف S نمایش داده می‌شود، برابر است با:

$$\text{مجموع ریشه‌ها} = \alpha + \beta = \frac{-b + \sqrt{\Delta}}{2a} + \frac{-b - \sqrt{\Delta}}{2a} = \frac{-2b}{2a} = -\frac{b}{a} \Rightarrow S = \alpha + \beta = -\frac{b}{a}$$

ب حاصل ضرب ریشه‌ها که با حرف P نمایش داده می‌شود، برابر است با:

$$\text{حاصل ضرب ریشه‌ها} = \alpha \cdot \beta = \left(\frac{-b + \sqrt{\Delta}}{2a}\right) \left(\frac{-b - \sqrt{\Delta}}{2a}\right) = \frac{b^2 - \Delta}{4a^2} \xrightarrow{\Delta = b^2 - 4ac} \alpha \cdot \beta = \frac{b^2 - (b^2 - 4ac)}{4a^2} = \frac{4ac}{4a^2} = \frac{c}{a} \Rightarrow P = \alpha \beta = \frac{c}{a}$$

پ قدرمطلق تفاضل ریشه‌ها که با حرف M نمایش داده می‌شود برابر است با:

$$\text{قدرمطلق تفاضل ریشه‌ها} = |\alpha - \beta| = \left| \frac{-b + \sqrt{\Delta}}{2a} - \frac{-b - \sqrt{\Delta}}{2a} \right| = \left| \frac{2\sqrt{\Delta}}{2a} \right| = \left| \frac{\sqrt{\Delta}}{a} \right| = \frac{\sqrt{\Delta}}{|a|} \Rightarrow M = |\alpha - \beta| = \frac{\sqrt{\Delta}}{|a|}$$

تست: در معادله $(k+1)x^2 + kx = 2k - 1$ ، حاصل ضرب ریشه‌ها نصف حاصل جمع آنها است. k کدام است؟

(۱) $-\frac{1}{3}$ (۲) $-\frac{2}{3}$ (۳) $\frac{1}{3}$ (۴) $\frac{2}{3}$

پاسخ ۴: ابتدا معادله را مرتب می‌کنیم:

$$\underbrace{(k+1)}_a x^2 + \underbrace{k}_b x - \underbrace{(2k-1)}_c = 0$$

$$\text{بنابراین:} \quad \text{حاصل ضرب ریشه‌ها} = \frac{c}{a} = \frac{-2k+1}{k+1} \quad \text{حاصل جمع ریشه‌ها} = -\frac{b}{a} = -\frac{k}{k+1}$$

حاصل ضرب ریشه‌ها نصف حاصل جمع آنها است بنابراین:

$$\frac{-2k+1}{k+1} = \frac{1}{2} \left(-\frac{k}{k+1}\right) \xrightarrow{k+1 \neq 0} -2k+1 = \frac{1}{2}(-k) \Rightarrow -4k+2 = -k \Rightarrow 3k = 2 \Rightarrow k = \frac{2}{3}$$

تست: اگر ریشه‌های معادله $2x^2 - (a+1)x + 2a = 0$ دو عدد فرد طبیعی و متوالی باشند، آن‌گاه به ازای کدام مقدار b ریشه‌های معادله

$x^2 - (a-1)x + b = 0$ دو عدد زوج متوالی است؟

(۱) 120 (۲) 80 (۳) 48 (۴) 24

پاسخ ۳: چون ریشه‌های معادله $2x^2 - (a+1)x + 2a = 0$ دو عدد فرد متوالی است، پس فاصله آنها برابر ۲ واحد است، در نتیجه:

$$|\alpha - \beta| = 2 \Rightarrow \frac{\sqrt{\Delta}}{|a|} = 2 \Rightarrow \frac{\sqrt{\Delta}}{2} = 2 \Rightarrow \Delta = 16 \Rightarrow (a+1)^2 - 16a = 16 \Rightarrow a^2 + 2a + 1 - 16a = 16 \Rightarrow a^2 - 14a - 15 = 0 \xrightarrow{a+c=b} \begin{cases} a = -1 \\ a = 15 \end{cases}$$

معادله: $2x^2 - 2 = 0 \Rightarrow x = \pm 1$

$x^2 - 14x + b = 0$

اگر $a = -1$ باشد: پس یکی از ریشه‌ها -1 خواهد شد که طبیعی نیست؛ بنابراین $a = 15$ قابل قبول است. این مقدار را در معادله دوم قرار می‌دهیم:

این معادله دارای دو ریشه زوج متوالی است؛ پس با توجه به این که جمع ریشه‌ها برابر 14 است، در نتیجه دو ریشه برابر 6 و 8 هستند؛ بنابراین:

$b = 48 \Rightarrow (8)(6) = b \Rightarrow b = 48$ ضرب ریشه‌ها

در سایر مواردی که رابطه بین ریشه‌ها را می‌خواهند، باید رابطه را به ترکیبی از S, P, M یا M تبدیل کنیم. در این موارد به حالت‌های زیر توجه کنید:

$$\frac{1}{\alpha} + \frac{1}{\beta} = \frac{\beta + \alpha}{\alpha\beta} = \frac{S}{P}$$

۱ در حالت‌های کسری معمولاً منخرج مشترک می‌گیریم:

$$\alpha^r + \beta^r = (\alpha + \beta)^r - r\alpha\beta = S^r - rP$$

۲ در حالت‌هایی که α و β توان‌های یکسان دارند، معمولاً از اتحادها استفاده می‌کنیم:

$$\alpha^r + \beta^r = (\alpha + \beta)^r - r\alpha\beta(\alpha + \beta) = S^r - rPS$$

$$\alpha^r - \beta^r = (\alpha - \beta)(\alpha^r + \beta^r + \alpha\beta) = \underbrace{(\alpha - \beta)}_M (S^r - rP + P) = M(S^r - P)$$

هم‌چنین با فرض $\alpha > \beta$ داریم:

$$\alpha^r - \beta^r = -M(S^r - P)$$

دقت کنید اگر $\alpha < \beta$ باشد آن‌گاه:

۳ در حالت‌هایی که α و β رادیکال دارند، معمولاً از توان‌رسانی استفاده می‌کنیم تا رادیکال‌ها حذف شوند:

$$A = \sqrt{\alpha} + \sqrt{\beta} \Rightarrow A^2 = \alpha + \beta + 2\sqrt{\alpha\beta} = S + 2\sqrt{P} \Rightarrow A = \sqrt{S + 2\sqrt{P}}$$

مثال: اگر α و β ریشه‌های معادله $2x^2 - 4x + 1 = 0$ باشند، حاصل مقادیر زیر را محاسبه کنید.

ت $|\alpha^2 - \beta^2|$

پ $|\sqrt{\alpha} - \sqrt{\beta}|$

ب $\alpha^2 + \beta^2$

الف $\frac{\alpha}{\beta} + \frac{\beta}{\alpha}$

پاسخ: در معادله $2x^2 - 4x + 1 = 0$ داریم:

$$\begin{cases} S = \alpha + \beta = -\frac{b}{a} = -\frac{-4}{2} = 2 \\ P = \alpha\beta = \frac{c}{a} = \frac{1}{2} \\ M = |\alpha - \beta| = \frac{\sqrt{\Delta}}{|a|} = \frac{\sqrt{16 - 4(2)}}{2} = \frac{\sqrt{8}}{2} = \frac{2\sqrt{2}}{2} = \sqrt{2} \end{cases}$$

$$\frac{\alpha}{\beta} + \frac{\beta}{\alpha} = \frac{\alpha^2 + \beta^2}{\alpha\beta} = \frac{S^2 - 2P}{P} = \frac{2^2 - 2(\frac{1}{2})}{\frac{1}{2}} = 6$$

الف

$$\alpha^2 + \beta^2 = (\alpha + \beta)^2 - 2\alpha\beta = S^2 - 2P = 2^2 - 2(\frac{1}{2}) = 5$$

ب

$$A = |\sqrt{\alpha} - \sqrt{\beta}| \Rightarrow A^2 = \alpha + \beta - 2\sqrt{\alpha\beta} = S - 2\sqrt{P} = 2 - 2\sqrt{\frac{1}{2}} = 2 - \sqrt{2} \Rightarrow A = \sqrt{2 - \sqrt{2}}$$

عبارت را برابر A قرار داده و طرفین را به توان 2 می‌رسانیم:

پ

$$|\alpha^2 - \beta^2| = |\alpha - \beta| |\alpha + \beta| = M \times S = \sqrt{2} \times 2 = 2\sqrt{2}$$

ت

در حالتی که توان‌های α و β یکسان نیست، باید با کمک معادله توان‌های آن‌ها را یکسان کنیم و سپس رابطه را به ترکیبی از S, P, M تبدیل کنیم:

تست: اگر α و β ریشه‌های معادله $2x^2 - 6x + 3 = 0$ باشند، حاصل $\alpha^2(2\beta - 1)$ کدام است؟

۴ $\frac{3}{2}$

۳ $\frac{2}{3}$

۲ $\frac{9}{4}$

۱ $\frac{4}{9}$

پاسخ ۴: توان‌های α و β یکسان نیست، بنابراین ابتدا باید توان‌ها را یکی کنیم. α ریشه معادله است پس در معادله صدق می‌کند:

$$2\alpha^2 - 6\alpha + 3 = 0 \Rightarrow 2\alpha^2 = 6\alpha - 3 \Rightarrow \alpha^2 = \frac{6\alpha - 3}{2}$$

$$\text{عبارت} = \frac{6\alpha - 3}{2} (2\beta - 1) = \frac{12\alpha\beta - 6\beta - 6\alpha + 3}{2} = \frac{12\alpha\beta - 6(\beta + \alpha) + 3}{2} = \frac{12P - 6S + 3}{2} \quad (*)$$

پس در عبارت $\alpha^2(2\beta - 1)$ داریم:

$$2x^2 - 6x + 3 = 0 \Rightarrow \begin{cases} S = -\frac{b}{a} = -\frac{-6}{2} = 3 \\ P = \frac{c}{a} = \frac{3}{2} \end{cases} \xrightarrow{(*)} \text{عبارت} = \frac{12(\frac{3}{2}) - 6(3) + 3}{2} = \frac{3}{2}$$

حالا مقادیر S و P را از معادله $2x^2 - 6x + 3 = 0$ می‌یابیم:



می‌توانید به صورت زیر هم عمل کنید:

$$2\beta^2 - 6\beta + 3 = 0 \Rightarrow 6\beta - 3 = 2\beta^2 \xrightarrow{+3} 2\beta - 1 = \frac{2\beta^2}{3} \quad (**)$$

حالا حاصل عبارت $\alpha^2(2\beta - 1)$ را می‌یابیم:

$$\xrightarrow{(**)} \text{عبارت} = \alpha^2 \left(\frac{2\beta^2}{3} \right) = \frac{2\alpha^2 \beta^2}{3} = \frac{2P^2}{3} \stackrel{P=\frac{2}{3}}{=} \frac{2\left(\frac{2}{3}\right)^2}{3} = \frac{2\left(\frac{4}{9}\right)}{3} = \frac{8}{27} = \frac{8}{3^3}$$

حالا بعضی وقت‌ها هست که توان‌ها یکسان‌اند ولی ضرایب نابرابرند. در این حالت مطابق تست زیر عمل کنید:

تست: اگر x_1 و x_2 ریشه‌های معادله $x^2 + 2x - 2 = 0$ باشند که $x_1 > x_2$ ، حاصل $3x_1^2 + x_2^2$ کدام است؟

۱۶ - ۴√۳ (۴)

۱۶ + ۴√۳ (۳)

۸ - ۴√۳ (۲)

۸ + ۴√۳ (۱)

پاسخ ۴: وقتی ریشه‌ها توان یکسان دارند اما ضرایبشان با هم فرق دارد باید این‌طور بریم جلو!

$$3x_1^2 + x_2^2 = \left(\frac{\text{جمع ضرایب}}{۲}\right)(x_1^2 + x_2^2) + \left(\frac{\text{تفاضل ضرایب}}{۲}\right)(x_1^2 - x_2^2) \Rightarrow 3x_1^2 + x_2^2 = \left(\frac{3+1}{۲}\right)(x_1^2 + x_2^2) + \left(\frac{3-1}{۲}\right)(x_1^2 - x_2^2)$$

$$\Rightarrow 3x_1^2 + x_2^2 = 2(x_1^2 + x_2^2) + (x_1^2 - x_2^2) = 2(x_1^2 + x_2^2) + (x_1 - x_2)(x_1 + x_2)$$

$$x_1 - x_2 = \frac{\sqrt{\Delta}}{|a|}$$

$x_1 > x_2$ است پس $x_1 - x_2 > 0$ ، در نتیجه:

$$\text{عبارت} = 2(S^2 - 2P) + \frac{\sqrt{\Delta}}{|a|}(S)$$

$x_1^2 + x_2^2$ که $S^2 - 2P$ و $x_1 + x_2$ هم که S است، پس:

S, P, a و Δ باید از معادله محاسبه شود:

$$x^2 + 2x - 2 = 0 \Rightarrow \begin{cases} S = -2, P = -2 \\ a = 1, \Delta = 12 \end{cases} \Rightarrow \text{عبارت} = 2((-2)^2 - 2(-2)) + \frac{\sqrt{12}}{1}(-2) = 2(4+4) + 2\sqrt{3}(-2) = 16 - 4\sqrt{3}$$

نکته: در معادله درجه دوم $ax^2 + bx + c = 0$:

۱ اگر $a + b + c = 0$ ، آن‌گاه یک جواب معادله ۱ و جواب دیگر $\frac{c}{a}$ است.

۲ اگر $a + c = b$ ، آن‌گاه یک جواب معادله -۱ و جواب دیگر $-\frac{c}{a}$ است.

تست: اگر $\alpha = 1$ یک ریشه معادله $3x^2 - ax - 5 = 0$ باشد، ریشه دیگر کدام است؟

$-\frac{5}{3}$ (۴)

$\frac{5}{3}$ (۳)

$\frac{2}{3}$ (۲)

$-\frac{2}{3}$ (۱)

$$\text{ریشه دیگر} = \frac{-5}{3} = -\frac{5}{3}$$

پاسخ ۴: روش چون یک جواب معادله $\alpha = 1$ است، جواب دیگر $\frac{c}{a}$ است. پس:

$$P = \alpha \cdot \beta = \frac{c}{a} \Rightarrow (1)\beta = \frac{-5}{3} \Rightarrow \beta = -\frac{5}{3}$$

روش ۲: $\alpha = 1$ یک جواب معادله است. از طرفی:

تست: اگر x_1 و x_2 ریشه‌های معادله $\sqrt{2}x^2 + (\sqrt{2}-1)x = 1$ باشند، حاصل $\frac{x_1^2}{x_1^2+1} + \frac{x_2^2}{x_2^2+1}$ کدام است؟

$\frac{4}{3}$ (۴)

$\frac{7}{6}$ (۳)

$\frac{5}{6}$ (۲)

$\frac{2}{3}$ (۱)

$$\frac{\sqrt{2}x^2}{a} + \frac{(\sqrt{2}-1)x}{b} = \frac{1}{c} = 0$$

پاسخ ۲: اول معادله را مرتب می‌کنیم:

با توجه به معادله، $a + c = b$ است، پس یک ریشه معادله برابر -۱ و ریشه دیگر برابر $\frac{1}{\sqrt{2}}$ است. در نتیجه:

$$\begin{cases} x_1 = -1 \\ x_2 = \frac{1}{\sqrt{2}} \end{cases} \Rightarrow \frac{x_1^2}{x_1^2+1} + \frac{x_2^2}{x_2^2+1} = \frac{1}{1+1} + \frac{\frac{1}{2}}{\frac{1}{2}+1} = \frac{1}{2} + \frac{\frac{1}{2}}{\frac{3}{2}} = \frac{1}{2} + \frac{1}{3} = \frac{5}{6}$$

بعضی وقت‌ها رابطه داده‌شده فقط برحسب یکی از ریشه‌ها است. در این حالت باید با کمک جمع ریشه‌ها یا ضرب ریشه‌ها، رابطه داده‌شده را برحسب دو ریشه بنویسیم و سپس آن را برحسب S, P, M نوشته و حاصل را محاسبه کنیم.

تست: اگر α ریشه معادله $2x^2 + x = 2$ باشد، حاصل $\alpha^3 - \frac{1}{\alpha^3}$ کدام است؟

- (۱) $\frac{15}{8}$ (۲) $-\frac{15}{8}$ (۳) $\frac{13}{8}$ (۴) $-\frac{13}{8}$

پاسخ ۳: رابطه خواسته شده فقط برحسب یکی از ریشه‌هاست پس نمی‌توانیم آن را برحسب S و P بنویسیم. در این حالت از جمع یا ضرب ریشه‌ها کمک می‌گیریم:

$$\Rightarrow \begin{cases} S = \alpha + \beta = -\frac{1}{2} \Rightarrow \beta = -\frac{1}{2} - \alpha \\ P = \alpha\beta = -1 \Rightarrow \beta = -\frac{1}{\alpha} \end{cases}$$

اگر فوب دقت کنید متوجه میشوید که رابطه ضرب ریشه‌ها یک جورایی با $\alpha^3 - \frac{1}{\alpha^3}$ رابطه دارد نگاه کن!

حالا این رابطه را در $\alpha^3 - \frac{1}{\alpha^3}$ جای گذاری می‌کنیم و حاصل را می‌یابیم:

$$\alpha^3 - \frac{1}{\alpha^3} = \alpha^3 + \beta^3 = S^3 - 3PS = \left(-\frac{1}{2}\right)^3 - 3\left(-1\right)\left(-\frac{1}{2}\right) = -\frac{1}{8} - \frac{3}{4} = \frac{-1-12}{8} = -\frac{13}{8}$$

در برخی سؤالات هم دیده شده که مقدار رابطه بین ریشه‌ها را می‌دهند و در عوض از ما می‌خواهند یکی از ضرایب معادله درجه دوم را که مجهول است محاسبه کنیم. این مسائل در دو تیپ قابل بررسی هستند.

تست: به ازای کدام مجموعه مقادیر m مجموع معکوس مربعات ریشه‌های $x^2 + (3m+1)x + m+1 = 0$ برابر ۳ است؟

- (۱) ۱ (۲) $-\frac{2}{3}$ (۳) ۱ و $-\frac{2}{3}$ (۴) \emptyset

پاسخ ۱: مجموع معکوس مربعات ریشه‌ها برابر ۳ است؛ یعنی:

$$\frac{1}{\alpha^2} + \frac{1}{\beta^2} = 3 \Rightarrow \frac{\alpha^2 + \beta^2}{\alpha^2 \beta^2} = 3 \Rightarrow \frac{S^2 - 2P}{P^2} = 3 \quad (*)$$

$$S = -(3m+1), P = m+1$$

با توجه به معادله $x^2 + (3m+1)x + m+1 = 0$ داریم:

$$\xrightarrow{(*)} \frac{(-(3m+1))^2 - 2(m+1)}{(m+1)^2} = 3 \Rightarrow \frac{9m^2 + 6m + 1 - 2m - 2}{m^2 + 2m + 1} = 3 \Rightarrow 9m^2 + 4m - 1 = 3m^2 + 6m + 3$$

$$\Rightarrow 6m^2 - 2m - 4 = 0 \xrightarrow{\div 2} 3m^2 - m - 2 = 0 \xrightarrow{\text{جمع ضرایب}} \begin{cases} m = 1 \\ m = \frac{c}{a} = -\frac{2}{3} \end{cases}$$

اما به ازای $m = -\frac{2}{3}$ معادله به صورت $x^2 - x + \frac{1}{3} = 0$ تبدیل می‌شود و با توجه به این‌که دلتای این معادله منفی است، بنابراین معادله ریشه حقیقی نخواهد داشت. در نتیجه تنها $m = 1$ قابل قبول است.

تست: اگر α و β ریشه‌های معادله $2x^2 - 6x + a = 0$ باشند و $2\alpha^2 + \beta^2 - 3\alpha = 5$ باشد، a کدام است؟

- (۱) $\frac{7}{3}$ (۲) $\frac{1}{3}$ (۳) $\frac{4}{3}$ (۴) $\frac{5}{3}$

پاسخ ۲: رابطه بین ریشه‌ها را به فرم بهتری تبدیل می‌کنیم که بتوانیم آن را برحسب S و P بنویسیم:

$$2\alpha^2 + \beta^2 - 3\alpha = 5 \Rightarrow \alpha^2 + \alpha^2 + \beta^2 - 3\alpha = 5 \Rightarrow (\alpha^2 - 3\alpha) + (\alpha^2 + \beta^2) = 5 \quad (*)$$

$x = \alpha$ ریشه معادله $2x^2 - 6x + a = 0$ است؛ پس در معادله صدق می‌کند. با توجه به معادله، داریم:

$$2\alpha^2 - 6\alpha + a = 0 \Rightarrow 2\alpha^2 - 6\alpha = -a \Rightarrow \alpha^2 - 3\alpha = -\frac{a}{2}$$

حالا می‌توانیم در معادله (*) به $\alpha^2 + \beta^2$ بنویسیم $S^2 - 2P$ و به جای $\alpha^2 - 3\alpha$ بنویسیم $-\frac{a}{2}$:

$$-\frac{a}{2} + S^2 - 2P = 5 \quad (**)$$

$$\xrightarrow{(**)} -\frac{a}{2} + 9 - 2\left(\frac{a}{2}\right) = 5 \Rightarrow -\frac{3a}{2} = -4 \Rightarrow a = \frac{8}{3}$$

تست: به ازای کدام مقدار m یکی از ریشه‌های معادله $2x^2 - 5x + m = 0$ از دو برابر ریشه دیگر ۷ واحد بیشتر است؟ (مثل کتور)

- (۱) -۴ (۲) -۶ (۳) -۸ (۴) -۱۲

پاسخ ۴: یکی از ریشه‌ها (α) از دو برابر دیگری (β)، ۷ واحد بیشتر است، پس:

این رابطه بر حسب S و P قابل نوشتن نیست. در این جور مواقع به معادله رجوع می‌کنیم. با توجه به معادله، مقدار مجموع ریشه‌ها را داریم:

$$\alpha + \beta = -\frac{b}{a} = \frac{5}{2} \xrightarrow{(*)} 2\beta + 7 + \beta = \frac{5}{2} \Rightarrow 3\beta = -\frac{9}{2} \Rightarrow \beta = -\frac{3}{2} \xrightarrow{(*)} \alpha = 2\left(-\frac{3}{2}\right) + 7 = 4$$



حالا با توجه به معادله برای محاسبه مقدار m از حاصل ضرب ریشه‌ها استفاده می‌کنیم: $P = \alpha\beta = \frac{m}{\gamma} \Rightarrow (-\frac{3}{\gamma})(-\frac{3}{\gamma}) = \frac{m}{\gamma} \Rightarrow m = -12$

تست: اگر x_1 و x_2 ریشه‌های معادله $x^2 - (a^2 + 2a - 4)x + a^2 = 0$ باشند، به طوری که $x_1 = \sqrt{x_2}$ ، آن‌گاه حاصل $x_1 + \frac{x_2}{a-2}$ کدام است؟

پاسخ: مجموع و حاصل ضرب ریشه‌های معادله $x^2 - (a^2 + 2a - 4)x + a^2 = 0$ را می‌نویسیم:

از رابطه بین ریشه‌ها یعنی $x_1 = \sqrt{x_2}$ نتیجه می‌گیریم $x_1^2 = x_2$ (و هر دو ریشه مثبت‌اند)؛ پس ریشه‌ها را x_1 و x_1^2 می‌گیریم. از P کمک می‌گیریم.

پس ریشه‌های معادله a و a^2 هستند. حالا سراغ S می‌رویم. مجموع a و a^2 (یعنی ریشه‌ها) برابر با S یعنی $a^2 + 2a - 4$ است:

پس با توجه به مقدار a ، ریشه‌ها برابرند با:

در نتیجه:

تعیین علامت ریشه‌های معادله درجه دوم در حالتی که $\Delta > 0$ ، معادله درجه دوم دو ریشه دارد. می‌توانیم بدون محاسبه ریشه‌ها در مورد علامت آن‌ها بحث کنیم:

$$\Delta > 0 \Rightarrow \begin{cases} \text{دو ریشه مثبت: } \frac{-b}{a} > 0 \\ \text{دو ریشه منفی: } \frac{-b}{a} < 0 \end{cases} \Rightarrow \begin{cases} \text{دو ریشه با علامت‌های یکسان دارد: } \frac{c}{a} > 0 \\ \text{دو ریشه با علامت‌های مخالف دارد: } \frac{c}{a} < 0 \end{cases}$$

نکته: در حالتی که $\Delta = 0$ است، معادله یک ریشه مضاعف به صورت $x = -\frac{b}{2a}$ دارد.

مثال: در مورد علامت جواب‌های معادله $3x^2 + 4x - \sqrt{2} = 0$ نظر دهید.

پاسخ: اول باید Δ محاسبه شود:

پس معادله دو ریشه دارد. از طرفی: $\frac{c}{a} = \frac{-\sqrt{2}}{3} < 0$ پس معادله دو ریشه با علامت‌های مخالف دارد. هم‌چنین: در نتیجه ریشه مثبت از قدرمطلق ریشه منفی کوچک‌تر است.

نکته: وقتی $\frac{c}{a} < 0$ (یا $ac < 0$) به طور قطع $\Delta > 0$ است.

تعیین نوع ریشه‌های معادله درجه دوم برای تعیین نوع ریشه‌ها می‌توانید از جدول زیر کمک بگیرید:

نوع ریشه(ها)	شرایط Δ ، $\frac{c}{a}$ و $-\frac{b}{a}$
یک ریشه مضاعف مثبت	$\Delta = 0$ و $-\frac{b}{a} > 0$
یک ریشه مضاعف منفی	$\Delta = 0$ و $-\frac{b}{a} < 0$
دو ریشه قرینه هم $(\alpha$ و $-\alpha)$	$\Delta > 0$ و $b = 0$ (یا $ac < 0$)
دو ریشه معکوس هم $(\frac{1}{\alpha}$ و $\alpha)$	$\Delta > 0$ و $a = c$

تست: به ازای کدام مقدار m معادله $2x^2 - x + m - 1 = 0$ دو ریشه حقیقی معکوس هم دارد؟

پاسخ: طبق جدول باید دو شرط $\Delta > 0$ و $a = c$ برقرار باشد:

با قراردادن $m = 3$ در معادله، معادله به صورت $2x^2 - x + 2 = 0$ خواهد شد. چون دلتای معادله منفی است، پس $m = 3$ قابل قبول نیست. در نتیجه هیچ مقداری برای m وجود ندارد.

معادلات درجه سوم با یک عامل $(x-a)$ تا این جا در مورد حل معادلات درجه دوم مفصل حرف زدیم. حالا می خواهیم یک کوهپولو! در مورد حل معادلات درجه سوم هم بحث کنیم. قبل از شروع بحث اول به نکته زیر توجه کنید:

نکته: اگر $x=a$ یک ریشه معادله $f(x)=0$ باشد، آنگاه $f(x)$ یک عامل $(x-a)$ دارد و $f(x)$ بر $(x-a)$ بخش پذیر است.

به عنوان مثال $x=1$ یک ریشه معادله $x^3-3x+2=0$ است. پس x^3-3x+2 یک عامل $(x-1)$ دارد. پس با تقسیم x^3-3x+2 بر $x-1$ آن را تجزیه می کنیم:

$$\begin{array}{r} x^3-3x+2 \quad | \quad x-1 \\ -(x^3-x^2) \\ \hline x^2-3x+2 \\ -(x^2-x) \\ \hline -2x+2 \\ -(-2x+2) \\ \hline 0 \end{array} \Rightarrow x^3-3x+2=(x-1)(x^2+x-2)$$

حالا اگر قرار باشد سایر ریشه های معادله را هم بیابیم باید ریشه های معادله $x^2+x-2=0$ را محاسبه کنیم:

$$x^2+x-2=0 \Rightarrow (x-1)(x+2)=0 \Rightarrow x=1, x=-2$$

بنابراین معادله $x^3-3x+2=0$ دارای دو ریشه 1 و -2 است.

تست: اگر $x=2$ یکی از جواب های معادله $x^3+ax+2=0$ باشد، کوچک ترین ریشه معادله کدام است؟

- (۱) $-2-\sqrt{2}$ (۲) $\sqrt{2}-1$ (۳) $-1-\sqrt{2}$ (۴) $2-\sqrt{2}$

پاسخ ۳: چون 2 یکی از ریشه های معادله است، پس در معادله صدق می کند:

$$(2)^3+a(2)+2=0 \Rightarrow a=-5 \Rightarrow \text{معادله: } x^3-5x+2=0$$

چون $x=2$ یک جواب معادله است، پس عبارت $P(x)=x^3-5x+2$ یک عامل $x-2$ دارد. پس با تقسیم $P(x)$ بر $x-2$ خواهیم داشت:

$$\begin{array}{r} x^3-5x+2 \quad | \quad x-2 \\ -(x^3-2x^2) \\ \hline 2x^2-5x+2 \\ -(2x^2-4x) \\ \hline -x+2 \\ -(-x+2) \\ \hline 0 \end{array} \Rightarrow x^3-5x+2=(x-2)(x^2+2x-1) \xrightarrow{P(x)=0} (x-2)(x^2+2x-1)=0$$

$$\Rightarrow \begin{cases} x-2=0 \Rightarrow x_1=2 \\ x^2+2x-1=0 \Rightarrow x = \frac{-2 \pm \sqrt{8}}{2} \end{cases}$$

$$x = \frac{-2 \pm 2\sqrt{2}}{2} = -1 \pm \sqrt{2} \Rightarrow \begin{cases} x_2 = -1 + \sqrt{2} \\ x_3 = -1 - \sqrt{2} \end{cases}$$

پس جواب های دیگر معادله برابرند با:

بنابراین $x_3 = -1 - \sqrt{2}$ کوچک ترین ریشه معادله است.

نکته: در معادله درجه سوم $ax^3+bx^2+cx+d=0$:

- ۱ اگر $a+b+c+d=0$ ، آنگاه یک ریشه 1 است. پس عبارت درجه سوم یک عامل $x-1$ دارد.
- ۲ اگر $a+c=b+d$ ، آنگاه یک ریشه -1 است. پس عبارت درجه سوم یک عامل $x+1$ دارد.
- ۳ معمولاً یکی از ریشه های معادله 1 یا -1 یا 2 یا -2 است. که با امتحان صدق کردن آن ها در معادله می توانید آن را بیابید.
- ۴ اگر معادله سه ریشه حقیقی داشته باشد آنگاه مجموع ریشه ها برابر $-\frac{b}{a}$ و حاصل ضرب ریشه ها برابر $-\frac{d}{a}$ است.

تست: معادله $x^3-2x^2-5x-2=0$ چند ریشه دارد؟

- (۱) صفر (۲) 2 (۳) 3 (۴) 4

پاسخ ۳:

یک ریشه معادله -1 است. $a+c=b+d \rightarrow x^3-2x^2-5x-2=0$ جمع = -4

برای محاسبه سایر ریشه ها عبارت x^3-2x^2-5x-2 را بر $x+1$ تقسیم می کنیم که پس از تقسیم داریم:

$$x^3-2x^2-5x-2=(x+1)(x^2-3x-2)=0 \Rightarrow \begin{cases} x+1=0 \Rightarrow x=-1 \\ x^2-3x-2=0 \Rightarrow x = \frac{3 \pm \sqrt{17}}{2} \end{cases}$$

بنابراین معادله سه ریشه حقیقی دارد.

نوشتن معادله درجه دوم با داشتن مجموع و حاصل ضرب ریشه ها فرض کنید ریشه های یک معادله درجه دوم α و β باشد، در این صورت

معادله به صورت روبه رو خواهد بود. $x^2-(\alpha+\beta)x+\alpha\beta=0 \Rightarrow x^2-\alpha x-\beta x+\alpha\beta=0 \Rightarrow (x-\alpha)(x-\beta)=0$ معادله

از آن جا که $\alpha+\beta=S$ و $\alpha\beta=P$ پس این معادله به صورت مقابل قابل نوشتن است: معادله $x^2-Sx+P=0$

نکته: معادله درجه دومی که مجموع و حاصل ضرب ریشه‌های آن به ترتیب برابر S و P است به صورت $x^2 - Sx + P = 0$ می‌باشد.

تست: اگر ریشه‌های معادله $x^2 + ax + b = 0$ برابر $\frac{3+\sqrt{7}}{2}$ و $\frac{3-\sqrt{7}}{2}$ باشد، کدام است $a + b$ ؟

- ۱) $-1/5$ ۲) $1/5$ ۳) $-2/5$ ۴) $2/5$

پاسخ ۳: طبق نکته بالا معادله‌ای که ریشه‌های آن $\frac{3+\sqrt{7}}{2}$ و $\frac{3-\sqrt{7}}{2}$ است برابر است با:

$$\begin{cases} \alpha = \frac{3+\sqrt{7}}{2} \\ \beta = \frac{3-\sqrt{7}}{2} \end{cases} \Rightarrow \begin{cases} S = \alpha + \beta = \frac{6}{2} = 3 \\ P = \alpha\beta = \frac{9-7}{4} = \frac{2}{4} = \frac{1}{2} \end{cases} \Rightarrow \text{معادله: } x^2 - 3x + \frac{1}{2} = 0 \Rightarrow a + b = -3 + \frac{1}{2} = -2/5$$

نکته: اگر ضرایب معادله درجه دوم گویا باشند و یک ریشه $a + \sqrt{b}$ باشد، ریشه دیگر $a - \sqrt{b}$ است.

پس در تست بالا اگر طراح می‌گفت ضرایب گویا هستند، با داشتن فقط یکی از ریشه‌ها (مثلاً $\frac{3+\sqrt{7}}{2}$) مشخص می‌شد که ریشه دیگر $\frac{3-\sqrt{7}}{2}$ است.

تست: یکی از ریشه‌های معادله $2x^2 + ax + b = 0$ ، $\sqrt{3} - 1$ است. ریشه بزرگ‌تر معادله $x^2 + \frac{a}{2}x + b + 1 = 0$ کدام است؟ ($a, b \in \mathbb{Q}$)

- ۱) ۲ ۲) $1 + \sqrt{2}$ ۳) $1 + \sqrt{3}$ ۴) $1 + \sqrt{3}$

پاسخ ۲: چون یکی از ریشه‌های معادله، $\sqrt{3} - 1$ است و ضرایب معادله گویا هستند، پس ریشه دیگر $-\sqrt{3} - 1$ است و در نتیجه:

$$\begin{cases} S = (\sqrt{3}-1) + (-\sqrt{3}-1) = -2 \\ P = (\sqrt{3}-1)(-\sqrt{3}-1) = -2 \end{cases} \Rightarrow \text{معادله: } x^2 + 2x - 2 = 0 (*)$$

اما چون در معادله داده شده ضریب x^2 برابر ۲ است، پس طرفین (*) را در ۲ ضرب می‌کنیم:

$$2x^2 + 4x - 4 = 0 \Rightarrow \begin{cases} a = 4 \\ b = -4 \end{cases}$$

حالا معادله $x^2 + \frac{a}{2}x + b + 1 = 0$ را با توجه به مقادیر a و b حل می‌کنیم:

$$\Rightarrow x^2 + \frac{4}{2}x - 4 + 1 = 0 \Rightarrow x^2 + 2x - 3 = 0 \Rightarrow (x+3)(x-1) = 0 \Rightarrow \begin{cases} x = 1 \\ x = -3 \end{cases}$$

پس ریشه بزرگ‌تر معادله، $x = 1$ است.

در آخر هم یک مثال کاربردی ببینیم و تمام!

تست: محیط مستطیلی ۲۲ متر و مساحت آن ۲۴ متر مربع است. طول مستطیل چه قدر از عرض آن بیشتر است؟

- ۱) ۲ ۲) ۳ ۳) ۴ ۴) ۵

پاسخ ۴: اگر طول مستطیل را x_1 و عرض آن را x_2 در نظر بگیریم، آن‌گاه:

$$\text{محیط مستطیل} = 22 \Rightarrow 2(x_1 + x_2) = 22 \Rightarrow x_1 + x_2 = 11$$

$$\text{مساحت مستطیل} = 24 \Rightarrow x_1 x_2 = 24$$

برای محاسبه x_1 و x_2 با توجه به تساوی‌های بالا می‌توانیم یک معادله درجه دوم با ریشه‌های x_1 و x_2 در نظر بگیریم. در این صورت:

$$\begin{cases} S = x_1 + x_2 = 11 \\ P = x_1 x_2 = 24 \end{cases} \xrightarrow{x^2 - Sx + P = 0} \text{معادله: } x^2 - 11x + 24 = 0 \Rightarrow (x-3)(x-8) = 0 \Rightarrow x = 3, 8$$

پس طول مستطیل برابر ۸ و عرض آن برابر ۳ است پس طول مستطیل ۵ واحد بیشتر از عرض آن است.

تشکیل معادله درجه دوم جدید

گاهی وقتا به معادله میدان بعد می‌گین به معادله‌ای بنویسید که با ریشه‌های معادله اولیه رابطه خاصی داشته باشه. برای این کار با یک مثال صفر تا صدشو بررسی می‌کنیم.

فرض کنید α و β ریشه‌های معادله $x^2 - 6x + 3 = 0$ باشند و بخواهیم معادله‌ای بنویسیم که ریشه‌های آن به صورت $\frac{\alpha}{\beta}$ و $\frac{\beta}{\alpha}$ باشند.

$$\begin{cases} S' = \frac{\alpha}{\beta} + \frac{\beta}{\alpha} = \frac{\alpha^2 + \beta^2}{\alpha\beta} = \frac{2(\beta + \alpha)}{\alpha\beta} \\ P' = \left(\frac{\alpha}{\beta}\right)\left(\frac{\beta}{\alpha}\right) = \frac{\alpha}{\alpha\beta} \end{cases} (*)$$

یک روش این است که مجموع (S') و حاصل ضرب (P') ریشه‌های معادله جدید را بیابیم و

سپس با توجه به رابطه $x^2 - Sx + P = 0$ معادله را بنویسیم:

α و β ریشه‌های معادله $x^2 - 6x + 3 = 0$ هستند، پس:

$$x^2 - 6x + 3 = 0 \Rightarrow \begin{cases} \alpha + \beta = 6 \\ \alpha\beta = 3 \end{cases} \xrightarrow{(*)} \begin{cases} S' = \frac{2(6)}{3} = 4 \\ P' = \frac{4}{3} \end{cases}$$

مجموع و حاصل ضرب ریشه‌های معادله جدید را داریم. پس معادله جدید برابر است با: $3x^2 - 12x + 4 = 0$ $\xrightarrow{(\times 3)}$ $x^2 - 4x + \frac{4}{3} = 0$: معادله

یک روش هم این است که ریشه معادله اولیه را x و ریشه معادله جدید را X در نظر بگیریم. با توجه به رابطه بین ریشه‌ها داریم:

$$X = \frac{2}{x} \Rightarrow x = \frac{2}{X}$$

با جای گذاری این تساوی در معادله داده شده یعنی $x^2 - 6x + 3 = 0$ ، معادله جدید را پیدا می‌کنیم:

$$\left(\frac{2}{X}\right)^2 - 6\left(\frac{2}{X}\right) + 3 = 0 \Rightarrow \frac{4}{X^2} - \frac{12}{X} + 3 = 0 \xrightarrow{(\times X^2)} 4 - 12X + 3X^2 = 0 \Rightarrow 3X^2 - 12X + 4 = 0$$
 معادله جدید:

تست: اگر ریشه‌های معادله $x^2 + ax + b = 0$ ، از مکعب ریشه‌های معادله $x^2 - 5x + 2 = 0$ یک واحد بیشتر باشد، $a + b$ کدام است؟

- ۵ (۱) ۶ (۲) ۷ (۳) ۸ (۴)

پاسخ ۳: ریشه‌های معادله $x^2 - 5x + 2 = 0$ را α و β در نظر می‌گیریم، پس:

چون ریشه‌های معادله جدید از مکعب ریشه‌های معادله $x^2 - 5x + 2 = 0$ یک واحد بیشتر است، پس این ریشه‌ها را به صورت $\alpha^r + 1$ و $\beta^r + 1$ در نظر می‌گیریم. مجموع و حاصل ضرب این ریشه‌ها برابر است با:

$$\begin{cases} S' = (\alpha^r + 1) + (\beta^r + 1) = \alpha^r + \beta^r + 2 = S^r - 2PS + 2 = 5^r - 2(2)(5) + 2 = 9^r \\ P' = (\alpha^r + 1)(\beta^r + 1) = \alpha^r\beta^r + \alpha^r + \beta^r + 1 = P^r + S^r - 2PS + 1 = 2^r + 5^r - 2(2)(5) + 1 = 10^r \end{cases} \Rightarrow a + b = 7$$

معادله: $x^2 - 9^r x + 10^r = 0$

تست: ریشه‌های معادله $2x^2 - ax + b = 0$ نیم واحد از ریشه‌های معادله $2ax^2 + ax - 6 = 0$ بیشتر است. مقدار $\left[\frac{ab}{4}\right]$ کدام است؟

- ۴ (۱) -۳ (۲) -۲ (۳) -۱ (۴)

پاسخ ۳: ریشه‌های معادله $2ax^2 + ax - 6 = 0$ را α و β در نظر می‌گیریم؛ بنابراین:

$$\begin{cases} S = \alpha + \beta = -\frac{1}{2a} \quad (*) \\ P = \alpha\beta = \frac{-3}{a} \quad (**) \end{cases}$$

با توجه به رابطه ریشه‌های دو معادله، ریشه‌های $2x^2 - ax + b = 0$ ، $\alpha + \frac{1}{2}$ و $\beta + \frac{1}{2}$ خواهد بود. مجموع و حاصل ضرب این ریشه‌ها را می‌یابیم:

$$S' = \left(\alpha + \frac{1}{2}\right) + \left(\beta + \frac{1}{2}\right) \Rightarrow \frac{a}{2} = \alpha + \beta + 1 \xrightarrow{(*)} \frac{a}{2} = -\frac{1}{2a} + 1 \Rightarrow a = 1$$

$$P' = \left(\alpha + \frac{1}{2}\right)\left(\beta + \frac{1}{2}\right) \Rightarrow \frac{b}{2} = \alpha\beta + \frac{1}{2}(\alpha + \beta) + \frac{1}{4} \xrightarrow{(*), (**)} \frac{b}{2} = \frac{-3}{a} + \frac{1}{2}\left(-\frac{1}{2a}\right) + \frac{1}{4} \Rightarrow \frac{b}{2} = \frac{-3}{a} \xrightarrow{a=1} b = -6$$

$$\left[\frac{ab}{4}\right] = \left[\frac{(1)(-6)}{4}\right] = -2$$
 در نتیجه:

حل معادله با تغییر متغیر

معادلاتی هم هستند که با کمک تغییر متغیر مناسب، به یک معادله درجه دوم تبدیل می‌شوند. برای حل این نوع معادلات، اول از یک تغییر متغیر مناسب استفاده می‌کنیم و معادله درجه دوم حاصل را حل می‌کنیم، بعد متغیر اولیه را برمی‌گردانیم و جواب‌های معادله اصلی را پیدا می‌کنیم.

تست: معادله $(x^2 - 1)^2 - (x^2 - 1) - 12 = 0$ چند جواب حقیقی دارد؟

- ۴ (۴) ۳ (۳) ۲ (۲) ۱ صفر

پاسخ ۲: با تغییر متغیر $x^2 - 1 = t$ معادله را به یک معادله درجه دوم تبدیل می‌کنیم:

$$\text{معادله: } t^2 - t - 12 = 0 \Rightarrow (t - 4)(t + 3) = 0 \Rightarrow \begin{cases} t = 4 \xrightarrow{x^2 - 1 = t} x^2 - 1 = 4 \Rightarrow x^2 = 5 \Rightarrow x = \pm\sqrt{5} \\ t = -3 \xrightarrow{x^2 - 1 = t} x^2 - 1 = -3 \Rightarrow x^2 = -2 \Rightarrow \text{جواب ندارد.} \end{cases}$$

مثال: تعداد و علامت جواب‌های معادله $x^4 - 6x^2 - 2 = 0$ را (بدون یافتن جواب‌ها) بیابید.

پاسخ: از تغییر متغیر $x^2 = t$ استفاده می‌کنیم:

در معادله جدید، $\Delta > 0$ و $\frac{c}{a} < 0$ است، پس معادله دو ریشه با علامت‌های مخالف دارد. یعنی برای مثال دو ریشه $t_1 > 0$ و $t_2 < 0$.

$$\begin{cases} x^2 = t_1 \Rightarrow x = \pm\sqrt{t_1} \\ x^2 = t_2 \Rightarrow \text{هیچ وقت منفی نمی‌شود (جواب ندارد).} \end{cases}$$

در نتیجه:

پس معادله دو جواب قرینه هم دارد.



تست: به ازای کدام مقادیر m معادله $mx^4 - (2m-1)x^2 + m + 1 = 0$ چهار ریشه حقیقی دارد؟

- (۱) $(-\frac{1}{4}, 0)$ (۲) $(-\infty, -\frac{1}{4})$ (۳) $(1, +\infty)$ (۴) $(-\infty, -1)$

پاسخ ۴: با فرض $x^2 = t$ داریم:

(*) معادله: $mt^2 - (2m-1)t + m + 1 = 0$

برای این که معادله اصلی چهار ریشه حقیقی داشته باشد، باید معادله (*) دو ریشه مثبت داشته باشد. فرض کنید ریشه‌ها t_1, t_2 باشند در این صورت ریشه‌های معادله اصلی $x = \pm\sqrt{t_1}$ و $x = \pm\sqrt{t_2}$ هستند. برای این که معادله (*) دو ریشه مثبت داشته باشد باید:

$$\Delta > 0 \Rightarrow (-(2m-1))^2 - 4(m)(m+1) > 0 \Rightarrow 4m^2 - 4m + 1 - 4m^2 - 4m > 0 \Rightarrow 8m < 1 \Rightarrow m < \frac{1}{8} \quad (1)$$

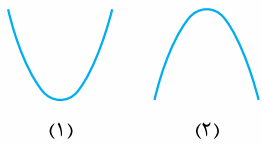
$$\frac{c}{a} > 0 \Rightarrow \frac{m+1}{m} > 0 \Rightarrow m > 0 \text{ یا } m < -1 \quad (2)$$

$$-\frac{b}{a} > 0 \Rightarrow -\frac{-(2m-1)}{m} > 0 \Rightarrow \frac{2m-1}{m} > 0 \Rightarrow m < 0 \text{ یا } m > \frac{1}{2} \quad (3)$$

محدود $m = (-\infty, -1)$

از اشتراک سه جواب (۱)، (۲) و (۳) داریم:

تابع درجه دوم



در این بخش قرار است به عبارت درجه دوم به چشم یک تابع نگاه کنیم. یک تابع درجه دوم به فرم کلی $f(x) = ax^2 + bx + c$ نمایش داده می‌شود. تمام ویژگی‌های این تابع را از لحاظ نموداری هم بررسی می‌کنیم تا درک مطلب آن آسان‌تر باشد. در حالت کلی نمودار یک تابع درجه دوم به یکی از دو صورت مقابل است:

حالا از کجا بفهمیم کدام نمودار برای چه حالتی است؟! ... طرز سؤال پرسیدن داشته باش تمام کلمه‌های پرسشی رو داشت! در نکته زیر جواب این سؤال را می‌دهیم:

نکته: اگر در تابع درجه دوم $f(x) = ax^2 + bx + c$ ، $a > 0$ (همواره ضریب x^2 است). دهانه نمودار رو به بالا (شکل (۱)) و اگر $a < 0$ باشد. دهانه نمودار رو به پایین (شکل (۲)) است.

برای مثال نمودار تابع $f(x) = x^2$ به صورت (چون $a = 1 > 0$) و نمودار تابع $f(x) = x - x^2$ به صورت است (چون $a = -1 < 0$).

صفرهای (ریشه‌های) تابع درجه دوم

در توضیحات بالا نمودار تابع درجه دوم را بدون محورهای مختصات بررسی کردیم. حالا می‌فهمیم کم‌کم محورهای مختصات را هم وارد گود کنیم! اول با محور x ها شروع می‌کنیم. وقتی پای محور x ها به میون میاد! بحث صفرهای تابع مطرح میشه!

صفرهای تابع نقاطی روی تابع هستند که مقدارشان صفر است. یعنی x هایی که مقدار $f(x)$ را صفر می‌کنند. به لحاظ نموداری هم، یعنی طول‌هایی که نمودار تابع، محور x ها را قطع می‌کند.

برای پیدا کردن صفرهای تابع باید معادله $f(x) = 0$ را حل کنیم. پس حالت‌های زیر می‌توانند رخ دهند:

- $f(x) = ax^2 + bx + c = 0 \Rightarrow$
- ۱ $\Delta > 0 \Rightarrow$ معادله دو ریشه دارد. \Rightarrow صفرهای تابع دو تا است.
 - ۲ $\Delta = 0 \Rightarrow$ معادله یک ریشه دارد. \Rightarrow صفرهای تابع یکی است.
 - ۳ $\Delta < 0 \Rightarrow$ معادله ریشه حقیقی ندارد. \Rightarrow تابع صفر نمی‌شود.

حالا با توجه به علامت a و Δ می‌توانیم وضعیت نمودار تابع درجه دوم را با محور x ها تعیین کنیم:

a \ Δ	$\Delta > 0$ (دو ریشه)	$\Delta = 0$ (یک ریشه)	$\Delta < 0$ (ریشه ندارد)
$a > 0$ (دهانه رو به بالا)		 تابع بر محور x ها مماس و رو به بالا	 تابع همواره بالای محور x ها
$a < 0$ (دهانه رو به پایین)		 تابع بر محور x ها مماس و رو به پایین	 تابع همواره پایین محور x ها

تست: به ازای کدام مقادیر m نمودار تابع $f(x) = (m-1)x^2 + (m-1)x + 1$ همواره در پایین محور x ها قرار دارد؟

- (۱) $(1, 5)$ (۲) $(-\infty, 1)$ (۳) \emptyset (۴) \mathbb{R}

پاسخ ۳: برای این که نمودار تابع همواره پایین محور x ها قرار داشته باشد باید:

$$\begin{cases} \Delta < 0 \Rightarrow (m-1)^2 - 4(m-1) < 0 \Rightarrow (m-1)(m-1-4) < 0 \Rightarrow (m-1)(m-5) < 0 \Rightarrow 1 < m < 5 \\ x^2 \text{ ضریب} < 0 \Rightarrow m-1 < 0 \Rightarrow m < 1 \end{cases}$$

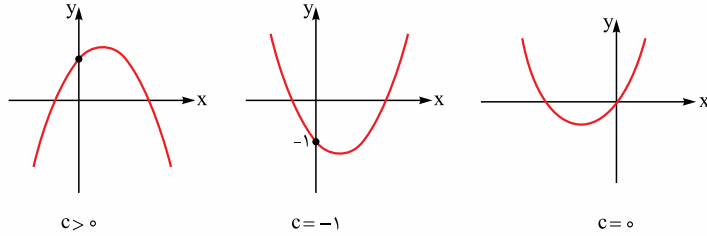
از اشتراک دو جواب به دست آمده حدود m تهی خواهد شد.

نقطاتی که تابع محور Xها را قطع می‌کند را با هم تحلیل کردیم. حال وقت آن است نقطه‌ای که تابع محور Yها را قطع می‌کند را شناسایی کنیم. جایی که تابع، محور Yها را قطع می‌کند طول صفر دارد. پس اگر در معادله تابع، $x = 0$ قرار دهیم آن‌گاه داریم:

$$f(x) = ax^2 + bx + c \xrightarrow{x=0} f(0) = 0 + 0 + c \Rightarrow f(0) = c$$

پس نقطه‌ای که تابع محور Yها را قطع می‌کند در حقیقت مقدار و علامت c را نشان می‌دهد.

به عنوان مثال به نمودارهای روبه‌رو توجه کنید:

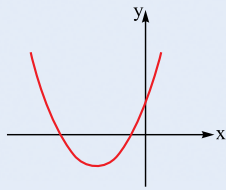


محور تقارن تابع درجه دوم نمودار تابع درجه دوم، به ویژگی فوشل دیگه هم داره! تابع درجه دوم یک محور تقارن دارد. (به خط چین‌های شکل‌های مقابل توجه کنید.)



نکته: معادله محور تقارن تابع درجه دوم $f(x) = ax^2 + bx + c$ به صورت $x = -\frac{b}{2a}$ است.

مثال: اگر نمودار تابع درجه دوم $f(x) = ax^2 + bx + c$ به صورت مقابل باشد، در مورد علامت a، b، c و Δ نظر دهید.



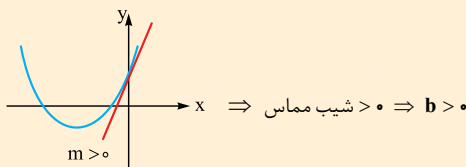
پاسخ: دهانه نمودار تابع رو به بالاست، پس $a > 0$. از طرفی تابع، محور Yها را بالای محور Xها قطع می‌کند پس $c > 0$. هم‌چنین تابع، محور Xها را در دو نقطه قطع می‌کند پس $\Delta > 0$.

برای تعیین علامت b باید از محور تقارن کمک بگیریم. محور تقارن تابع، سمت چپ محور Yها قرار دارد.

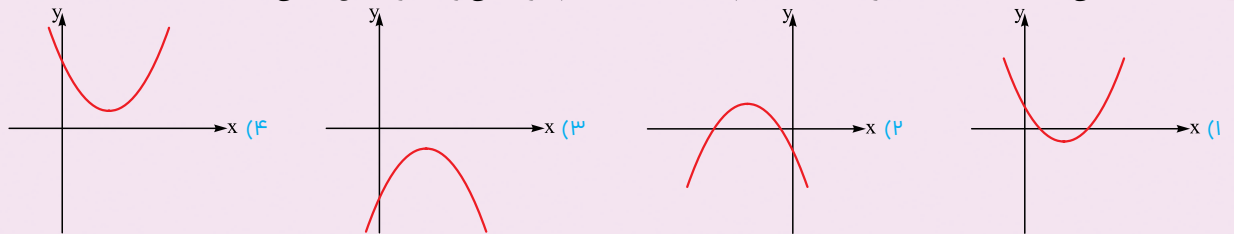
$$\text{پس: } -b < 0 \Rightarrow b > 0 \quad \xrightarrow{a > 0} \quad x = -\frac{b}{2a} < 0$$

نکته: روشن سریع پیدا کردن علامت b: برای این که علامت b را سریع‌تر پیدا کنید، می‌توانید

خط مماس بر منحنی را در نقطه تلاقی منحنی با محور Yها رسم کنید. اگر شیب این خط مثبت باشد $b > 0$ و اگر شیب خط منفی باشد $b < 0$ است. هم‌چنین اگر خط مماس افقی باشد $b = 0$ است. در مثال بالا داریم:



تست: در سهمی $y = ax^2 + bx + c$ ضرایب a، b و c هم‌علامت هستند. کدام نمودار می‌تواند نمودار این سهمی باشد؟



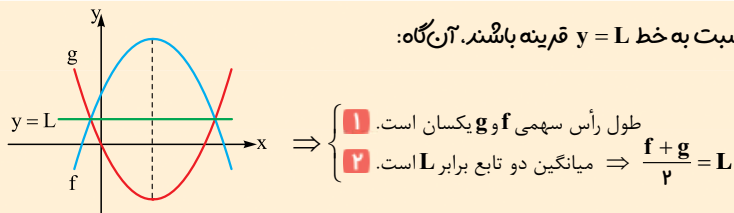
پاسخ ۲: گزینه‌ها را بررسی می‌کنیم:

$$\begin{cases} a > 0 \Rightarrow \text{دهانه رو به بالا} \\ a < 0 \Rightarrow \text{دهانه رو به پایین} \\ b < 0 \Rightarrow \text{شیب مماس در } x=0 \text{ منفی} \\ b > 0 \Rightarrow \text{شیب مماس در } x=0 \text{ مثبت} \\ c < 0 \Rightarrow \text{عرض از مبدأ منفی} \\ c > 0 \Rightarrow \text{عرض از مبدأ مثبت} \end{cases}$$

پس در ۲ ضرایب a، b و c هم‌علامت هستند.

دقت کنید که در ۳ $(a < 0, b > 0, c < 0)$ و در ۴ $(a > 0, b < 0, c > 0)$.

نکته: اگر دو نمودار تابع درجه دوم f و g در یک دستگاه مختصات نسبت به خط $y = L$ قرینه باشند، آن‌گاه:

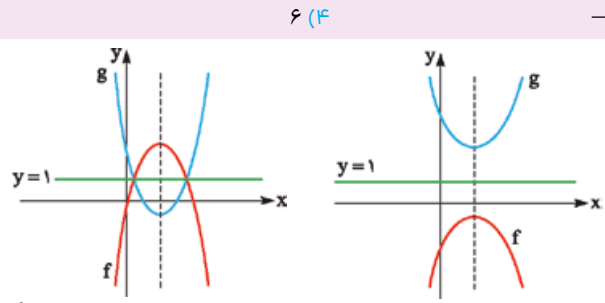


$$\Rightarrow \begin{cases} \text{طول رأس سهمی f و g یکسان است.} \\ \text{میانگین دو تابع برابر L است.} \end{cases} \Rightarrow \frac{f+g}{2} = L$$



تست: نمودار دو تابع $f(x) = -x^2 + ax + 4$ و $g(x) = x^2 - 2x + b$ را در یک دستگاه مختصات رسم می‌کنیم. اگر خط $y = 1$ محور تقارن شکل حاصل

باشد $a + b$ کدام است؟



۱) صفر ۲) ۳ ۳) -۲ ۴) ۶

پاسخ ۱: با توجه به این که بعد از رسم دو نمودار در یک دستگاه مختصات خط $y = 1$ محور تقارن شده، بنابراین نمودارهای دو تابع می‌تواند به صورت‌های زیر باشد:

با توجه به شکل، محور تقارن دو تابع یکسان است:

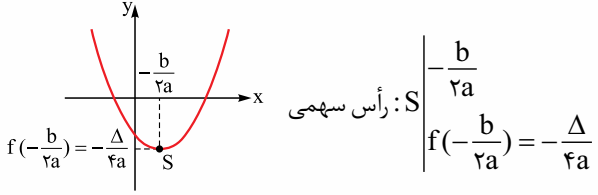
$$\begin{cases} \text{محور تقارن } g: x = 1 \\ \text{محور تقارن } f: x = -\frac{a}{2(-1)} = \frac{a}{2} \Rightarrow \frac{a}{2} = 1 \Rightarrow a = 2 \end{cases}$$

از طرفی میانگین عرض از مبدأهای دو تابع برابر ۱ است:

$$\begin{cases} f(0) = 4 \\ g(0) = b \end{cases} \Rightarrow \frac{4+b}{2} = 1 \Rightarrow b = -2 \Rightarrow a + b = 0$$

رأس سهمی (تابع درجه دوم)

مختصات رأس سهمی (مختصات مینیمم یا ماکزیمم تابع درجه دوم) $f(x) = ax^2 + bx + c$ از رابطه مقابل محاسبه می‌شود:



برای مثال مختصات رأس سهمی $f(x) = -x^2 + 4x - 1$ برابر است با:

$$\begin{aligned} \text{رأس سهمی } S: \left(-\frac{b}{2a}, f\left(-\frac{b}{2a}\right) \right) &= \left(-\frac{4}{2(-1)}, f(2) \right) = (2, 3) \\ f\left(-\frac{b}{2a}\right) = f(2) &= -(2)^2 + 4(2) - 1 = 3 \end{aligned}$$

برای محاسبه عرض رأس سهمی می‌توانید از رابطه $-\frac{\Delta}{4a}$ هم استفاده کنید:

$$-\frac{\Delta}{4a} = -\frac{4^2 - 4(-1)(-1)}{4(-1)} = -\frac{12}{-4} = 3$$

تست: به ازای کدام مقدار m نقطه مینیمم تابع $f(x) = x^2 - mx + m + 4$ روی نیمساز ربع دوم قرار دارد؟

۱) ۸ ۲) -۲ ۳) -۸ ۴) ۲

پاسخ ۲: می‌دانیم مختصات نقطه مینیمم یا ماکزیمم تابع درجه دوم به صورت $(-\frac{b}{2a}, -\frac{\Delta}{4a})$ است. چون این نقطه روی نیمساز ربع دوم یعنی خط $y = -x$ قرار دارد، بنابراین مختصات نقطه در خط صدق می‌کند. (توجه کنید که چون نقطه مینیمم روی نیمساز ناحیه دوم است، طول آن منفی است: $-\frac{b}{2a} < 0$)

$$\Rightarrow -\frac{\Delta}{4a} = -\left(-\frac{b}{2a}\right) \Rightarrow -\frac{\Delta}{4a} = \frac{b}{2a} \Rightarrow -\frac{\Delta}{2} = b \Rightarrow \Delta = -2b \quad (*)$$

با توجه به تابع $f(x) = x^2 - mx + m + 4$ داریم: $m^2 - 6m - 16 = 0 \Rightarrow m^2 - 4m - 16 = 2m \Rightarrow m^2 - 4m - 16 = 2m$

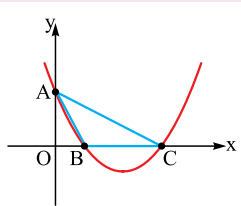
$$\Rightarrow (m-8)(m+2) = 0 \Rightarrow \begin{cases} m = 8 \Rightarrow f(x) = x^2 - 8x + 12 \\ m = -2 \Rightarrow f(x) = x^2 + 2x + 2 \end{cases}$$

اما ضابطه $f(x) = x^2 - 8x + 12$ قابل قبول نیست چون در این ضابطه $-\frac{b}{2a} > 0$ است و مختصات مینیمم در ناحیه دوم قرار ندارد. پس $m = -2$ قابل قبول است.

تست: صفرهای تابع $y = 2x^2 - (m+2)x + m$ و نقطه تقاطع آن با محور عرض‌ها، رئوس یک مثلث هستند. اگر مساحت این مثلث برابر $\frac{3}{4}$ باشد، کدام

می‌تواند طول رأس سهمی $y = x^2 - mx + 1$ باشد؟

۱) $\frac{1}{4}$ ۲) $\frac{2}{3}$ ۳) $-\frac{3}{4}$ ۴) $-\frac{1}{4}$



پاسخ ۴: اول یک شکل فرضی از مسئله رسم می‌کنیم. با توجه به این که صفرهای تابع و نقطه تقاطع آن با محور عرض‌ها رئوس

مثلث هستند، پس مثلث ABC مد نظر طراح است. مساحت این مثلث برابر $\frac{3}{4}$ است؛ پس: $S = \frac{OA \times BC}{2} = \frac{3}{4} (*)$

A عرض از مبدأ سهمی است، پس مختصات آن با توجه به ضابطه سهمی $(0, m)$ است؛ بنابراین: $OA = m$

از طرفی BC برابر قدرمطلق تفاضل ریشه‌هاست، در نتیجه:

$$BC = \frac{\sqrt{\Delta}}{|a|} = \frac{\sqrt{(m+2)^2 - 4m}}{2} = \frac{\sqrt{m^2 + 4m + 4 - 4m}}{2} = \frac{\sqrt{m^2 - 4m + 4}}{2} = \frac{\sqrt{(m-2)^2}}{2} = \frac{|m-2|}{2}$$

$$(*) \rightarrow S = \frac{OA \times BC}{2} = S = \frac{m|m-2|}{4} = \frac{3}{4} \Rightarrow m|m-2| = 3 \Rightarrow \begin{cases} m=3 \\ m=-1 \end{cases}$$

در نهایت باید طول رأس سهمی $y = x^2 - mx + 1$ را بیابیم:

$$x_S = \frac{m}{2} \xrightarrow{\text{با توجه به مقادیر } m} \begin{cases} x_S = \frac{3}{2} \\ \text{یا} \\ x_S = -\frac{1}{2} \end{cases}$$

رسم نمودار تابع درجه دوم برای رسم نمودار تابع درجه دوم می‌توانیم از دو روش زیر استفاده کنیم:

۱ رسم با کمک انتقال: ابتدا با مربع کامل کردن، تابع را به فرم ساده‌تر نوشته، سپس از انتقال تابع $f(x) = x^2$ استفاده می‌کنیم.

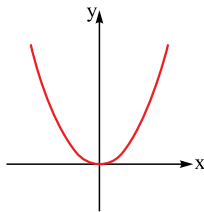
۲ رسم با مقاردهی: با قراردادن سه مقدار مختلف در تابع که نقطهٔ وسط آن‌ها حتماً $x = -\frac{b}{2a}$ است و رسم نقاط روی محورهای مختصات و وصل کردن و امتداد دادن آن‌ها، نمودار را رسم می‌کنیم.

مثال: نمودار تابع $f(x) = x^2 - 2x + 3$ را رسم کنید.

$$f(x) = x^2 - 2x + 3 = x^2 - 2x + 1 + 2 = (x-1)^2 + 2$$

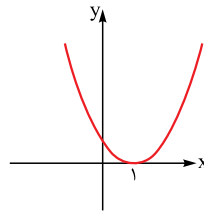
پاسخ: روش ۱

برای رسم نمودار، تابع $f(x) = x^2$ را یک واحد به راست و سپس دو واحد به بالا می‌بریم:



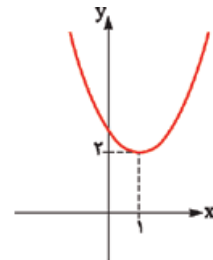
$$f(x) = x^2$$

یک واحد به راست



$$f(x) = (x-1)^2$$

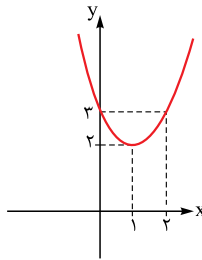
دو واحد به بالا



$$f(x) = (x-1)^2 + 2$$

روش ۲

$$f(x) = x^2 - 2x + 3 \Rightarrow \begin{array}{c|c} x & \circ \\ \hline y & 3 \end{array} \quad \begin{array}{c|c} x & -\frac{b}{2a} = 1 \quad 2 \\ \hline y & 2 \quad 3 \end{array} \Rightarrow$$



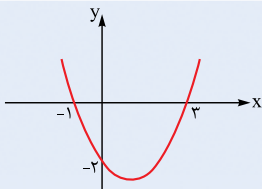
تعیین ضابطهٔ تابع درجه دوم از روی نمودار

۱ از نقاط روی نمودار، طول محور تقارن و ... استفاده کرده، در معادلهٔ $f(x) = ax^2 + bx + c$ قرار می‌دهیم و a ، b و c را می‌یابیم.

۲ اگر مختصات رأس سهمی به صورت $S(h, k)$ باشد، معادلهٔ تابع به صورت $f(x) = a(x-h)^2 + k$ خواهد بود.

۳ اگر ریشه‌های تابع، x_1 و x_2 باشند معادلهٔ تابع به صورت $f(x) = a(x-x_1)(x-x_2)$ خواهد بود.

مثال: اگر نمودار تابع درجه دوم f به صورت مقابل باشد، ضابطهٔ تابع را بیابید.



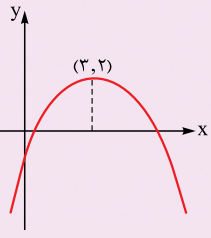
$$f(x) = a(x - (-1))(x - 3) = a(x+1)(x-3)$$

پاسخ: $x = -1$ و $x = 3$ ریشه‌های تابع هستند، پس با توجه به حالت (۳) داریم:

$$\frac{(0, -2) \in \text{تابع}}{f(0) = -2} \rightarrow f(0) = a(1)(-3) = -2 \Rightarrow a = \frac{2}{3} \Rightarrow f(x) = \frac{2}{3}(x+1)(x-3)$$

از طرفی نقطهٔ $(0, -2)$ روی منحنی قرار دارد، پس:

$$\Rightarrow f(x) = \frac{2}{3}(x^2 - 2x - 3) = \frac{2}{3}x^2 - \frac{4}{3}x - 2$$

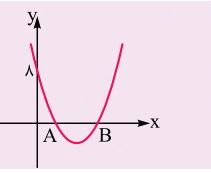


تست: نمودار سهمی $f(x) = ax^2 + bx + c$ که در آن $a^2 = 1$ است به صورت مقابل می‌باشد، عرض از مبدأ سهمی کدام است؟

- (۱) -۴
- (۲) -۵
- (۳) -۶
- (۴) -۷

پاسخ ۴: مختصات رأس سهمی $S(3, 2)$ است، پس معادله سهمی به صورت مقابل است:
 $f(x) = a(x-3)^2 + 2$
 از طرفی $a^2 = 1$ و در نتیجه $a = \pm 1$ است و با توجه به این که دهانه سهمی رو به پایین است، پس $a < 0$ و در نتیجه $a = -1$ قابل قبول است. بنابراین:

$f(x) = -1(x-3)^2 + 2$
 برای محاسبه عرض از مبدأ منحنی در معادله تابع $x = 0$ قرار می‌دهیم:
 $x = 0 : f(0) = -9 + 2 = -7$



تست: نمودار تابع درجه دوم $y = f(x)$ داده شده است. اگر طول نقطه B، دو برابر طول نقطه A باشد، آن گاه کم‌ترین مقدار این تابع کدام است؟

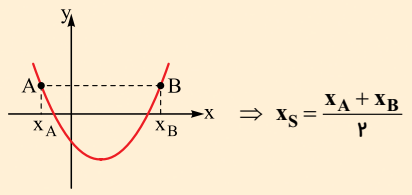
- (۱) -۱
- (۲) -۱/۲۵
- (۳) -۱/۵
- (۴) -۲

پاسخ ۱: طول نقطه B دو برابر طول نقطه A است؛ پس طول A و B را به ترتیب α و 2α می‌گیریم. چون A و B ریشه‌های تابع هستند، پس معادله سهمی به شکل $y = a(x-\alpha)(x-2\alpha)$ درمی‌آید.

با توجه به شکل، سهمی از نقطه $(0, 8)$ می‌گذرد؛ پس:
 از طرفی میانگین ریشه‌ها، طول رأس را به ما می‌دهد:
 مقدار سهمی $f(x) = a(x-\alpha)(x-2\alpha)$ در x_S برابر با کم‌ترین مقدار سهمی است:

$$\min = f\left(\frac{\alpha}{2}\right) = a\left(\frac{\alpha}{2} - \alpha\right)\left(\frac{\alpha}{2} - 2\alpha\right) = a\left(\frac{\alpha}{2}\right)\left(\frac{-\alpha}{2}\right) = \frac{-a\alpha^2}{4} \stackrel{(*)}{=} \frac{-4}{4} = -1$$

نکته: اگر A و B دو نقطه هم‌عرض روی نمودار تابع درجه دوم باشند، آن‌گاه:



تست: خط $y = L$ نمودار تابع درجه دوم f را در دو نقطه به طول‌های ۳ و -۱ قطع می‌کند. اگر کم‌ترین مقدار تابع برابر ۲- باشد و تابع محور yها را در

- نقطه‌ای به عرض $\frac{1}{4}$ قطع کند. $f(4)$ کدام است؟
- (۱) ۲۳
 - (۲) ۲۲
 - (۳) ۱۸/۵
 - (۴) ۲۰/۵

پاسخ ۴: چون خط افقی $y = L$ نمودار تابع را در دو نقطه به طول‌های -۱ و ۳ قطع کرده؛ بنابراین طبق نکته بالا:

$x_S = \frac{3 + (-1)}{2} = 1$
 از طرفی کم‌ترین مقدار تابع برابر ۲- است، در نتیجه:
 $S(1, -2) \Rightarrow$ معادله سهمی $f(x) = a(x-1)^2 - 2$
 همچنین عرض از مبدأ برابر $\frac{1}{4}$ است، در نتیجه:
 $f(0) = a - 2 = \frac{1}{4} \Rightarrow a = \frac{5}{4} \Rightarrow f(x) = \frac{5}{4}(x-1)^2 - 2 \Rightarrow f(4) = \frac{45}{4} - 2 = \frac{41}{4} = 20/5$

تعیین علامت صفرهای تابع درجه دوم

برای تعیین علامت صفرهای یک تابع درجه دوم، همانند تعیین علامت ریشه‌های معادله درجه دوم عمل می‌کنیم؛ یعنی باید علامت‌های Δ ، S و P را بررسی کنیم.

تست: به ازای کدام مجموعه مقادیر a، نمودار تابع $f(x) = ax^2 + (a+3)x - 1$ ، محور xها را در دو نقطه به طول‌های منفی قطع می‌کند؟

- (۱) $a < -9$
- (۲) $a < -3$
- (۳) $a > -1$
- (۴) $-3 < a < 0$ (ریاضی خارج ۹۲)

پاسخ ۱: معادله $ax^2 + (a+3)x - 1 = 0$ باید دو ریشه منفی داشته باشد. پس باید شرایط زیر برقرار باشد:

$$\begin{cases} 1) \Delta > 0 \Rightarrow (a+3)^2 - 4(a)(-1) > 0 \Rightarrow a^2 + 6a + 9 + 4a > 0 \Rightarrow a^2 + 10a + 9 > 0 \Rightarrow (a+1)(a+9) > 0 \Rightarrow a < -9 \text{ یا } a > -1 \\ 2) \frac{c}{a} > 0 \Rightarrow \frac{-1}{a} > 0 \Rightarrow a < 0 \\ 3) -\frac{b}{a} < 0 \Rightarrow -\frac{a+3}{a} < 0 \xrightarrow{\times(-1)} \frac{a+3}{a} > 0 \xrightarrow{a < 0} a+3 < 0 \Rightarrow a < -3 \end{cases}$$

ا مشترک جواب‌های به دست آمده حدود a را به ما می‌دهد: حدود $a < -9$

وضعیت دو سهمی یا وضعیت یک سهمی و یک خط نسبت به هم گاهی وقتها باید شرایط تلاقی «دو سهمی» یا «یک خط و یک سهمی» را

بررسی کنیم. اگر ضابطه‌های دو منحنی را به صورت f و g در نظر بگیریم آن‌گاه حالات زیر می‌تواند رخ دهد:

۱. دو منحنی یکدیگر را قطع نکنند در این حالت معادله تلاقی یعنی معادله $f(x) = g(x)$ ریشه حقیقی ندارد. چون معادله تلاقی درجه دوم است باید $\Delta < 0$ باشد.

۲. دو منحنی در یک نقطه بر هم مماس باشند در این حالت معادله تلاقی ریشه مضاعف دارد. پس باید $\Delta = 0$ باشد.

۳. دو منحنی در دو نقطه متقاطع باشند در این حالت باید معادله تلاقی دو ریشه حقیقی داشته باشد؛ یعنی باید $\Delta > 0$ باشد.

تست: به ازای کدام مقدار a ، نمودارهای دو تابع با ضابطه $f(x) = x^2 + 1$ و $g(x) = ax^2 + 4x$ بر هم مماس‌اند؟ **(ریاضی ۹۱)**

(۱) -۴ (۲) -۳ (۳) -۲ (۴) -۱

پاسخ: چون دو منحنی بر هم مماس‌اند معادله تلاقی آن‌ها ریشه مضاعف دارد. $(\Delta = 0)$: $f(x) = g(x) \Rightarrow ax^2 + 4x = x^2 + 1$ معادله تلاقی

$$\Rightarrow (a-1)x^2 + 4x - 1 = 0 \xrightarrow{\Delta=0} 16 - 4(a-1)(-1) = 0 \Rightarrow 16 + 4(a-1) = 0$$

$$4(a-1) = -16 \Rightarrow a-1 = -4 \Rightarrow a = -3$$

بعضی وقتها هم نمودار یک تابع درجه دوم را انتقال می‌دهند و سپس می‌گویند نمودار حاصل در چه بازه‌ای بالا یا پایین یک منحنی دیگر (مثلاً g) قرار می‌گیرد. برای حل سؤالات این قسمت باید از نکات انتقال که در سال دهم یاد گرفتید، استفاده کنید.

تست: نمودار تابع $y = -x^2 + 2x + 5$ را 3 واحد به طرف x های مثبت، سپس 2 واحد به طرف y های منفی انتقال می‌دهیم. نمودار جدید در کدام بازه،

بالای نیمساز ربع اول است؟ **(ریاضی ۹۸)**

(۱) (۳، ۴) (۲) (۲، ۵) (۳) (۳، ۵) (۴) (۲، ۶)

پاسخ: ۱. اول انتقال‌ها را انجام می‌دهیم:

$$y = -x^2 + 2x + 5 \xrightarrow[\substack{3 \text{ واحد به طرف } x \text{ های منفی} \\ x \rightarrow x-3}]{} y = -(x-3)^2 + 2(x-3) + 5$$

$$\xrightarrow[\substack{2 \text{ واحد به طرف } y \text{ های منفی}}]{} y = -(x-3)^2 + 2(x-3) + 5 - 2$$

$$y = -x^2 + 6x - 9 + 2x - 6 + 3 \Rightarrow y = -x^2 + 8x - 12$$

حالا تابع را مرتب می‌کنیم:

حالا بازه‌ای که نمودار تابع بالای نیمساز ربع اول $(y = x)$ قرار می‌گیرد را می‌یابیم. برای این کار باید نامعادله زیر را حل کنیم.

$$-x^2 + 8x - 12 > x \Rightarrow x^2 - 7x + 12 < 0 \Rightarrow (x-3)(x-4) < 0 \Rightarrow 3 < x < 4$$

عدم عبور منحنی تابع درجه دوم $y = ax^2 + bx + c$ از یک ناحیه مختصاتی برای این که تابع درجه دوم از یک ناحیه خاص عبور نکند باید از یکی از

دو روش زیر استفاده کنیم:

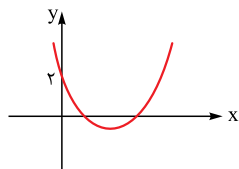
۱ اگر رسم تمام حالت‌های نموداری ممکن باشد: **الف** اول ببینید که مقدار a را دارید یا مقدار c را.

ب با توجه به مقدار a یا c ، تمام حالت‌هایی که منحنی از آن ناحیه خاص عبور نکند را رسم می‌کنیم.

پ با توجه به نمودارهای رسم‌شده، علامت پارامترهای a ، b و Δ را تعیین کنید و حدود متغیر را بیابید.

مثال: حدود m را طوری بیابید تا نمودار تابع $y = \frac{m}{4}x^2 + (m-4)x + 2$ فقط از ناحیه سوم عبور نکند.

پاسخ: اگر به ضابطه تابع توجه کنید، مقدار c برابر 2 است. بنابراین تمام حالت‌هایی که نمودار تابع فقط از ناحیه سوم عبور نکند و از نقطه $(0, 2)$ بگذرد را رسم می‌کنیم، که تنها نمودار زیر حاصل می‌شود. با توجه به نمودار داریم:



$$\left\{ \begin{array}{l} \text{ضریب } x^2 > 0 \Rightarrow \frac{m}{4} > 0 \Rightarrow m > 0 \quad (*) \\ \text{شیب مماس در عرض از مبدأ منفی است.} \Rightarrow b < 0 \Rightarrow m - 4 < 0 \Rightarrow m < 4 \quad (**) \\ \text{دو ریشه دارد.} \Rightarrow \Delta > 0 \Rightarrow (m-4)^2 - 4\left(\frac{m}{4}\right)(2) > 0 \Rightarrow m^2 - 8m + 16 - 2m > 0 \\ \Rightarrow m^2 - 10m + 16 > 0 \Rightarrow (m-8)(m-2) > 0 \Rightarrow m < 2 \text{ یا } m > 8 \quad (***) \end{array} \right.$$

از اشتراک $(*)$ ، $(**)$ و $(***)$ حدود m برابر است با: $0 < m < 2$.

۲ اگر رسم تمام حالت‌ها ممکن نباشد: در این حالت از متمم استفاده می‌کنیم. ابتدا باید حدود ضریب x^2 را تعیین کنیم، سپس تمام حالت‌هایی که

نمودار از آن ناحیه بگذرد را رسم و حدود متغیر را محاسبه کنیم و سپس مجموعه جواب حاصل را از حدود ضریب x^2 کم می‌کنیم.

نکته: اگر $a > 0$ باشد نمودار حتماً از نواحی اول و دوم می‌گذرد و اگر $a < 0$ باشد نمودار حتماً از نواحی سوم و چهارم می‌گذرد.



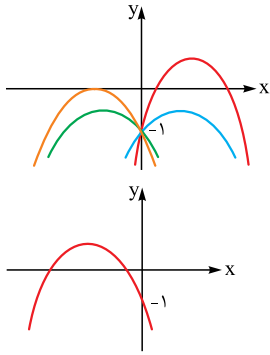
تست: حدود m کدام باشد تا نمودار تابع $y = (m-2)x^2 - 2x - 1$ از ناحیه دوم عبور نکند؟

$m \leq 1$ (۴)

$1 < m < 2$ (۳)

$0 < m < 1$ (۲)

$m < 2$ (۱)



پاسخ ۴: عرض از مبدأ سهمی -1 است. مطابق شکل مقابل حالت‌های بسیار زیادی داریم که نمودار تابع از ناحیه دوم عبور نکند و عرض از مبدأ آن -1 باشد:

پس از روش متمم استفاده می‌کنیم. طبق نکته، برای این که منحنی از ناحیه دوم نگذرد باید $a < 0$ (ضریب x^2) باشد، پس $m - 2 < 0 \Rightarrow m < 2$ است. مطابق شکل تنها حالتی که نمودار تابع درجه دوم با دهانه رو به پایین و با عرض از مبدأ -1 از ناحیه دوم عبور کند به صورت زیر است:

$$\Rightarrow \begin{cases} a < 0 \Rightarrow m - 2 < 0 \Rightarrow m < 2 & (*) \\ b < 0 \Rightarrow -2 < 0 & \checkmark \\ \Delta > 0 \Rightarrow 4 + 4(m-2) > 0 \Rightarrow 4 + 4m - 8 > 0 \Rightarrow m > 1 & (**) \end{cases}$$

از اشتراک $(*)$ و $(**)$ حدود m برابر $1 < m < 2$ است. در پایان این حدود را از حدود ضریب x^2 یعنی $m < 2$ کم می‌کنیم:

حدود مورد نظر $= (m < 2) - (1 < m < 2) = m \leq 1$

نکته: تابع درجه دوم $y = ax^2 + bx + c$ از هر چهار ناحیه مختصاتی عبور می‌کند هرگاه $\frac{c}{a} < 0$ (یا $ac < 0$) باشد.

مثال: به ازای چه حدودی از m نمودار تابع $y = (m-1)x^2 + 2x + m$ از هر چهار ناحیه مختصاتی می‌گذرد؟


$(m-1)(m) < 0 \Rightarrow 0 < m < 1$

پاسخ: باید $ac < 0$ باشد:

حل مسائل کاربردی مرتبط با تابع درجه دوم (یافتن بیشترین و کمترین مقدار) برای حل این مسائل الگوریتم زیر را اجرا کنید:

- در صورت امکان شکلی از مسئله رسم کنید و مقادیر ثابت و متغیر را روی شکل نمایش دهید.
- هدف مسئله (خواسته مسئله) را شناسایی کنید. یعنی بررسی کنید به دنبال ماکزیمم یا مینیمم کردن چه تابعی هستیم. اگر هدف مسئله دومتغیره بود باید با کمک اطلاعات مسئله یا با کمک قضیه فیثاغورس و ... تابع هدف را تک‌متغیره کنیم.
- بعد از مرحله دوم، تابع به فرم یک تابع درجه دوم تبدیل می‌شود که با کمک رابطه $-\frac{\Delta}{4a}$ یا $f(-\frac{b}{2a})$ (مقدار ماکزیمم یا مینیمم تابع درجه دوم) مقدار مورد نظر را می‌یابیم.

مثال: از بین مستطیل‌هایی که محیط آن‌ها ۱۲ است، ماکزیمم سطح این مستطیل‌ها را بیابید.



تابع هدف $S = xy$

پاسخ ۱: شکل مسئله به صورت مقابل است:

۲: قرار است مساحت مستطیل ماکزیمم شود، پس:

۳: تابع هدف دومتغیره است و باید تک‌متغیره شود. در نتیجه از اطلاعات مسئله کمک می‌گیریم:

محیط $= 12 \Rightarrow 2(x+y) = 12 \Rightarrow x+y = 6 \Rightarrow y = 6-x$

$\Rightarrow S = x(6-x) = -x^2 + 6x \Rightarrow \max(S) = -\frac{\Delta}{4a} = -\frac{36 - 4(-1)(6)}{4(-1)} = 9$

تست: بیشترین مساحت از زمینی که می‌توان توسط یک طناب به طول ۸۸ متر و به شکل مستطیلی که یک طرف آن رودخانه است محصور کرد چند متر مربع است؟

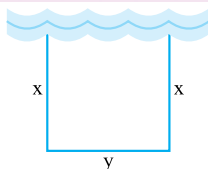
(ریاضی خارج ۹۱)

۹۸۸ (۴)

۹۷۸ (۳)

۹۶۸ (۲)

۹۵۸ (۱)



تابع هدف $S = xy$

پاسخ ۲: (۱) شکل مسئله به صورت مقابل است:

(۲) قرار است مساحت زمین ماکزیمم شود، پس:

(۳) تابع هدف دومتغیره است و باید تک‌متغیره شود. پس از اطلاعات مسئله کمک می‌گیریم:

طول طناب $= 88 \Rightarrow 2x + y = 88 \Rightarrow y = 88 - 2x$

$S = x(88 - 2x) = 88x - 2x^2 \Rightarrow S(x) = -2x^2 + 88x$

با جای‌گذاری این تساوی در تابع هدف خواهیم داشت:

برای محاسبه ماکزیمم مساحت زمین باید ماکزیمم S را محاسبه کنیم. می‌دانیم ماکزیمم یک تابع درجه دوم (که در آن < 0 ضریب x^2) از رابطه $-\frac{\Delta}{4a}$ محاسبه می‌شود:

$S_{\max} = -\frac{88^2 - 4(-2)(0)}{4(-2)} = \frac{88^2}{8} = 88 \times 11 = 968$

اگر $y = f(x)$ و $y = g(x)$ دو تابع باشند، طول نقاط تلاقی نمودار این دو منحنی، جواب‌های معادله $f(x) = g(x)$ خواهند بود و برعکس. یعنی هر جواب این معادله، طول یکی از نقاط تلاقی این دو نمودار است. بنابراین به طور کلی برای حل یک معادله به روش هندسی، باید معادله را به دو تابع در طرفین تساوی طوری تبدیل کنیم که رسم نمودار هر تابع ممکن باشد. سپس دو نمودار را در یک دستگاه رسم می‌کنیم و نقاط تلاقی (جواب‌های معادله) را می‌یابیم.

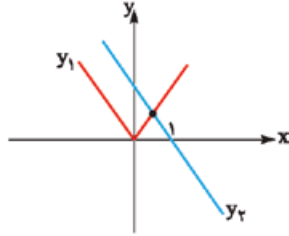
تست: معادله $x + |x| = 1$ چند جواب حقیقی دارد؟

- (۱) صفر (۲) ۱ (۳) ۲ (۴) ۳

پاسخ ۲: از روش رسم استفاده می‌کنیم. فقط چون رسم نمودار تابع $y = x + |x|$ (تابع سمت چپ تساوی) در حال حاضر آسان نیست، معادله را به صورت مقابل می‌نویسیم:

$$x + |x| = 1 \Rightarrow \underbrace{|x|}_{y_1} = \underbrace{1-x}_{y_2}$$

$$\begin{cases} y_2 = 1-x \\ y_1 = |x| \end{cases} \Rightarrow \begin{array}{c|c} x & 1 \\ \hline y & 1 \end{array} \Rightarrow$$



هر یک از نمودارهای y_1 و y_2 را رسم می‌کنیم:

دو نمودار یکدیگر را در یک نقطه قطع می‌کنند پس معادله یک جواب دارد.

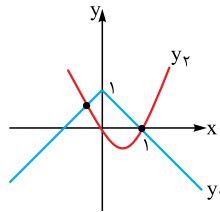
تست: معادله $x^2 - x = |x| - 1$ چند جواب حقیقی دارد؟

- (۱) صفر (۲) ۱ (۳) ۲ (۴) ۳

$$\underbrace{|x|}_{y_1} = \underbrace{x^2 - x}_{y_2}$$

برای رسم y_1 ، نمودار $y = |x|$ را نسبت به محور x ها قرینه و سپس یک واحد به بالا منتقل می‌کنیم. برای رسم y_2 هم، از مقاردهی استفاده می‌کنیم:

$$y_2 = x^2 - x \Rightarrow \begin{array}{c|c} x & -\frac{b}{2a} = \frac{1}{2} \\ \hline y & -\frac{1}{4} \end{array} \Rightarrow$$



دو نمودار، یکدیگر را در دو نقطه قطع کرده‌اند، پس معادله دو جواب دارد.

پرسش‌های چهارگزینه‌ای

معادله درجه دوم و ریشه‌های آن

۷۶- ریشه بزرگ‌تر معادله $(x-1)(x+1) = 2x + 7$ کدام است؟

- (۱) ۲ (۲) ۳ (۳) ۴ (۴) ۶

۷۷- اگر $x = 2$ یک جواب معادله $2x^2 + ax = a + 2$ باشد، جواب دیگر معادله کدام است؟

- (۱) ۱ (۲) -۲ (۳) ۳ (۴) -۶

۷۸- معادله $(x-1)(x-3) + 2 + k^2 = 0$ چه وضعی دارد؟

- (۱) دو ریشه مثبت (۲) دو ریشه منفی (۳) دو ریشه مختلف‌العلامت (۴) ریشه حقیقی ندارد.

۷۹- به ازای کدام مجموعه مقادیر m ، معادله درجه دوم $(2m-1)x^2 + 6x + m - 2 = 0$ ، دارای دو ریشه حقیقی متمایز است؟ $(m \neq \frac{1}{2})$ (ریاضی ۹۸)

- (۱) $-2 < m < 2/5$ (۲) $-2 < m < 3/5$ (۳) $-1 < m < 3/5$ (۴) $-1 < m < 2/5$

۸۰- ریشه مضاعف معادله $x^2 - (2m+3)x + m^2 = 0$ کدام است؟

- (۱) $-\frac{3}{4}$ (۲) $\frac{3}{4}$ (۳) $\pm \frac{3}{4}$ (۴) ریشه مضاعف ندارد.

۸۱- معادله‌های $x^2 + 6x + m = 0$ و $x^2 + 2x - 3m = 0$ یک ریشه مشترک غیر صفر دارند، اختلاف ریشه‌های غیرمشترک کدام است؟

- (۱) ۲ (۲) ۳ (۳) ۴ (۴) ۷ (ریاضی ۱۴۰۲)



(مثل کتور)

۸۲- معادلات $x^2 - 4x + 2 = 0$ و $x^3 + 3x + 1 = 0$

۱) یک ریشه مشترک مثبت دارند ۲) یک ریشه مشترک منفی دارند ۳) دو ریشه مشترک دارند ۴) ریشه مشترک ندارند

۸۳- مجموع پول علی و اکرم ۱۰۰ تومان است. اگر علی ۱۰ تومان از پولش را به اکرم بدهد، آن گاه حاصل ضرب پول های باقی مانده آن ها ۴۷۵ تومان خواهد شد. پول اولیه اکرم کدام است؟ (تجربی خارج ۱۴۰۰)

- ۹۱ (۱)
- ۱۵ (۲)
- ۸۵ (۳)
- ۹۱ (۴)



۸۴- یک استخر مستطیل شکل به ابعاد ۳ و ۱۰ متر دارای یک آبراه بتونی در اطرافش است. اگر این آبراه بتونی در همه جا دارای پهنای یکسان و مساحت ۳۰ متر مربع باشد، پهنای آبراه بتونی چه قدر است؟ (برگرفته از کتاب درسی)

- ۱ (۱)
- ۲ (۲)
- ۳ (۳)
- ۴ (۴)

رابطه بین ریشه ها

۸۵- اگر α و β ریشه های معادله $x^2 - 4x - 2 = 0$ باشند، حاصل $\alpha + \beta + \alpha\beta$ کدام است؟

- ۲ (۱)
- ۴ (۲)
- ۴ (۳)
- صفر (۴)

۸۶- اگر α و β جواب های معادله $3x^2 - 2x = 6$ باشند، حاصل $\frac{\alpha + \beta}{\alpha\beta}$ کدام است؟

- 1/2 (۱)
- 1/3 (۲)
- 1/2 (۳)
- 1/3 (۴)

۸۷- در معادله $x^2 - 6x + 3 = 0$ ، فاصله بین ریشه ها چند برابر $\sqrt{6}$ است؟

- ۲ (۱)
- ۴ (۲)
- ۱ (۳)
- ۳ (۴)

۸۸- ریشه های معادله $x^2 - (a+1)x + a = 0$ دو عدد فرد متوالی طبیعی و ریشه های معادله $x^2 - (3a+1)x + b = 0$ دو عدد زوج متوالی است. اختلاف حاصل ضرب ریشه های دو معادله کدام است؟ (تجربی خارج ۱۴۰۲)

- ۳۳ (۱)
- ۲۱ (۲)
- ۱۳ (۳)
- ۹ (۴)

۸۹- معادله درجه دوم $3x^2 + (2m-1)x + 2 - m = 0$ دارای دو ریشه حقیقی است. اگر مجموع ریشه ها با معکوس حاصل ضرب آن دو ریشه برابر باشد، مقدار m کدام است؟ (تجربی ۹۹)

- 7/2 (۱)
- ۳ (۲)
- ۱ (۳)
- 5/2 (۴)

۹۰- معادله $(x^2 + nx + 5)(x^2 + 6x + n) = 0$ به ازای عدد طبیعی n چهار ریشه گنگ متمایز دارد. حاصل ضرب این چهار ریشه کدام است؟ (آزمون های آزمایشی خیلی سبز)

- ۲۵ (۱)
- ۳۰ (۲)
- ۴۰ (۳)
- ۳۵ (۴)

۹۱- فرض کنید $\{1, 2, \dots, 9\}$ ، $a, b, c \in \{1, 2, \dots, 9\}$ ، $ax^2 + bx - c = 0$ می توان تشکیل داد به طوری که مجموع ریشه های هر معادله از حاصل ضرب ریشه های همان معادله، دو واحد بیشتر باشد؟ (تجربی ۱۴۰۰)

- ۱۴ (۱)
- ۱۵ (۲)
- ۱۶ (۳)
- ۱۸ (۴)

۹۲- مجموع مربعات ریشه های معادله $2x^2 + 3x - 6 = 0$ کدام است؟

- 33/4 (۱)
- 33/2 (۲)
- 11/4 (۳)
- 11/2 (۴)

۹۳- اگر α و β ریشه های معادله $2x^2 - 5x - 3 = 0$ باشند، حاصل $\frac{\alpha}{\beta} + \frac{\beta}{\alpha}$ کدام است؟

- 13/2 (۱)
- 11/2 (۲)
- 37/6 (۳)
- 35/6 (۴)

۹۴- مجموع مکعبات ریشه های معادله $x^2 - 3x - 2 = 0$ کدام است؟

- ۴۲ (۱)
- ۴۵ (۲)
- ۴۷ (۳)
- ۴۹ (۴)

۹۵- اگر α و β ریشه های معادله $4x^2 - 12x + 1 = 0$ باشند، مقدار $\frac{1}{\sqrt{\alpha}} + \frac{1}{\sqrt{\beta}}$ چه قدر است؟ (ق.م)

- ۲ (۱)
- ۳ (۲)
- ۴ (۳)
- ۶ (۴)

۹۶- اگر α و β ریشه های معادله $x^2 - \sqrt{2}x + \sqrt{2} = x$ باشند، حاصل $\frac{1}{\alpha^2} + \frac{1}{\beta^2}$ کدام است؟

- 2/3 (۱)
- 1/3 (۲)
- 3/2 (۳)
- 3/4 (۴)

۹۷- در معادله درجه دوم $x^2 - (\frac{1}{a^2} + a^2)x + \frac{1}{a^2} = 0$ ، حاصل $\frac{x_1}{x_2} + \frac{x_2}{x_1}$ کدام است؟ (x_1 و x_2 ریشه های معادله هستند.)

- $a^4 + \frac{1}{a^4}$ (۱)
- $a^2 + \frac{1}{a^2}$ (۲)
- $a^4 + \frac{1}{a^4}$ (۳)
- $a^6 + \frac{1}{a^6}$ (۴)

فصل اول • جبر و معادله

۹۸- اگر α و β ریشه‌های معادله $x^2 - 5x + 3 = 0$ باشند، آنگاه ریشه سوم $\alpha^3 + \beta^3$ کدام است؟

- (۱) ۶ (۲) ۷ (۳) ۸ (۴) ۹

۹۹- اگر α و β ریشه‌های معادله $x^2 - 6x + 2 = 0$ باشند، حاصل $(\alpha + \frac{1}{\alpha})^2 + (\beta + \frac{1}{\beta})^2$ کدام است؟

- (۱) ۳۸ (۲) ۴۲ (۳) ۴۴ (۴) ۳۶

۱۰۰- در معادله درجه دوم $x^2 - 2x - 4 = 0$ ، اگر ریشه‌ها α و β باشند، حاصل $(\alpha^2 - 4)^2 + 4\beta^2$ چه قدر است؟

- (۱) ۴۸ (۲) ۱۲ (۳) ۱۶ (۴) ۲۴

۱۰۱- در معادله درجه دوم $x^2 + 2x - 1 = 0$ ، حاصل $x_1^4 + (2x_2 - 1)^2$ چه قدر است؟

- (۱) ۳۲ (۲) ۳۳ (۳) ۳۱ (۴) ۳۴

۱۰۲- اگر α و β ریشه‌های معادله $2x^2 - 4x + 1 = 0$ باشند، حاصل $\frac{(2\alpha + \frac{1}{\alpha})^2}{\beta^2 - 2\beta}$ کدام است؟

- (۱) ۳۲ (۲) -۳۲ (۳) ۱۶ (۴) -۱۶

۱۰۳- اگر α و β ریشه‌های معادله $x^2 + 2x - 4 = 0$ باشند، حاصل $\frac{\alpha}{(\alpha + 2)^2} + \frac{\beta}{(\beta + 2)^2}$ کدام است؟

- (۱) $\frac{1}{2}$ (۲) $-\frac{1}{2}$ (۳) ۲ (۴) -۲

۱۰۴- اگر α و β ریشه‌های معادله $x^2 - 6x + 2 = 0$ باشند ($\alpha < \beta$) حاصل $\frac{\alpha^3 - 4}{\alpha^2}$ کدام است؟

- (۱) $-24\sqrt{2}$ (۲) $24\sqrt{2}$ (۳) $-12\sqrt{2}$ (۴) $12\sqrt{2}$

۱۰۵- اگر α و β ریشه‌های معادله $x^2 - x - 1 = 0$ باشند، حاصل $\alpha^2 + 2\beta^2$ کدام است؟

- (۱) ۱ (۲) ۳ (۳) ۵ (۴) ۷

۱۰۶- در معادله $x^2 - 8x + m = 0$ یک ریشه از نصف ریشه دیگر δ واحد بیشتر است. m کدام است؟

- (۱) ۱۰ (۲) ۱۲ (۳) ۱۴ (۴) ۱۵

۱۰۷- در معادله $3x^2 - 17x + m = 0$ یک ریشه از سه برابر ریشه دیگر، سه واحد بیشتر است. m کدام است؟

- (۱) ۹ (۲) ۱۰ (۳) ۱۲ (۴) ۱۵

۱۰۸- اگر α و β ریشه‌های معادله $x^2 - 3mx + 4 = 0$ باشند، به ازای کدام مقدار m رابطه $\alpha\beta^2 + 4 = 0$ برقرار است؟

- (۱) $-\frac{5}{3}$ (۲) $-\frac{4}{3}$ (۳) $-\frac{1}{3}$ (۴) $-\frac{2}{3}$

۱۰۹- اگر یکی از ریشه‌های معادله $ax^2 - 2ax + k = 0$ از مجذور ریشه دیگر ۴ واحد کم‌تر باشد، بزرگ‌ترین ریشه معادله کدام می‌تواند باشد؟ (مثل کنگور)

- (۱) ۳ (۲) ۴ (۳) ۵ (۴) ۶

۱۱۰- به ازای کدام مقدار m بین ریشه‌های معادله $x(x - m) = m^2 + 1$ رابطه $\|\alpha\| - \|\beta\| = 4$ برقرار است؟

- (۱) ۳ (۲) -۴ (۳) ۸ (۴) -۶

۱۱۱- اگر α و β ریشه‌های معادله $x^2 + mx - 3 = 0$ باشند، به ازای کدام مقدار m رابطه $2\alpha + \beta = 4$ بین ریشه‌ها برقرار است؟

- (۱) $3 \pm \sqrt{10}$ (۲) $\frac{6 \pm \sqrt{10}}{2}$ (۳) $-3 \pm \sqrt{10}$ (۴) $\frac{-6 \pm \sqrt{10}}{2}$

۱۱۲- به ازای کدام مقدار m ، بین ریشه‌های معادله $x^2 - mx - 2 = 0$ رابطه $x_1x_2^2 + 2x_1^2x_2 = 4$ برقرار است؟

- (۱) $\frac{\sqrt{5} + 3}{2}$ (۲) $\frac{1 + \sqrt{5}}{2}$ (۳) $\frac{\sqrt{5} - 3}{2}$ (۴) $\frac{1 - \sqrt{5}}{2}$

۱۱۳- اگر $\alpha < \beta < 0$ و α و β ریشه‌های معادله $x^2 + 6x + a = 0$ هستند. اگر $3\alpha^2 + 2\beta^2 = 12\sqrt{2} + 85$ باشد، مقدار a چه قدر است؟ (ریاضی ۱۴۰۱)

- (۱) ۱ (۲) $\frac{13}{4}$ (۳) $\frac{21}{5}$ (۴) ۲

۱۱۴- اگر $\alpha < \beta$ بوده که $x^2 - 6x + k = 0$ ریشه‌های معادله $x^2 - 6x + k = 0$ باشد، مقدار k کدام است؟ (آزمون‌های آزمایشی خیلی سبز)

- (۱) ۶ (۲) ۹ (۳) ۸ (۴) ۷

۱۱۵- به ازای کدام مقدار m ریشه‌های حقیقی معادله $mx^2 + 3x + m^2 = 2$ معکوس یکدیگرند؟ (تجربی خارج ۹۰)

- (۱) -۲ (۲) -۱ (۳) ۱ (۴) ۲

۱۱۶- به ازای کدام مقدار m ، یکی از ریشه‌های معادله $x^2 - 6x + 5 + m = 0$ مجذور دیگری است؟

- (۱) ۳۲ (۲) ۲ (۳) -۳۲ (۴) -۳

۱۱۷- به ازای کدام مقدار m ، عدد $\frac{1}{8}$ واسطه حسابی بین دو ریشه معادله $(m^2 - 4)x^2 - 3x + m = 0$ است؟ (ق.م)

- (۱) ۳ (۲) -۳ (۳) ۴ (۴) -۴



(ق.م)

۱۱۸- به ازای کدام مقدار m ، عدد $\sqrt{2}$ واسطه هندسی بین ریشه‌های حقیقی معادله $mx^2 - 5x + m^2 - 3 = 0$ است؟

(۱) ۱ (۲) -۱ (۳) ۳ (۴) -۳

۱۱۹- اگر α و β ریشه‌های معادله $x^2 + 2(a+1)x + 2a - 1 = 0$ باشند، به ازای کدام مقدار a به ترتیب سه عدد α ، a و β تشکیل دنباله هندسی می‌دهند؟

(۱) -۲ (۲) ۲ (۳) -۱ (۴) ۱ (ریاضی خارج ۱۴۰۱)

۱۲۰- به ازای کدام مقدار m ، مجموع مربعات ریشه‌های حقیقی معادله $mx^2 - (m+3)x + 5 = 0$ برابر ۶ می‌باشد؟

(۱) $-\frac{9}{5}$ (۲) ۱ (۳) 1 و $-\frac{9}{5}$ (۴) $-\frac{9}{5}$ و -1 (تجربی ۹۳)

۱۲۱- اگر α و β ریشه‌های معادله $3x^2 - 12x - a = 0$ و $2\alpha^2 + \beta^2 - 4\alpha = 7$ باشند، مقدار a چند برابر ریشه بزرگ‌تر معادله است؟

(۱) ۳ (۲) -۳ (۳) ۹ (۴) -۹ (ریاضی نوبت دوم خارج ۱۴۰۲)

۱۲۲- اگر α و β ریشه‌های متمایز معادله $ax^2 - ax - b = 0$ و $4\alpha^2 + 2\alpha\beta - 2\beta = 17$ باشند، اختلاف ریشه‌های این معادله کدام است؟

(۱) $\frac{1}{5}$ (۲) $\frac{2}{5}$ (۳) $\frac{1}{\sqrt{5}}$ (۴) $\frac{2}{\sqrt{5}}$ (ریاضی ۱۴۰۲)

تعیین علامت و نوع ریشه‌های معادله درجه دوم

۱۲۳- اگر معادله $2x^2 - 4x + m - 3 = 0$ ، دو ریشه مثبت داشته باشد، آن‌گاه مجموعه مقادیر m به کدام صورت است؟

(۱) $m > 3$ (۲) $3 < m < 4$ (۳) $3 < m < 5$ (۴) $17 < m < 4$

۱۲۴- به ازای چه حدودی از m ، ریشه مثبت معادله $x^2 + m(x+2) = 2$ از قدرمطلق ریشه منفی کوچک‌تر است؟

(۱) $(-1, 0)$ (۲) \mathbb{R} (۳) \emptyset (۴) $(0, 1)$

۱۲۵- اگر α و β دو ریشه قرینه هم معادله $(m-3)x^2 + (m^2-1)x - m = 0$ باشند، حاصل $2\alpha^2 + \beta^2$ کدام است؟

(۱) $\frac{5}{2}$ (۲) $\frac{5}{4}$ (۳) $\frac{3}{2}$ (۴) $\frac{3}{4}$

معادلات درجه سوم با یک عامل (x-a)

۱۲۶- در معادله $(x+2)(x^2 - x + m) = 0$ حاصل ضرب سه ریشه ۶ است. m کدام است؟

(۱) ۱ (۲) -۲ (۳) -۳ (۴) ۴

۱۲۷- اگر α و β ریشه‌های معادله $4x^2 + kx^2 - 9x - 2 = 0$ ، $\alpha + \beta = 1$ و $\alpha\beta = -2$ باشد، مقدار k چه قدر است؟

(۱) $-\frac{27}{5}$ (۲) $\frac{27}{5}$ (۳) -۳ (۴) ۳ (ریاضی خارج ۱۴۰۱)

۱۲۸- اگر یکی از ریشه‌های معادله $2(ax^2 - x - 5) = 2$ برابر ۲ باشد، مجموع دو ریشه دیگر آن کدام است؟

(۱) -۲ (۲) $-\frac{3}{2}$ (۳) $\frac{1}{2}$ (۴) $\frac{3}{2}$ (ریاضی خارج ۸۷)

۱۲۹- اگر مجموع مجذور ریشه‌های حقیقی معادله $x^2 + (x^2 - x)(x+1) - m = 0$ برابر ۴ باشد، m کدام است؟

(۱) -۲ (۲) ۱ (۳) ۳ (۴) ۶

۱۳۰- مجموع معکوس مربع سه ریشه معادله $(x+2)(x^2 + ax + 2) = 0$ برابر $-\frac{a}{4}$ است. a کدام است؟

(۱) ۲ (۲) -۳ (۳) ۴ (۴) -۶

۱۳۱- ریشه‌های حقیقی معادله $x^2 - 2x + 1 = 0$ چگونه است؟

(۱) ریشه مضاعف مثبت - یک ریشه منفی
(۲) ریشه مضاعف منفی - یک ریشه مثبت
(۳) یک ریشه مثبت - دو ریشه منفی
(۴) دو ریشه مثبت - یک ریشه منفی

۱۳۲- اگر α ، β و γ ریشه‌های معادله $x^3 - 5x + 4 = 0$ باشند، حاصل $\frac{1}{\alpha^2} + \frac{1}{\beta^2} + \frac{1}{\gamma^2}$ کدام است؟

(۱) $\frac{25}{9}$ (۲) $\frac{16}{9}$ (۳) $\frac{25}{16}$ (۴) $\frac{9}{16}$

۱۳۳- به ازای کدام مقادیر a ، معادله $x^3 + (a-1)x^2 + (4-a)x + 4 = 0$ دارای سه ریشه حقیقی متمایز مثبت است؟

(۱) $a < -4$ (۲) $a > -4$ (۳) $a < 4$ (۴) $a > 4$ (تجربی خارج ۹۴)

نوشتن معادله درجه دوم با داشتن مجموع و حاصل ضرب ریشه‌ها

۱۳۴- در معادله درجه دومی که ریشه‌هایش $\frac{1}{3}$ و $-\frac{1}{3}$ است، ضریب x^2 چند برابر ضریب x است؟

(۱) $\frac{1}{6}$ (۲) $-\frac{1}{6}$ (۳) ۶ (۴) -۶

فصل اول • جبر و معادله

۱۳۵- معادله درجه دومی با ضرایب گویا که یک ریشه آن $\frac{1-\sqrt{3}}{2}$ است، به صورت $ax^2 + bx + c = 0$ است. $a + b$ کدام است؟

- (۱) صفر (۲) -۳ (۳) ۲ (۴) -۲

تشکیل معادله درجه دوم جدید

(برگرفته از کتاب درسی)

۱۳۶- محیط یک مستطیل ۲۰ و مساحت آن ۲۴ است. طول مستطیل چه قدر از عرض آن بیشتر است؟

- (۱) ۱ (۲) ۲ (۳) ۳ (۴) ۴

(تجربی ۸۷)

۱۳۷- ریشه‌های معادله درجه دوم $x^2 + ax + b = 0$ ، یک واحد از ریشه‌های معادله $3x^2 + 7x + 1 = 0$ بیشتر است. b کدام است؟

- (۱) -۲ (۲) -۱ (۳) $\frac{2}{3}$ (۴) $\frac{4}{3}$

(ریاضی ۹۲)

۱۳۸- اگر α و β ریشه‌های معادله $2x^2 - 3x - 4 = 0$ باشند، مجموعه جواب‌های کدام معادله، به صورت $\left\{ \frac{1}{\alpha} + 1, \frac{1}{\beta} + 1 \right\}$ است؟

- (۱) $4x^2 - 5x + 1 = 0$ (۲) $4x^2 - 3x + 1 = 0$ (۳) $4x^2 - 5x - 1 = 0$ (۴) $4x^2 - 3x - 1 = 0$

(تجربی ۱۴۰۰)

۱۳۹- فرض کنید x_1 و x_2 ریشه‌های معادله $x^2 - 5x = 0$ باشند، $\frac{1}{(x_1 + 1)^3}$ و $\frac{1}{(x_2 + 1)^3}$ ریشه‌های کدام معادله هستند؟

- (۱) $125x^2 + 16x = 1$ (۲) $125x^2 = 16x + 1$ (۳) $125x^2 = 12x + 1$ (۴) $125x^2 + 12x = 1$

(تجربی خارج ۱۴۰۰)

۱۴۰- فرض کنید x_1 و x_2 ریشه‌های معادله $x^2 - 4x = 0$ باشند. ریشه‌های کدام معادله $x_1^2 + \frac{1}{x_1}$ و $x_2^2 + \frac{1}{x_2}$ است؟

- (۱) $4x^2 = 51x + 221$ (۲) $4x^2 + 51x = 221$ (۳) $4x^2 = 51x + 197$ (۴) $4x^2 + 51x = 197$

۱۴۱- اگر α و β ریشه‌های معادله $2x^2 - 3x = 1$ باشند، به ازای کدام مقدار k مجموعه جواب‌های معادله $8x^2 + kx - 1 = 0$ به صورت $\{\alpha^2\beta, \alpha\beta^2\}$ است؟

(ریاضی خارج ۹۰)

- (۱) ۵ (۲) ۶ (۳) ۷ (۴) ۹

۱۴۲- اگر α و β ریشه‌های معادله $x(\Delta x + 3) = 2$ باشند، به ازای کدام مقدار k مجموعه جواب معادله $4x^2 - kx + 25 = 0$ به صورت $\left\{ \frac{1}{\alpha^2}, \frac{1}{\beta^2} \right\}$ است؟

(ریاضی ۹۰)

- (۱) ۲۷ (۲) ۲۸ (۳) ۲۹ (۴) ۳۱

۱۴۳- اگر ریشه‌های معادله $4x^2 - 12x + m = 0$ از k برابر مکعب ریشه‌های معادله $x^2 - 2x - 1 = 0$ ، 2 واحد کم‌تر باشد، m کدام است؟

- (۱) -۴۱ (۲) -۳۹ (۳) -۴۴ (۴) -۴۳

(ریاضی خارج ۹۰)

۱۴۴- اگر ریشه‌های معادله $ax^2 + x^2 - 5x + a = 0$ اعداد $1, \alpha, \beta$ باشند، معادله درجه دوم با ریشه‌های $\left\{ \frac{\alpha}{\beta}, \frac{\beta}{\alpha} \right\}$ به صورت $4x^2 + kx + 4 = 0$ است، مقدار k کدام است؟

(آزمون‌های آزمایشی خیلی سبز)

- (۱) -۱۷ (۲) ۱۹ (۳) ۱۷ (۴) -۱۹

۱۴۵- اگر α و β ریشه‌های معادله $x^2 + ax + b = 0$ و $\beta - 1$ و $\alpha - 1$ ریشه‌های معادله $x^2 - 5x + b + 2 = 0$ باشند، b کدام است؟

(آزمون‌های آزمایشی خیلی سبز)

- (۱) ۴ (۲) ۳ (۳) -۳ (۴) -۴

۱۴۶- ریشه‌های معادله $5(x^2 + x) = 5$ برابر α و β و ریشه‌های معادله $x(a + x) = b$ برابر $\frac{\alpha}{\beta}$ و $\frac{\beta}{\alpha}$ هستند. حاصل $a + b$ کدام است؟

(آزمون‌های آزمایشی خیلی سبز)

- (۱) $-\frac{4}{8}$ (۲) $-\frac{2}{8}$ (۳) $\frac{2}{8}$ (۴) $\frac{4}{8}$

۱۴۷- اگر α ریشه بزرگ‌تر معادله $x^2 + 2x - 1 = 0$ باشد، معادله‌ای که ریشه‌هایش α^2 و $\frac{1}{2\alpha - 1}$ هستند، به کدام صورت است؟

- (۱) $x^2 + 4\sqrt{2}x + 1 = 0$ (۲) $x^2 - 4\sqrt{2}x - 1 = 0$ (۳) $x^2 + 4\sqrt{2}x - 1 = 0$ (۴) $x^2 - 4\sqrt{2}x + 1 = 0$

حل معادله با تغییر متغیر

۱۴۸- مجموع ریشه‌های معادله $x^6 - 9x^3 + 8 = 0$ کدام است؟

- (۱) ۹ (۲) ۷ (۳) ۳ (۴) ۱

۱۴۹- معادله $x^4 - 2x^2 + 1 = 0$ چند جواب دارد؟

- (۱) ۱ (۲) ۲ (۳) ۳ (۴) ۴

(ریاضی ۹۷)

۱۵۰- معادله $2(x^2 - 2x) - (x^2 - 2x) = 2$ چند ریشه حقیقی متمایز دارد؟

- (۱) ۱ (۲) ۲ (۳) ۳ (۴) ۴

۱۵۱- جواب‌های معادله $(x^2 - 1)^2 = x^2 + 5$ چگونه‌اند؟

(۱) دو جواب مثبت و دو جواب منفی (۲) یک جواب مثبت و یک جواب منفی (۳) دو جواب مثبت (۴) معادله جواب ندارد.

۱۵۲- معادله $6 = 0 - 5(x^4 - x^2) - 6 = 0$ چند ریشه حقیقی دارد؟

- (۱) ۴ (۲) ۸ (۳) ۱ (۴) ۲



در معادله $a + c = b, 2m^2 - 5m - 7 = 0$ است. در نتیجه یکی از ریشه‌ها
 ۱- و ریشه دیگر $\frac{c}{a} = \frac{7}{3} = 3/5$ است. در نتیجه:

$$2m^2 - 5m - 7 < 0 \Rightarrow -1 < m < 3/5$$

باید توجه داشت که به ازای $m = \frac{1}{4}$ با یک معادله درجه اول روبه‌رو هستیم که تنها یک ریشه دارد. پس قابل قبول نیست، اما با توجه به گزینه‌ها به طور قطع،
 ۳ گزینه مورد نظر طراح است.

۸۰. چون معادله ریشه مضاعف دارد، پس:

$$\Delta = 0 \Rightarrow (-(2m+3))^2 - 4(m^2) = 0$$

$$\Rightarrow 4m^2 + 12m + 9 - 4m^2 = 0 \Rightarrow 12m + 9 = 0$$

$$\Rightarrow m = -\frac{9}{12} = -\frac{3}{4}$$

اما طراح از ما مقدار ریشه را می‌خواهد نه مقدار m ؛ پس برای یافتن ریشه از نکته زیر کمک می‌گیریم:

نکته: اگر معادله $ax^2 + bx + c = 0$ ریشه مضاعف داشته باشد، این ریشه برابر $-\frac{b}{2a}$ است.

در نتیجه در معادله $x^2 - (2m+3)x + m^2 = 0$ ریشه مضاعف برابر است با:

$$x = -\frac{b}{2a} = \frac{2m+3}{2} \xrightarrow{m=-\frac{3}{4}} x = \frac{-\frac{3}{2}+3}{2} = \frac{3}{4}$$

۸۱. **روش ۱**

سمت چپ تساوی‌های $x^2 + 6x + m = 0$ و $x^2 + 2x - 3m = 0$ را برابر قرار می‌دهیم:

$$x^2 + 6x + m = x^2 + 2x - 3m \Rightarrow 4x = -4m \Rightarrow m = -x$$

حالا در یکی از معادله‌ها، با جای‌گذاری $-x$ جای m ، معادله‌ها را حل می‌کنیم:

$$\bullet x^2 + 6x + m = 0 \xrightarrow{m=-x} x^2 + 5x = 0 \Rightarrow \begin{cases} x = 0 \\ x = -5 \end{cases}$$

پس ریشه مشترک $x = -5$ و در نتیجه $m = -x = 5$ است. هر دو معادله را حل می‌کنیم تا ریشه‌های دیگرشان هم به دست آید:

$$\bullet x^2 + 6x + m = 0 \xrightarrow{m=5} x^2 + 6x + 5 = 0$$

$$\Rightarrow (x+1)(x+5) = 0 \xrightarrow{\text{ریشه دیگر}} x = -1$$

$$\bullet x^2 + 2x - 3m = 0 \xrightarrow{m=5} x^2 + 2x - 15 = 0$$

$$\Rightarrow (x+5)(x-3) = 0 \xrightarrow{\text{ریشه دیگر}} x = 3$$

اختلاف دو ریشه غیرمشترک برابر است با: $3 - (-1) = 4$

روش ۲: ریشه مشترک دو معادله را X_1 می‌گیریم. در هر دو معادله، مجموع

$$x^2 + 6x + m = 0 \Rightarrow x_1 + x_2 = -6$$

$$x^2 + 2x - 3m = 0 \Rightarrow x_1 + x_2' = -2$$

طرفین دو تساوی را از هم کم می‌کنیم:

$$(x_1 + x_2') - (x_1 + x_2) = -2 - (-6) \Rightarrow x_2' - x_2 = 4$$

۸۲. **۴** ریشه مشترک دو معادله، ریشه‌ای است که در هر دو معادله صدق

می‌کند؛ یعنی اگر $x = \alpha$ ریشه مشترک باشد، آن‌گاه با توجه به معادلات

داده‌شده داریم:

$$\begin{cases} \alpha^2 + 3\alpha + 1 = 0 \\ \alpha^2 - 4\alpha + 2 = 0 \end{cases} \xrightarrow{\text{کم}} 7\alpha - 1 = 0 \Rightarrow \alpha = \frac{1}{7}$$

$$= 1 \cdot (16 + 8\sqrt{2} + 8 + 4\sqrt{2} + 4 + 2\sqrt{2} + 2 + \sqrt{2} + 1)$$

$$= 1 \cdot (31 + 15\sqrt{2}) = 31 + 15\sqrt{2}$$

۷۵. **۱** مجموع شش جمله اول برای $15/75$ است، پس:

$$S = a_1 + a_2 + \dots + a_6 = 15/75$$

مجموع معکوس‌های آن‌ها نیز برابر $7/875$ است، پس:

$$S' = \frac{1}{a_1} + \frac{1}{a_2} + \dots + \frac{1}{a_6} = 7/875$$

باید $A = a_1 a_2 \dots a_6$ را محاسبه کنیم. از طرفی می‌دانیم:

$$a_1 a_6 = a_2 a_5 = a_3 a_4 \quad (*) \Rightarrow A = a_1 a_2 \dots a_6 = (a_1 a_6)^3$$

حالا از S و S' کمک می‌گیریم:

$$S = a_1 + a_2 + \dots + a_6 = \frac{a_1 a_6}{a_6} + \frac{a_2 a_5}{a_5} + \dots + \frac{a_3 a_4}{a_1}$$

$$(*) \frac{a_1 a_6}{a_6} + \frac{a_2 a_5}{a_5} + \dots + \frac{a_3 a_4}{a_1}$$

$$\Rightarrow S = a_1 a_6 \left(\frac{1}{a_6} + \frac{1}{a_5} + \dots + \frac{1}{a_1} \right) \Rightarrow S = a_1 a_6 S'$$

$$\Rightarrow 15/75 = a_1 a_6 (7/875)$$

$$\Rightarrow a_1 a_6 = \frac{15/75}{7/875} = 2 \Rightarrow A = (a_1 a_6)^3 = (2)^3 = 8$$

۷۶. **۳** معادله را مرتب می‌کنیم:

$$(x-1)(x+1) = 2x+7 \Rightarrow x^2 - 1 = 2x+7$$

$$\Rightarrow x^2 - 2x - 8 = 0 \Rightarrow (x-4)(x+2) = 0 \Rightarrow x = 4, -2$$

$x = 4$ ریشه بزرگ‌تر است.

۷۷. **۱** **روش ۱:** $x = 2$ یک جواب معادله است؛ پس در معادله صدق می‌کند:

$$x = 2: 2(2)^2 + a(2) = a + 2 \Rightarrow 8 + 2a = a + 2 \Rightarrow a = -6$$

با قراردادن $a = -6$ در معادله داریم:

$$\text{معادله: } 2x^2 - 6x = -4 \Rightarrow 2x^2 - 6x + 4 = 0 \quad (*)$$

$$\xrightarrow{(*) \div 2} x^2 - 3x + 2 = 0 \xrightarrow{\text{جمع ضرایب صفر است.}} \begin{cases} x = 1 \\ x = 2 \end{cases}$$

روش ۲: برای محاسبه ریشه دیگر می‌توانیم از ضرب ریشه‌ها در $(*)$ استفاده

کنیم: (ریشه دیگر را α در نظر می‌گیریم.)

$$\text{ضرب ریشه‌ها} = \frac{2}{1} \Rightarrow 2\alpha = 2 \Rightarrow \alpha = 1$$

۷۸. **۴** معادله را مرتب می‌کنیم:

$$(x-1)(x-2) + 2 + k^2 = 0 \Rightarrow x^2 - 4x + 3 + 2 + k^2 = 0$$

$$\Rightarrow x^2 - 4x + 5 + k^2 = 0$$

در مرحله اول ببینیم معادله اصلاً ریشه دارد یا خیر:

$$\Delta = b^2 - 4ac = (-4)^2 - 4(1)(5 + k^2) = 16 - 20 - 4k^2$$

$$= -4 - 4k^2 = -4(1 + k^2) \xrightarrow{1+k^2 > 0} -4(1 + k^2) < 0$$

$$\Rightarrow \Delta < 0$$

چون $\Delta < 0$ شد معادله ریشه حقیقی ندارد.

۷۹. **۳** برای این‌که معادله دو ریشه حقیقی متمایز داشته باشد، باید $\Delta > 0$ باشد:

$$\Rightarrow 36 - 4(2m-1)(m-2) > 0$$

$$\xrightarrow{\div (-4)} (2m-1)(m-2) - 9 < 0$$

$$\Rightarrow 2m^2 - 4m - m + 2 - 9 < 0 \Rightarrow 2m^2 - 5m - 7 < 0$$

۸۸. **روش ۱** ریشه‌های معادله $x^2 - (a+1)x + a = 0$ دو عدد فرد متوالی طبیعی است. از آنجا که تفاضل دو عدد طبیعی فرد متوالی برابر ۲ است، پس قدرمطلق تفاضل ریشه‌ها برابر ۲ است:

$$\begin{aligned} \Rightarrow |x_1 - x_2| = 2 &\Rightarrow \frac{\sqrt{\Delta}}{|x_1 - x_2|} = 2 \Rightarrow \frac{\sqrt{\Delta}}{1} = 2 \\ \Rightarrow \sqrt{\Delta} = 2 &\Rightarrow \Delta = 4 \\ \Rightarrow (a+1)^2 - 4a = 4 &\Rightarrow a^2 + 2a + 1 - 4a = 4 \Rightarrow (a-1)^2 = 4 \\ \Rightarrow \begin{cases} a-1=2 \Rightarrow a=3 \xrightarrow{\text{در معادله}} x^2 - 4x + 3 = 0 \\ \Rightarrow (x-1)(x-3) = 0 \Rightarrow \begin{cases} x=1 \\ x=3 \end{cases} \checkmark \\ a-1=-2 \Rightarrow a=-1 \xrightarrow{\text{در معادله}} x^2 - 1 = 0 \\ \Rightarrow x = \pm 1 \quad (\text{یکی طبیعی نیست.}) \quad \times \end{cases} \end{aligned}$$

پس $a=3$ قابل قبول است. با قراردادن $a=3$ در معادله دوم:

$$\text{معادله: } x^2 - 10x + b = 0$$

ریشه‌های این معادله دو عدد زوج متوالی است. با توجه به این که جمع ریشه‌ها برابر ۱۰ است، پس دو عدد، ۴ و ۶ هستند؛ پس:

$$\begin{aligned} \text{اول} \quad (3)(1) = 3 & \Rightarrow \text{اختلاف} = 21 \\ \text{دوم} \quad (4)(6) = 24 & \Rightarrow \text{اختلاف} = 21 \end{aligned}$$

روش ۲ دقت کنید که در معادله $x^2 - (a+1)x + a = 0$ مجموع ضرایب برابر صفر است پس یک ریشه برابر ۱ و ریشه دیگر برابر a است. در نتیجه با توجه به این که دو عدد فرد متوالی طبیعی هستند پس ریشه دیگر برابر ۳ است و در نتیجه: $a=3$

۸۹. **۱**

$$\begin{aligned} \Rightarrow -\frac{b}{a} = \frac{1}{\frac{c}{a}} &\Rightarrow \text{معکوس حاصل ضرب ریشه‌ها} = \text{مجموع ریشه‌ها} \\ \Rightarrow -\frac{b}{a} = \frac{a}{c} &\Rightarrow a^2 = -bc \Rightarrow a^2 + bc = 0 \\ &\text{با توجه به معادله داریم:} \end{aligned}$$

$$3^2 + (2m-1)(2-m) = 0 \Rightarrow 9 + 4m - 2m^2 + m - 2 = 0$$

$$\Rightarrow -2m^2 + 5m + 7 = 0 \xrightarrow{a+c=b} \begin{cases} m = -1 \\ m = -\frac{c}{a} = \frac{7}{2} \end{cases}$$

اما به ازای $m = -1$ معادله به صورت $3x^2 + x + 1 = 0$ خواهد بود که دلتای آن منفی است و ریشه حقیقی ندارد. پس $m = \frac{7}{2}$ قابل قبول است.

۹۰. **۴** وقتی حاصل ضرب دو پرانتز صفر باشد، هر کدام می‌توانند صفر باشند:

$$\begin{cases} x^2 + nx + 5 = 0 \\ x^2 + 6x + n = 0 \end{cases}$$

برای این که چهار جواب داشته باشیم، باید هر معادله دو جواب داشته باشد؛ پس دلتای هر دو معادله بالا باید مثبت باشد:

$$\begin{cases} \Delta_1 > 0 \Rightarrow n^2 - 20 > 0 \Rightarrow n^2 > 20 \Rightarrow n > \sqrt{20} \\ \Delta_2 > 0 \Rightarrow 36 - 4n > 0 \Rightarrow n < 9 \end{cases}$$

$$\xrightarrow{\text{اشتراک}} \sqrt{20} < n < 9 \xrightarrow{n \in \mathbb{N}} n = 5, 6, 7, 8$$

به ازای هر چهار مقدار به دست آمده برای n ، جواب‌های دو معادله $x^2 + nx + 5 = 0$ و $x^2 + 6x + n = 0$ را چک می‌کنیم. اگر یک جواب گویا هم بدهند، آن حالت رد می‌شود:

حالا باید چک کنیم ببینیم $\alpha = \frac{1}{\gamma}$ ریشه معادلات فوق هست یا نه: (تو یک معادله چک کنیم کافیست!)

$$\left(\frac{1}{\gamma}\right)^2 + 3\left(\frac{1}{\gamma}\right) + 1 \neq 0$$

پس دو معادله ریشه مشترک ندارند.

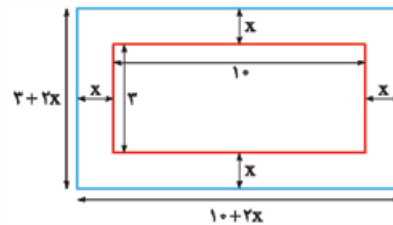
۸۳. **۳** پول اولیه علی را x و پول اولیه اکرم را y در نظر می‌گیریم. مجموع پول علی و اکرم ۱۰۰ تومان است. پس:

$$\begin{aligned} x + y = 100 \\ \text{اگر علی } 10 \text{ تومان از پولش را به اکرم بدهد آن‌گاه علی } (x-10) \text{ و اکرم } (y+10) \text{ تومان خواهند داشت. در نتیجه با توجه به این که حاصل ضرب پول‌های آن‌ها } 475 \text{ تومان است، پس:} \\ (x-10)(y+10) = 475 = 5 \times 95 \\ \Rightarrow \begin{cases} x-10=5 \Rightarrow x=15 \\ y+10=95 \Rightarrow y=85 \end{cases} \end{aligned}$$

پس پول اولیه اکرم ۸۵ تومان است.

دقت کنید که ۴۹۵ را می‌توان به صورت 19×25 هم در نظر گرفت اما در این حالت بعد از محاسبه x و y ، تساوی $x+y=100$ برقرار نخواهد شد.

۸۴. **۱** اگر پهنای آبراه را x در نظر بگیریم، اندازه‌های روی شکل به صورت مقابل می‌شود:



مساحت آبراه برابر تفاضل مساحت مستطیل کوچک‌تر از مستطیل بزرگ‌تر است:

$$(10+2x)(3+2x) - (3)(10) = 4x^2 + 26x + 30 - 30 = 4x^2 + 26x$$

مساحت آبراه ۳۰ است، پس داریم:

$$4x^2 + 26x = 30 \Rightarrow 4x^2 + 26x - 30 = 0 \xrightarrow{\text{جمع ضرایب}} \begin{cases} x = 1 \\ x = -\frac{30}{4} \end{cases} \times$$

پس پهنای آبراه برابر ۱ متر است.

۸۵. **۱**

$$\begin{aligned} x^2 - 4x - 2 = 0 &\Rightarrow \begin{cases} \alpha + \beta = -\frac{b}{a} = -\frac{-4}{1} = 4 \\ \alpha\beta = \frac{c}{a} = \frac{-2}{1} = -2 \end{cases} \\ \Rightarrow \alpha + \beta + \alpha\beta &= 4 + (-2) = 2 \end{aligned}$$

۸۶. **۲**

$$\begin{aligned} 3x^2 - 2x = 6 &\Rightarrow 3x^2 - 2x - 6 = 0 \\ \Rightarrow \begin{cases} \text{جمع ریشه‌ها: } \alpha + \beta = -\frac{b}{a} = -\frac{-2}{3} = \frac{2}{3} \\ \text{ضرب ریشه‌ها: } \alpha\beta = \frac{c}{a} = \frac{-6}{3} = -2 \end{cases} \end{aligned}$$

۸۷. **۱** فاصله بین ریشه‌ها یعنی $|\alpha - \beta|$. در درس‌نامه گفتیم:

$$\Rightarrow \frac{\alpha + \beta}{\alpha\beta} = \frac{\frac{2}{3}}{-2} = -\frac{1}{3}$$

$$|\alpha - \beta| = \frac{\sqrt{\Delta}}{|a|}$$

$$x^2 - 6x + 3 = 0 \Rightarrow \Delta = b^2 - 4ac = 36 - 12 = 24, a = 1$$

$$\Rightarrow |\alpha - \beta| = \frac{\sqrt{\Delta}}{|a|} = \frac{\sqrt{24}}{1} = 2\sqrt{6}$$



$$x^2 - 3x - 2 = 0 \Rightarrow \begin{cases} S = \alpha + \beta = -\frac{b}{a} = -\frac{-3}{1} = 3 \\ P = \alpha\beta = \frac{c}{a} = \frac{-2}{1} = -2 \end{cases}$$

پس: $(3)^2 - 2(-2)(3) = 9 + 12 = 21$
 $= 27 + 18 = 45$

۹۵. چون رادیکالی است، به توان دو می‌رسانیم:

$$A = \frac{1}{\sqrt{\alpha}} + \frac{1}{\sqrt{\beta}} \Rightarrow A^2 = \frac{1}{\alpha} + \frac{1}{\beta} + \frac{2}{\sqrt{\alpha\beta}}$$

در دو کسر اول مخرج مشترک می‌گیریم:

$$A^2 = \frac{\beta + \alpha}{\alpha\beta} + \frac{2}{\sqrt{\alpha\beta}} = \frac{S}{P} + \frac{2}{\sqrt{P}} \quad (*)$$

S و P را از معادله داده شده حساب می‌کنیم:

$$4x^2 - 12x + 1 = 0 \Rightarrow \begin{cases} S = -\frac{b}{a} = -\frac{-12}{4} = 3 \\ P = \frac{c}{a} = \frac{1}{4} \end{cases}$$

همینا رو تو رابطه (*) قرار میدیم:

$$A^2 = \frac{3}{\frac{1}{4}} + \frac{2}{\sqrt{\frac{1}{4}}} = 12 + \frac{2}{\frac{1}{2}} = 16 \Rightarrow A = 4$$

۹۶. باید معادله را مرتب کنیم:

$$x^2 - \sqrt{2}x + \sqrt{2} - x = 0 \Rightarrow x^2 - (\sqrt{2} + 1)x + \sqrt{2} = 0$$

مجموع ضرایب معادله صفر است، پس یک ریشه، ۱ و ریشه دیگر $\frac{c}{a}$ است:

$$\Rightarrow \begin{cases} \alpha = 1 \\ \beta = \frac{\sqrt{2}}{1} = \sqrt{2} \Rightarrow \frac{1}{\alpha^2} + \frac{1}{\beta^2} = \frac{1}{(1)^2} + \frac{1}{(\sqrt{2})^2} = 1 + \frac{1}{2} = \frac{3}{2} \end{cases}$$

۹۷. فیلدی سوال بیفتد ولی در عین حال ابتکاری و قشنگیه! ببین چی کار می‌کنم:

$$x^2 - \left(\frac{1}{a^4} + a^2\right)x + \frac{1}{a^2} = 0$$

$$\Rightarrow \begin{cases} \text{جمع ریشه‌ها: } x_1 + x_2 = \frac{1}{a^4} + a^2 \\ \text{ضرب ریشه‌ها: } x_1 x_2 = \frac{1}{a^2} \end{cases}$$

اگر $x_1 = \frac{1}{a^4}$ و $x_2 = a^2$ در نظر گرفته شود، تساوی‌های بالا برقرار می‌شوند.

حالا حاصل عبارت خواسته شده را می‌یابیم:

$$\frac{x_1}{x_2} + \frac{x_2}{x_1} = \frac{\frac{1}{a^4}}{a^2} + \frac{a^2}{\frac{1}{a^4}} = \frac{1}{a^6} + a^6$$

۹۸. ۲

$$x^2 - 5x + 3 = 0 \Rightarrow \begin{cases} S = \alpha + \beta = 5 \\ P = \alpha\beta = 3 \end{cases}$$

برای محاسبه $\alpha^4 + \beta^4$ از اتحاد فرعی اتحاد اول استفاده می‌کنیم:

$$\alpha^4 + \beta^4 = (\alpha^2 + \beta^2)^2 - 2\alpha^2\beta^2 = (S^2 - 2P)^2 - 2P^2$$

$$= (5^2 - 2(3))^2 - 2(3)^2 = 19^2 - 18 = 361 - 18 = 343$$

$$\Rightarrow \alpha^4 + \beta^4 = \sqrt[3]{343} = \sqrt[3]{7^3} = 7$$

$$n = 5 \xrightarrow{\text{معادله دوم}} x^2 + 6x + 5 = 0 \xrightarrow{a+c=b} x_1 = -1,$$

$$x_2 = -5$$

$$n = 6 \xrightarrow{\text{معادله اول}} x^2 + 6x + 5 = 0 \xrightarrow{a+c=b} x_1 = -1,$$

$$x_2 = -5$$

$$n = 7 \Rightarrow \begin{cases} x^2 + 7x + 5 = 0 \Rightarrow \Delta = 29 \Rightarrow \text{دو ریشه گنگ} \\ x^2 + 6x + 7 = 0 \Rightarrow \Delta = 8 \Rightarrow \text{دو ریشه گنگ} \end{cases}$$

چهار ریشه گنگ ✓

$$n = 8 \xrightarrow{\text{معادله دوم}} x^2 + 6x + 8 = 0 \Rightarrow (x+2)(x+4) = 0$$

$$\Rightarrow x_1 = -2, x_2 = -4$$

پس فقط $n = 7$ قبول است.

حاصل ضرب ریشه‌های دو معادله $x^2 + 7x + 5 = 0$ و $x^2 + 6x + 7 = 0$

به ترتیب $P_1 = \frac{c_1}{a_1} = 5$ و $P_2 = 7$ و حاصل ضرب هر چهار ریشه برابر با $P_1 P_2 = 5 \times 7 = 35$ است.

۹۱. می‌خواهیم مجموع ریشه‌ها از حاصل ضرب ریشه‌ها دو واحد بیشتر

$$S = P + 2 \quad (*)$$

باشد، یعنی:

$$S = -\frac{b}{a}, P = -\frac{c}{a} \quad \text{داریم: } ax^2 + bx - c = 0$$

$$\xrightarrow{(*)} -\frac{b}{a} = -\frac{c}{a} + 2 \xrightarrow{\times(a)} -b = -c + 2a$$

$$\Rightarrow 2a = c - b$$

چون $2a$ عددی زوج است پس باید تفاضل c و b عددی زوج باشد؛ بنابراین باید هر دو زوج یا هر دو فرد باشند. چون مقادیر b و c از مجموعه $\{1, 2, 3, \dots, 9\}$ هستند بنابراین باید دو عدد فرد یا دو عدد زوج از این مجموعه انتخاب کنیم:

$$\Rightarrow \text{تعداد کل حالات} = \underbrace{\binom{5}{2}}_{\text{انتخاب دو عدد فرد}} + \underbrace{\binom{4}{2}}_{\text{انتخاب دو عدد زوج}} = 10 + 6 = 16$$

$$92. \quad \alpha^2 + \beta^2 = S^2 - 2P$$

S و P را از معادله پیدا می‌کنیم:

$$2x^2 + 3x - 6 = 0 \Rightarrow \begin{cases} S = -\frac{b}{a} = -\frac{3}{2} \\ P = \frac{c}{a} = \frac{-6}{2} = -3 \end{cases}$$

$$\Rightarrow \alpha^2 + \beta^2 = S^2 - 2P = \left(-\frac{3}{2}\right)^2 - 2(-3) = \frac{9}{4} + 6 = \frac{9 + 24}{4} = \frac{33}{4}$$

۹۳. ۳

$$2x^2 - 5x - 3 = 0 \Rightarrow \begin{cases} S = \alpha + \beta = \frac{5}{2} \\ P = \alpha\beta = -\frac{3}{2} \end{cases}$$

برای محاسبه حاصل عبارت داده شده مخرج مشترک می‌گیریم:

$$\frac{\alpha}{\beta} + \frac{\beta}{\alpha} = \frac{\alpha^2 + \beta^2}{\alpha\beta} = \frac{S^2 - 2P}{P} = \frac{\left(\frac{5}{2}\right)^2 - 2\left(-\frac{3}{2}\right)}{-\frac{3}{2}}$$

$$= \frac{\frac{25}{4} + 3}{-\frac{3}{2}} = \frac{\frac{37}{4}}{-\frac{3}{2}} = -\frac{37}{6}$$

$$94. \quad \alpha^3 + \beta^3 = (\alpha + \beta)^3 - 3\alpha\beta(\alpha + \beta)$$

$$= S^3 - 3PS \quad (*)$$

از معادله، S و P را محاسبه می‌کنیم:

$$\Rightarrow \beta + \gamma = \frac{\alpha}{\beta} \Rightarrow \frac{\alpha}{(\alpha + \gamma)^2} + \frac{\beta}{(\beta + \gamma)^2} = \frac{\alpha}{\left(\frac{\alpha}{\beta}\right)^2} + \frac{\beta}{\left(\frac{\alpha}{\beta}\right)^2}$$

$$= \frac{\alpha}{\frac{\alpha^2}{\beta^2}} + \frac{\beta}{\frac{\alpha^2}{\beta^2}} = \frac{\alpha^2 + \beta^2}{\alpha^2} = \frac{S^2 - 2PS}{\alpha^2}$$

با توجه به معادله $x^2 + 2x - 4 = 0$ ، $S = -2$ و $P = -4$ است، در نتیجه:

$$\text{حاصل عبارت} = \frac{(-2)^2 - 2(-4)(-2)}{16} = \frac{-8 - 24}{16} = -2$$

۱۰۴. **۳** رابطه داده شده فقط بر حسب α است. از جمع یا ضرب ریشه‌ها کمک می‌گیریم تا رابطه را بر حسب α و β بنویسیم.

$$P = 2 \Rightarrow \alpha\beta = 2 \Rightarrow \beta = \frac{2}{\alpha} \Rightarrow \beta^2 = \frac{4}{\alpha^2} \quad (*)$$

از طرفی در عبارت داده شده داریم:

$$\frac{\alpha^2 - 4}{\alpha^2} = \alpha^2 - \frac{4}{\alpha^2} \stackrel{(*)}{=} \alpha^2 - \beta^2 = (\alpha - \beta)(\alpha + \beta) \quad (**)$$

هم‌چنین با توجه به این‌که $\alpha < \beta$ است پس $\alpha - \beta < 0$ و در نتیجه:

$$\alpha - \beta = -\frac{\sqrt{\Delta}}{|a|}$$

$$\xrightarrow{(**)} \alpha^2 - \beta^2 = \left(-\frac{\sqrt{\Delta}}{|a|}\right)(S) \quad \text{پس:}$$

حالا با توجه به معادله $x^2 - 6x + 2 = 0$ حاصل را می‌یابیم:

$$\alpha^2 - \beta^2 = \left(-\frac{\sqrt{36 - 8}}{|1|}\right)(6) = (-2\sqrt{7})6 = -12\sqrt{7}$$

۱۰۵. **۳** جواب معادله است. پس در معادله صدق می‌کند:

$$\alpha^2 - \alpha - 1 = 0 \Rightarrow \alpha^2 = \alpha + 1 \quad (*)$$

چون α^2 را لازم داریم، پس طرفین را در α ضرب می‌کنیم:

$$\alpha^3 = \alpha^2 + \alpha \xrightarrow{(*)} \alpha^3 = \alpha + 1 + \alpha \Rightarrow \alpha^3 = 2\alpha + 1 \quad (1)$$

β هم جواب معادله است، پس این هم در معادله صدق می‌کند:

$$\beta^2 - \beta - 1 = 0 \Rightarrow \beta^2 = \beta + 1 \quad (2)$$

از (1) و (2) حاصل عبارت را حساب می‌کنیم:

$$\alpha^3 + 2\beta^2 = 2\alpha + 1 + 2(\beta + 1) = 2\alpha + 1 + 2\beta + 2 = 2(\alpha + \beta) + 3$$

$\alpha + \beta$ هم که از معادله حساب می‌شود:

$$x^2 - x - 1 = 0 \Rightarrow \alpha + \beta = -\frac{b}{a} = -\frac{-1}{1} = 1$$

$$\Rightarrow \alpha^3 + 2\beta^2 = 2(\alpha + \beta) + 3 = 2(1) + 3 = 5$$

۱۰۶. **۲** ریشه‌ها را α و β در نظر می‌گیریم. یک ریشه (α) از نصف ریشه دیگر (β) ، 5 واحد بیشتر است:

$$\alpha = \frac{\beta}{2} + 5 \quad (*)$$

با توجه به معادله، جمع ریشه‌ها را داریم:

$$x^2 - 8x + m = 0 \Rightarrow \alpha + \beta = 8$$

$$\xrightarrow{(*)} \frac{\beta}{2} + 5 + \beta = 8 \Rightarrow \frac{3\beta}{2} = 3 \Rightarrow \beta = 2$$

$\beta = 2$ ریشه معادله است، پس در معادله صدق می‌کند:

$$\Rightarrow 2^2 - 8(2) + m = 0 \Rightarrow m = 12$$

$$x^2 - 6x + 2 = 0 \Rightarrow \begin{cases} S = \alpha + \beta = 6 \\ P = \alpha\beta = 2 \end{cases} \quad (*)$$

حالا حاصل عبارت داده شده را می‌یابیم:

$$\left(\alpha + \frac{1}{\alpha}\right)^2 + \left(\beta + \frac{1}{\beta}\right)^2 = \alpha^2 + \frac{1}{\alpha^2} + 2 + \beta^2 + \frac{1}{\beta^2} + 2$$

$$= (\alpha^2 + \beta^2) + \left(\frac{1}{\alpha^2} + \frac{1}{\beta^2}\right) + 4 = (\alpha^2 + \beta^2) + \left(\frac{\alpha^2 + \beta^2}{\alpha^2\beta^2}\right) + 4$$

$$= (S^2 - 2P) + \frac{S^2 - 2P}{P^2} + 4$$

$$\stackrel{(*)}{=} (36 - 4) + \frac{36 - 4}{4} + 4 = 32 + 8 + 4 = 44$$

۱۰۰. **۱** ریشه معادله است، پس آن را در معادله قرار می‌دهیم:

$$\alpha^2 - 2\alpha - 4 = 0 \Rightarrow \alpha^2 - 4 = 2\alpha \quad (*)$$

آهان! فوب شد. پس عبارت‌مون این شکلی می‌شه:

$$(\alpha^2 - 4)^2 + 4\beta^2 \stackrel{(*)}{=} (2\alpha)^2 + 4\beta^2 = 4\alpha^2 + 4\beta^2$$

$$= 4(\alpha^2 + \beta^2) = 4(S^2 - 2P)$$

S و P هم که از معادله داده شده حساب می‌شود:

$$x^2 - 2x - 4 = 0 \Rightarrow \begin{cases} S = -\frac{-2}{1} = 2 \\ P = \frac{-4}{1} = -4 \end{cases}$$

$$(\alpha^2 - 4)^2 + 4\beta^2 = 4(S^2 - 2P) = 4(2^2 - 2(-4))$$

پس:

$$= 4(4 + 8) = 48$$

۱۰۱. **۴** X_p ریشه معادله است پس در معادله صدق می‌کند:

$$x_p^2 + 2x_p - 1 = 0 \Rightarrow 2x_p - 1 = -x_p^2 \quad (*)$$

پس در عبارت خواسته شده داریم:

$$x_1^2 + (2x_p - 1)^2 \stackrel{(*)}{=} x_1^2 + (-x_p^2)^2 = x_1^2 + x_p^4$$

$$= (x_1^2 + x_p^2)^2 - 2x_1^2x_p^2 = (S^2 - 2P)^2 - 2P^2 \quad (**)$$

با توجه به معادله $x^2 + 2x - 1 = 0$ ، $S = -2$ ، $P = -1$ است.

$$\xrightarrow{(**)} (S^2 - 2P)^2 - 2P^2 = (-4 + 2)^2 - 2 = 34$$

در نتیجه:

۱۰۲. **۲** α و β ریشه‌های معادله هستند، پس در معادله صدق می‌کنند:

$$\text{ریشه است } \alpha: 2\alpha^2 - 4\alpha + 1 = 0 \xrightarrow{\div \alpha} 2\alpha - 4 + \frac{1}{\alpha} = 0$$

$$\Rightarrow 2\alpha + \frac{1}{\alpha} = 4 \Rightarrow \left(2\alpha + \frac{1}{\alpha}\right)^2 = (4)^2 = 16$$

$$\text{ریشه است } \beta: 2\beta^2 - 4\beta + 1 = 0 \Rightarrow 2\beta^2 - 4\beta = -1$$

$$\Rightarrow 2(\beta^2 - 2\beta) = -1 \Rightarrow \beta^2 - 2\beta = -\frac{1}{2}$$

$$\frac{\left(2\alpha + \frac{1}{\alpha}\right)^2}{\beta^2 - 2\beta} = \frac{16}{-\frac{1}{2}} = -32$$

بنابراین:

۱۰۳. **۴** α و β ریشه‌های معادله $x^2 + 2x - 4 = 0$ هستند، پس در معادله

صدق می‌کنند: $\alpha: \alpha^2 + 2\alpha - 4 = 0 \Rightarrow \alpha(\alpha + 2) = 4$

$$\Rightarrow \alpha + 2 = \frac{4}{\alpha}$$

$$\text{ریشه است } \beta: \beta^2 + 2\beta - 4 = 0 \Rightarrow \beta(\beta + 2) = 4$$



$$= \frac{-12 \pm \sqrt{40}}{4} = \frac{-12 \pm 2\sqrt{10}}{4} = \frac{-6 \pm \sqrt{10}}{2}$$

دقت کنید که چون $\frac{c}{a} < 0$ است، پس معادله حتماً دو ریشه حقیقی دارد.

۱۱۲. چون قطعاً به S و P احتیاج داریم همان اول S و P را پیدا کنیم:

$$x^2 - mx - 2 = 0 \Rightarrow \begin{cases} S = m \\ P = -2 \end{cases} (*)$$

رابطه‌ای که داریم را با S و P ساده‌تر می‌کنیم:

$$x_1 x_1^2 + 2x_1^2 x_2 = 4 \Rightarrow x_1 x_2 (x_1 + 2x_2) = 4$$

$$\Rightarrow \underbrace{x_1 x_2}_P (\underbrace{x_1 + x_2}_S + x_1) = 4$$

$$\xrightarrow{(*)} (-2)(m + x_1) = 4 \Rightarrow m + x_1 = -2 \Rightarrow x_1 = -2 - m$$

$x_1 = -2 - m$ ریشه معادله است پس در معادله صدق می‌کند، بنابراین به جای x های

$$\text{معادله } x^2 - mx - 2 = 0, x^2 - m(-2 - m) - 2 = 0 \text{ قرار می‌دهیم:}$$

$$(-2 - m)^2 - m(-2 - m) - 2 = 0$$

$$\Rightarrow 4 + m^2 + 4m + 2m + m^2 - 2 = 0$$

$$\Rightarrow 2m^2 + 6m + 2 = 0 \xrightarrow{:2} m^2 + 3m + 1 = 0$$

$$\Rightarrow m = \frac{-3 \pm \sqrt{3^2 - 4(1)(1)}}{2} = \frac{-3 \pm \sqrt{5}}{2}$$

پس با توجه به گزینه‌ها، $m = \frac{\sqrt{5} - 3}{2}$ جواب است.

۱۱۳. رابطه بین ریشه‌ها را به صورت زیر می‌نویسیم:

$$3\alpha^2 + 2\beta^2 = 12\sqrt{2} + 18$$

$$\Rightarrow \frac{3+2}{2}(\alpha^2 + \beta^2) + \frac{3-2}{2}(\alpha^2 - \beta^2) = 12\sqrt{2} + 18$$

$$\Rightarrow \frac{5}{2}(\alpha^2 + \beta^2) + \frac{1}{2}(\alpha - \beta)(\alpha + \beta) = 12\sqrt{2} + 18 (*)$$

با توجه به این‌که $\alpha < \beta$ ؛ بنابراین $\alpha - \beta < 0$ در نتیجه:

$$\alpha - \beta = -\frac{\sqrt{\Delta}}{|x^2 \text{ ضریب } x^2|}$$

$$\xrightarrow{(*)} \frac{5}{2}(S^2 - 2P) + \frac{1}{2}\left(-\frac{\sqrt{\Delta}}{1}\right)(S) = 12\sqrt{2} + 18$$

با توجه به معادله $S = -6$ و $P = a$ در نتیجه:

$$\frac{5}{2}(36 - 2a) + 3\sqrt{\Delta} = 12\sqrt{2} + 18$$

با توجه به گزینه‌ها، a مقداری گویاست؛ پس باید:

$$\begin{cases} \frac{5}{2}(36 - 2a) = 18 \Rightarrow a = 1 \\ 3\sqrt{\Delta} = 12\sqrt{2} \end{cases}$$

۱۱۴. با توجه به معادله:

$$S = \alpha + \beta = -\frac{-6}{1} = 6, P = \alpha\beta = \frac{k}{1} = k, (\beta - \alpha) = \frac{\sqrt{36 - 4k}}{1}$$

$$\beta^2 - 2\alpha^2 = -\frac{1}{2}(\alpha^2 + \beta^2) - \frac{3}{2}(\alpha^2 - \beta^2)$$

$$= -\frac{1}{2}(S^2 - 2P) - \frac{3}{2}(\alpha - \beta)(\alpha + \beta)$$

$$= -\frac{1}{2}(36 - 2k) - \frac{3}{2}(-\sqrt{36 - 4k})(6) = -18 + k + 18\sqrt{9 - k}$$

$$= 18\sqrt{2} - 11 \Rightarrow k = 2$$

۱۰۷. ۲. ریشه‌ها را α و β در نظر می‌گیریم:

یک ریشه (α) از سه برابر ریشه دیگر (β) سه واحد بیشتر است:

$$\alpha = 3\beta + 3 (*)$$

$$3x^2 - 17x + m = 0 \Rightarrow \alpha + \beta = \frac{17}{3}$$

جمع ریشه‌ها را داریم:

$$\xrightarrow{(*)} 3\beta + 3 + \beta = \frac{17}{3} \Rightarrow 4\beta = \frac{17}{3} - 3 = \frac{4}{3}$$

$$\Rightarrow \beta = \frac{1}{3} \xrightarrow{(*)} \alpha = 3\beta + 3 = 3\left(\frac{1}{3}\right) + 3 = 5$$

$\alpha = 5$ ریشه معادله است، پس در معادله صدق می‌کند:

$$3(5)^2 - 17(5) + m = 0 \Rightarrow m = 10$$

می‌توانستید همان $\beta = \frac{1}{3}$ را در معادله قرار دهید، اما چون کسری بود کمی محاسباتش سخت می‌شد.

۱۰۸. ۱. با توجه به معادله داریم:

$$P = \alpha\beta = \frac{c}{a} \Rightarrow \alpha\beta = 4$$

با توجه به رابطه $\alpha\beta^2 + 4 = 0$ داریم:

$$(\alpha\beta)(\beta) + 4 = 0 \xrightarrow{\alpha\beta=4} 4\beta + 4 = 0 \Rightarrow \beta = -1$$

$\beta = -1$ ریشه معادله است، پس در معادله صدق می‌کند:

$$(-1)^2 - 3m(-1) + 4 = 0 \Rightarrow 1 + 3m + 4 = 0 \Rightarrow m = -\frac{5}{3}$$

۱۰۹. ۳. یکی از ریشه‌ها (α) از مجذور ریشه دیگر (β) ۴ واحد کم‌تر است؛

$$\alpha = \beta^2 - 4 (*)$$

یعنی:

از طرفی با توجه به معادله:

$$\alpha + \beta = -\frac{b}{a} = -\frac{-2a}{a} \Rightarrow \alpha + \beta = 2 \xrightarrow{(*)} \beta^2 - 4 + \beta = 2$$

$$\Rightarrow \beta^2 + \beta - 6 = 0 \Rightarrow (\beta - 2)(\beta + 3) = 0$$

$$\Rightarrow \begin{cases} \beta = 2 \xrightarrow{(*)} \alpha = 0 \\ \beta = -3 \xrightarrow{(*)} \alpha = 5 \end{cases}$$

۱۱۰. ۲. اول معادله را مرتب می‌کنیم:

$$x(x - m) = m^2 + 1 \Rightarrow x^2 - mx - m^2 - 1 = 0$$

با توجه به معادله حاصل ضرب ریشه‌ها برابر $-\frac{c}{a} = -m^2 - 1$ است و با توجه به

این‌که $-m^2 - 1 < 0$ پس $\frac{c}{a} < 0$ است. در نتیجه یکی از ریشه‌ها مثبت و ریشه دیگر منفی است. فرض کنیم $\alpha > 0$ و $\beta < 0$ است، بنابراین:

$$|\alpha| - |\beta| = 4 \Rightarrow |\alpha - (-\beta)| = 4 \Rightarrow |\alpha + \beta| = 4$$

$$\xrightarrow{\text{با توجه به معادله}} |m| = 4 \Rightarrow m = \pm 4$$

با توجه به گزینه‌ها $m = -4$ قابل قبول است.

$$111. ۴. \begin{cases} S = \alpha + \beta = -m \\ P = \alpha\beta = -3 \end{cases}$$

رابطه بین ریشه‌ها به صورت $2\alpha + \beta = 4$ است، پس:

$$\alpha + \underbrace{\alpha + \beta}_S = 4 \Rightarrow \alpha - m = 4 \Rightarrow \alpha = m + 4$$

α ریشه معادله است، پس در معادله صدق می‌کند:

$$x^2 + mx - 3 = 0 \xrightarrow{\alpha=m+4} (m+4)^2 + m(m+4) - 3 = 0$$

$$\Rightarrow m^2 + 8m + 16 + m^2 + 4m - 3 = 0$$

$$\Rightarrow 2m^2 + 12m + 13 = 0 \Rightarrow m = \frac{-12 \pm \sqrt{144 - 4(2)(13)}}{2(2)}$$

۱۱۵. ۲ برای این که ریشه‌های معادله معکوس هم باشند، باید $a = c$ و $\Delta > 0$

باشد؛ پس اول a را برابر c قرار می‌دهیم. m ها را پیدا می‌کنیم. بعد بررسی می‌کنیم به ازای کدام مقدار $m > 0$ است. فقط قبلش باید معادله را مرتب کنیم:

$$mx^2 + 3x + m^2 = 2 \Rightarrow mx^2 + 3x + m^2 - 2 = 0 \quad (*)$$

$$a = c \Rightarrow m = m^2 - 2 \Rightarrow m^2 - m - 2 = 0$$

$$\xrightarrow{a+c=b} \begin{cases} m = -1 \\ m = 2 \end{cases}$$

در معادله (*) قرار می‌دهیم:

$$\begin{cases} -x^2 + 3x - 1 = 0 \Rightarrow \Delta > 0 \Rightarrow m = -1 \text{ قابل قبول است.} \\ 2x^2 + 3x + 2 = 0 \Rightarrow \Delta < 0 \text{ (غیر قابل قبول)} \end{cases}$$

۱۱۶. ۳ یکی از ریشه‌ها (α)، مجذور دیگری (β) است. (*) $\alpha = \beta^2$ با توجه به معادله، مقدار $\alpha + \beta$ را داریم:

$$\alpha + \beta = -\frac{b}{a} \Rightarrow \alpha + \beta = 6 \xrightarrow{(*)} \beta^2 + \beta = 6$$

$$\Rightarrow \beta^2 + \beta - 6 = 0 \Rightarrow (\beta + 3)(\beta - 2) = 0$$

$$\Rightarrow \begin{cases} \beta = -3 \xrightarrow{\text{در معادله صدق می‌کند}} (-3)^2 - 6(-3) + 5 + m = 0 \\ \Rightarrow 9 + 18 + 5 + m = 0 \Rightarrow m = -32 \\ \beta = 2 \xrightarrow{\text{در معادله صدق می‌کند}} 2^2 - 6(2) + 5 + m = 0 \\ \Rightarrow 4 - 12 + 5 + m = 0 \Rightarrow m = 3 \end{cases}$$

با توجه به گزینه‌ها، $m = -32$ است.

۱۱۷. ۴ ریشه‌های معادله را α و β در نظر می‌گیریم:

$$\frac{1}{\alpha} + \frac{1}{\beta} = \frac{\alpha + \beta}{\alpha\beta} \Rightarrow \alpha + \beta = \frac{1}{4}$$

با توجه به معادله:

$$\alpha + \beta = -\frac{b}{a} = -\frac{-3}{m^2 - 4} \Rightarrow \frac{1}{4} = \frac{3}{m^2 - 4}$$

$$\Rightarrow m^2 - 4 = 12 \Rightarrow m^2 = 16 \Rightarrow m = \pm 4$$

باید بررسی کنیم به ازای کدام مقدار m ، Δ مثبت است (در معادله $m = 4$: $(m^2 - 4)x^2 - 3x + m = 0$ قرار می‌دهیم):

$$\text{در معادله } m = 4: 12x^2 - 3x + 4 = 0$$

$$\xrightarrow{\Delta < 0} m = 4 \text{ قابل قبول نیست.} \Rightarrow \text{معادله ریشه ندارد}$$

پس $m = -4$ است.

یادآوری: اگر k واسطه حسابی دو عدد a و b باشد، آن‌گاه $k = \frac{a+b}{2}$ است.

۱۱۸. ۲ طبق معمول ریشه‌ها را α و β در نظر می‌گیریم:

$$\alpha\beta = 2 \Rightarrow (\sqrt{2})^2 = \alpha\beta \Rightarrow \alpha\beta = 2$$

با توجه به معادله، $\alpha\beta = \frac{c}{a} = \frac{m^2 - 3}{m}$. در نتیجه:

$$\frac{m^2 - 3}{m} = 2 \Rightarrow m^2 - 3 = 2m \Rightarrow m^2 - 2m - 3 = 0$$

$$\xrightarrow{a+c=b} \begin{cases} m = -1 \\ m = 3 \end{cases}$$

طبق معمول باید چک کنیم به ازای کدام مقدار m ، $\Delta > 0$ است:

$$\text{در معادله } m = -1: -x^2 - 5x - 2 = 0$$

$$\xrightarrow{\Delta > 0} m = -1 \text{ قابل قبوله}$$

یادآوری: اگر k واسطه هندسی a و b باشد، آن‌گاه $k^2 = ab$.

۱۱۹. ۴ α و β ریشه‌های معادله زیر هستند:

$$x^2 + 2(a+1)x + 2a - 1 = 0$$

$$\begin{cases} S = \frac{-B}{A} \Rightarrow \alpha + \beta = -2(a+1) \\ P = \frac{C}{A} \Rightarrow \alpha\beta = 2a - 1 \end{cases} \text{ پس:}$$

سه عدد α ، β و a ، جملات متوالی دنباله هندسی‌اند؛ پس مربع وسطی با حاصل ضرب اولی و سومی برابر است:

$$a^2 = \alpha\beta \xrightarrow{\text{از P کمک می‌گیریم}} a^2 = 2a - 1 \Rightarrow a^2 - 2a + 1 = 0$$

$$\Rightarrow (a-1)^2 = 0 \Rightarrow a = 1$$

۱۲۰. ۱ $\alpha^2 + \beta^2 = 6$: مجموع مربعات ریشه‌ها برابر ۶ است.

$$\Rightarrow S^2 - 2P = 6 \quad (*)$$

مقادیر S و P را از معادله داده‌شده محاسبه می‌کنیم:

$$mx^2 - (m+3)x + 5 = 0 \Rightarrow \begin{cases} \text{مجموع ریشه‌ها: } S = \frac{m+3}{m} \\ \text{حاصل ضرب ریشه‌ها: } P = \frac{5}{m} \end{cases}$$

$$\xrightarrow{(*)} \left(\frac{m+3}{m}\right)^2 - 2\left(\frac{5}{m}\right) = 6 \Rightarrow \frac{(m+3)^2}{m^2} - \frac{10}{m} = 6$$

$$\xrightarrow{\times m^2} (m+3)^2 - 10m = 6m^2$$

$$\Rightarrow m^2 + 6m + 9 - 10m = 6m^2$$

$$\Rightarrow m^2 - 4m + 9 = 6m^2 \Rightarrow 5m^2 + 4m - 9 = 0$$

جمع ضرایب صفر است، پس: $m = 1$ ، $m = -\frac{9}{5}$

حالا باید بررسی کنیم به ازای کدام مقدار m ، معادله دو ریشه حقیقی دارد یعنی دلتای آن مثبت است. از مقدار راحت‌تر! شروع می‌کنیم:

$$\text{در معادله } m = 1: x^2 - 4x + 5 = 0$$

$$\xrightarrow{\Delta < 0} m = 1 \text{ قابل قبول نیست.} \Rightarrow \text{معادله ریشه ندارد.}$$

پس با توجه به گزینه‌ها $m = -\frac{9}{5}$ قابل قبول است.

۱۲۱. ۲

تساوی $7 = \alpha^2 + \beta^2 - 4\alpha$ را با شکستن $2\alpha^2$ ، ساده‌تر می‌نویسیم:

$$\alpha^2 + \alpha^2 + \beta^2 - 4\alpha = 7 \Rightarrow \underbrace{(\alpha^2 + \beta^2)}_{S^2 - 2P} + \underbrace{(\alpha^2 - 4\alpha)}_{\text{از روی معادله!}} = 7$$

طرفین معادله $0 = a - 12x - 3x^2$ را به ۳ تقسیم می‌کنیم: $x^2 - 4x = \frac{a}{3}$

$\alpha^2 - 4\alpha = \frac{a}{3}$: ریشه معادله است، پس می‌تواند جای x بیاید:

$$\begin{cases} S = \frac{-B}{A} = \frac{12}{3} = 4 \\ P = \frac{C}{A} = \frac{-a}{3} \end{cases} \text{ و } S \text{ و } P \text{ معادله را هم حساب می‌کنیم:}$$

سراغ تساوی اولمان می‌رویم:

$$\underbrace{(\alpha^2 + \beta^2)}_{S^2 - 2P} + \underbrace{(\alpha^2 - 4\alpha)}_{\frac{a}{3}} = 7 \Rightarrow 4^2 - 2\left(\frac{-a}{3}\right) + \frac{a}{3} = 7$$

$$\Rightarrow 16 + \frac{2a}{3} + \frac{a}{3} = 7 \Rightarrow 16 + a = 7 \Rightarrow a = -9$$



$$\Rightarrow \begin{cases} \frac{c}{a} < 0 \Rightarrow \frac{2m-2}{1} < 0 \Rightarrow 2m < 2 \Rightarrow m < 1 \\ -\frac{b}{a} < 0 \Rightarrow -\frac{m}{1} < 0 \Rightarrow m > 0 \end{cases}$$

$$\xrightarrow{\text{اشتراک}} 0 < m < 1$$

۱۲۵. ۴ برای این که معادله دو ریشه قرینه داشته باشد باید b (ضریب x) برابر صفر باشد (شرط $\Delta > 0$ یا داشتن دو ریشه بررسی شود):

$$m^2 - 1 = 0 \Rightarrow m = \pm 1$$

$$\Rightarrow \begin{cases} \text{ریشه ندارد.} \\ m = 1: -2x^2 - 1 = 0 \\ m = -1: -4x^2 + 1 = 0 \Rightarrow x^2 = \frac{1}{4} \\ \Rightarrow x = \pm \frac{1}{2} \Rightarrow \alpha = \frac{1}{2}, \beta = -\frac{1}{2} \end{cases}$$

$$2\alpha^2 + \beta^2 = 2\left(\frac{1}{2}\right)^2 + \left(-\frac{1}{2}\right)^2 = \frac{1}{2} + \frac{1}{4} = \frac{3}{4} \quad \text{بنابراین:}$$

$$(x+2)(x^2 - x + m) = 0 \quad \text{۱۲۶. ۳}$$

$$\Rightarrow \begin{cases} x+2=0 \Rightarrow x=-2 \\ x^2 - x + m = 0 \quad (\text{ریشه‌ها را } \alpha \text{ و } \beta \text{ در نظر می‌گیریم.}) \end{cases}$$

حاصل ضرب سه ریشه برابر ۶ است:

$$(-2)(\alpha)(\beta) = 6 \Rightarrow \alpha\beta = -3 \quad (*)$$

$\alpha\beta = \frac{c}{a} = m$ حاصل ضرب ریشه‌های معادله $x^2 - x + m = 0$ است، پس

$$\alpha\beta = m \xrightarrow{(*)} -3 = m \quad \text{است در نتیجه:}$$

۱۲۷. ۳ از $\alpha + \beta = 1$ و $\alpha\beta = -2$ ، نتیجه می‌گیریم $\alpha = 2$ و $\beta = -1$ (یا برعکس). $\beta = -1$ ریشه معادله $4x^2 + kx^2 - 9x - 2 = 0$ است؛ پس در آن صدق می‌کند:

$$4(-1)^2 + k(-1)^2 - 9(-1) - 2 = 0 \Rightarrow -4 + k + 9 - 2 = 0 \Rightarrow k = -3$$

۱۲۸. ۲ یکی از ریشه‌های معادله ۲ است، پس در معادله صدق می‌کند:

$$\Rightarrow 2(a(2)^2 - 2 - 5) = 2 \Rightarrow 4a - 7 = 1 \Rightarrow 4a = 8 \Rightarrow a = 2$$

$$\Rightarrow 2(2x^2 - x - 5) = 2 \Rightarrow 2x^2 - x^2 - 5x - 2 = 0$$

چون $x = 2$ ریشه است، پس عبارت $2x^2 - x^2 - 5x - 2$ یک عامل $x - 2$ دارد. در نتیجه با تقسیم عبارت بر $x - 2$ عامل‌های دیگر را می‌یابیم:

$$\begin{array}{r} 2x^2 - x^2 - 5x - 2 \quad | \quad x - 2 \\ -(2x^2 - 4x^2) \quad \quad \quad 2x^2 + 3x + 1 \\ \hline 3x^2 - 5x \\ -(3x^2 - 6x) \\ \hline x - 2 \\ -(x - 2) \\ \hline 0 \end{array}$$

$$\Rightarrow 2x^2 - x^2 - 5x - 2 = (x - 2)(2x^2 + 3x + 1)$$

ریشه‌های دیگر از حل معادله $2x^2 + 3x + 1 = 0$ به دست می‌آیند.

$$\text{پس مجموع دو ریشه دیگر برابر } -\frac{3}{2} = -\frac{b}{a} \text{ است.}$$

با جای گذاری $a = -9$ ، معادله به شکل $3x^2 - 12x + 9 = 0$ درمی‌آید. آن را حل می‌کنیم:

$$\xrightarrow{\div 3} x^2 - 4x + 3 = 0 \Rightarrow (x-1)(x-3) = 0$$

$$\xrightarrow{\text{ریشه بزرگ}} x = 3$$

نسبت a به ریشه بزرگ برابر است با: $-\frac{9}{3} = -3$

۱۲۲. ۴ از تقسیم طرفین تساوی $ax^2 - ax - b = 0$ بر a داریم:

$$x^2 - x - \frac{b}{a} = 0 \xrightarrow{\frac{-b}{a}=c} x^2 - x + c = 0$$

مجموع و حاصل ضرب ریشه‌ها را می‌نویسیم:

$$\begin{cases} S = \frac{-B}{A} = 1 \\ P = \frac{C}{A} = c \end{cases}$$

$x = \beta$ ریشه معادله $x^2 - x + c = 0$ است؛ پس حق داریم جای x ها، β قرار

$$\beta^2 - \beta + c = 0 \Rightarrow \beta = \beta^2 + c \quad \text{دهیم:}$$

در تساوی $17 = 2\alpha^2 + 2\alpha\beta - 2\beta = 4\alpha^2 + 2\alpha\beta^2 + 2\alpha\beta - 2\beta$ ، جای β مشخص شده، عبارت $\beta^2 + c$ قرار می‌دهیم:

$$4\alpha^2 + 2\alpha\beta^2 + 2\alpha\beta - 2\beta = 17 \Rightarrow 2\alpha^2 + 2\alpha\beta^2 - 2\beta = 17$$

$$\Rightarrow 2\alpha(\alpha^2 + \beta^2) = 2\alpha c + 17 \Rightarrow 2\alpha(1 - 2c) = 2\alpha c + 17$$

$$\Rightarrow 2\alpha - 4\alpha c = 2\alpha c + 17 \Rightarrow 6\alpha c = 3 \Rightarrow c = \frac{1}{2}$$

در نتیجه معادله اولیه به صورت $x^2 - x + \frac{1}{2} = 0$ بوده است. اختلاف ریشه‌های معادله را حساب می‌کنیم:

$$|\alpha - \beta| = \frac{\sqrt{\Delta}}{|A|} = \frac{\sqrt{(-1)^2 - 4(1)\left(\frac{1}{2}\right)}}{1} = \sqrt{\frac{1}{5}} = \frac{1}{\sqrt{5}}$$

۱۲۳. ۳ معادله $2x^2 - 4x + m - 3 = 0$ دو ریشه مثبت دارد. پس باید شرایط زیر برقرار باشد:

$$\begin{cases} 1) \Delta > 0 \Rightarrow 16 - 4(2)(m-3) > 0 \\ \xrightarrow{\div (-8)} m - 3 - 2 < 0 \Rightarrow m < 5 \\ 2) \frac{c}{a} > 0 \Rightarrow \frac{m-3}{2} > 0 \Rightarrow m > 3 \\ 3) -\frac{b}{a} > 0 \Rightarrow \frac{4}{2} > 0 \Rightarrow 2 > 0 \quad (\text{همواره برقرار است.}) \end{cases}$$

۱۲۴. ۴ چون معادله یک ریشه مثبت و یک ریشه منفی دارد پس حاصل ضرب

ریشه‌ها منفی است یعنی $\frac{c}{a} < 0$ ؛ وقتی هم $\frac{c}{a}$ منفی باشد قطعاً $\Delta > 0$ است. از

طرفی، ریشه مثبت از قدرمطلق ریشه منفی کوچک‌تر است (یعنی مثلاً ریشه مثبت،

۲ و ریشه منفی، -۳ است که $|-3| < 2$ شده) پس جمع ریشه‌ها منفی است، یعنی $-\frac{b}{a} < 0$. اگر همین دوتا شرط را چک کنیم فواسته مسئله اهرایی می‌شه! فقط اول

$$\text{معادله را مرتب کنیم: } x^2 + m(x+2) = 2 \Rightarrow x^2 + mx + 2m - 2 = 0$$

نکته: در معادله درجه سوم $ax^3 + bx^2 + cx + d = 0$ ، اگر معادله سه ریشه

$$\begin{cases} x_1 + x_2 + x_3 = -\frac{b}{a} \\ (x_1)(x_2)(x_3) = -\frac{d}{a} \end{cases}$$

داشته باشد، آن گاه:

پس در معادله $2x^3 - x^2 - 5x - 2 = 0$ ، مجموع سه ریشه برابر است با:

$$x_1 + x_2 + x_3 = -\frac{-1}{2} = \frac{1}{2}$$

$$\xrightarrow[\text{یک ریشه 2 است.}]{x_1=2} 2 + x_2 + x_3 = \frac{1}{2} \Rightarrow x_2 + x_3 = -\frac{3}{2}$$

پس مجموع دو ریشه دیگر $-\frac{3}{2}$ است.

۱۲۹. **۱** در معادله از یک X فاکتور می‌گیریم تا به فرم ساده‌تری تبدیل شود:

$$x^2 + (x^2 - x)(x + 1 - m) = 0$$

$$\Rightarrow x(x^2 + (x-1)(x+1-m)) = 0$$

$$\Rightarrow x(x^2 + (x^2 - 1 - mx + m)) = 0$$

$$\Rightarrow x(2x^2 - mx + m - 1) = 0$$

$$\Rightarrow \begin{cases} x = 0 \\ 2x^2 - mx + m - 1 = 0 \quad (*) \end{cases}$$

فرض کنیم ریشه‌های معادله $2x^2 - mx + m - 1 = 0$ ، α و β باشد. با توجه به این که مجذور ریشه‌ها برابر ۴ است، پس:

$$\alpha^2 + \alpha^2 + \beta^2 = 4 \Rightarrow \alpha^2 + \beta^2 = 4 \Rightarrow S^2 - 2P = 4 \quad (**)$$

با توجه به معادله $2x^2 - mx + m - 1 = 0$ ، $S = \frac{m}{2}$ و $P = \frac{m-1}{2}$ است، بنابراین:

$$\xrightarrow{(**)} \frac{m^2}{4} - 2\left(\frac{m-1}{2}\right) = 4 \Rightarrow \frac{m^2}{4} - m + 1 = 4$$

$$\xrightarrow{\times 4} m^2 - 4m + 4 = 16 \Rightarrow m^2 - 4m - 12 = 0$$

$$\Rightarrow (m-6)(m+2) = 0$$

$$\Rightarrow \begin{cases} m=6 \xrightarrow{\text{در معادله } (*)} 2x^2 - 6x + 5 = 0 \\ \Delta < 0 \rightarrow \text{ریشه حقیقی ندارد} \\ m=-2 \xrightarrow{\text{در معادله } (*)} 2x^2 + 2x - 3 = 0 \\ \Delta > 0 \rightarrow \text{قابل قبول} \end{cases}$$

پس $m = -2$ قابل قبول است.

$$(x+2)(x^2 + ax + 2) = 0 \quad ۱۳۰. ۲$$

$$\Rightarrow \begin{cases} x+2=0 \Rightarrow x=-2 \\ x^2 + ax + 2 = 0 \text{ (ریشه‌ها را } \alpha \text{ و } \beta \text{ در نظر می‌گیریم.)} \end{cases}$$

مجموع معکوس مربعات ریشه‌ها برابر $-\frac{a}{2}$ است. پس با توجه به این که ریشه‌ها، -2 ، α و β هستند داریم:

$$\frac{1}{(-2)^2} + \frac{1}{\alpha^2} + \frac{1}{\beta^2} = -\frac{a}{2}$$

$$\Rightarrow \frac{1}{4} + \frac{\alpha^2 + \beta^2}{\alpha^2 \beta^2} = \frac{1}{4} + \frac{S^2 - 2P}{P^2} = -\frac{a}{2} \quad (*)$$

S و P را از معادله $x^2 + ax + 2 = 0$ محاسبه می‌کنیم:

$$\begin{cases} S = -a \\ P = 2 \end{cases} \xrightarrow{(*)} \frac{1}{4} + \frac{(-a)^2 - 2(2)}{2^2} = -\frac{a}{2}$$

$$\Rightarrow \frac{1+a^2-4}{4} = -\frac{a}{2}$$

$$a^2 - 3 = -2a \quad \text{طرفین معادله را در ۴ ضرب می‌کنیم:}$$

$$a^2 + 2a - 3 = 0 \Rightarrow (a-1)(a+3) = 0 \Rightarrow \begin{cases} a=1 \\ a=-3 \end{cases}$$

اما به ازای $a=1$ معادله $x^2 + ax + 2 = 0$ ریشه حقیقی ندارد. (دلالتش منفی می‌شود). پس $a = -3$.

۱۳۱. **۴ روش** مجموع ضرایب معادله صفر است؛ پس یک ریشه $x-1$ معادله یک است. در نتیجه عبارت $x^2 + x - 1$ یک عامل $x-1$ دارد. پس عبارت را بر $x-1$ تقسیم می‌کنیم و عامل‌های دیگر را پیدا می‌کنیم:

$$\begin{array}{r} x^2 - 2x + 1 \\ -(x^2 - x - 1) \\ \hline x^2 - 2x \\ -(x^2 - x) \\ \hline -x + 1 \\ -(-x + 1) \\ \hline 0 \end{array}$$

$$\Rightarrow x^2 - 2x + 1 = 0 \Rightarrow (x-1)(x^2 + x - 1) = 0$$

$$\Rightarrow \begin{cases} x-1=0 \Rightarrow x=1 \text{ (یک ریشه مثبت)} \\ x^2 + x - 1 = 0 \xrightarrow{\frac{c}{a} = -1 < 0} \end{cases}$$

یک ریشه مثبت و یک ریشه منفی دارد

پس در مجموع، معادله دو ریشه مثبت و یک ریشه منفی دارد. دقت کنید، چون $x=1$ ریشه معادله $x^2 + x - 1 = 0$ نیست، پس طبق نکته زیر، معادله ریشه مضاعف ندارد.

نکته: معادله $(x-a)^2 = 0$ ریشه مضاعف دارد.

معادله $ax^2 + bx + c = 0$ زمانی ریشه مضاعف دارد که $\Delta = 0$.

روش ۲ برای تجزیه عبارت $x^2 - 2x + 1$ می‌توانید این طوری هم عمل کنید:

$$x^2 - 2x + 1 = 0 \Rightarrow x^2 - x - x + 1 = 0$$

$$\Rightarrow (x^2 - x) - (x - 1) = 0 \Rightarrow x(x - 1) - (x - 1) = 0$$

$$\Rightarrow x(x-1)(x+1) - (x-1) = 0 \Rightarrow (x-1)(x^2 + x - 1) = 0$$

۱۳۲. **۳** با توجه به معادله، $x=1$ یک ریشه معادله است (چون در معادله صدق می‌کند). بنابراین عبارت $x^2 - 5x + 4$ یک عامل $(x-1)$ دارد. با تقسیم $x^2 - 5x + 4$ بر $x-1$ خواهیم داشت:

$$x^2 - 5x + 4 = (x-1)(x^2 + x - 4) = 0 \Rightarrow \begin{cases} x=1 \\ x^2 + x - 4 = 0 \end{cases}$$

فرض کنیم $\alpha = 1$ باشد پس ریشه‌های β و γ ریشه‌های معادله $x^2 + x - 4 = 0$ هستند. در نتیجه:

$$S = \beta + \gamma = -1, P = \beta\gamma = -4$$

حالا حاصل عبارت $\frac{1}{\alpha^2} + \frac{1}{\beta^2} + \frac{1}{\gamma^2}$ را می‌یابیم:

$$\begin{aligned} \frac{1}{\alpha^2} + \frac{1}{\beta^2} + \frac{1}{\gamma^2} &= \frac{1}{1^2} + \frac{\gamma^2 + \beta^2}{\beta^2 \gamma^2} = 1 + \frac{S^2 - 2P}{P^2} \\ &= 1 + \frac{(-1)^2 - 2(-4)}{(-4)^2} = 1 + \frac{9}{16} = \frac{25}{16} \end{aligned}$$



۱۳۳۱. معادله را مرتب می‌کنیم:

$$x^2 + (a-1)x^2 + (4-a)x - 4 = 0$$

مجموع ضرایب معادله صفر است ($1+a-1+4-a-4=0$)؛ پس یک ریشه معادله $x=1$ است. با تقسیم عبارت $x^2 + (a-1)x^2 + (4-a)x - 4$ بر $x-1$ سایر عامل‌ها را پیدا می‌کنیم:

$$\begin{array}{r} x^2 + (a-1)x^2 + (4-a)x - 4 \quad | \quad x-1 \\ \underline{-(x^2 - x^2)} \\ ax^2 + (4-a)x - 4 \\ \underline{-(ax^2 - ax)} \\ (4-a)x - 4 \\ \underline{-(4x - 4)} \\ 0 \end{array}$$

با توجه به تقسیم، تجزیه معادله به صورت زیر نوشته می‌شود:

$$\text{معادله: } (x-1)(x^2 + ax + 4) = 0$$

$$\Rightarrow \begin{cases} x-1=0 \Rightarrow x=1 \text{ (یک ریشه مثبت)} \\ x^2 + ax + 4=0 \end{cases}$$

برای این که معادله سه ریشه مثبت داشته باشد باید ریشه‌های معادله $x^2 + ax + 4 = 0$ هم مثبت باشند. پس باید سه شرط زیر برقرار باشند:

$$\begin{cases} \Delta > 0 \Rightarrow a^2 - 16 > 0 \Rightarrow a^2 > 16 \Rightarrow a > 4 \text{ یا } a < -4 \\ \frac{c}{a} > 0 \Rightarrow \frac{4}{1} > 0 \Rightarrow \text{همواره برقرار} \\ -\frac{b}{a} > 0 \Rightarrow -\frac{a}{1} > 0 \Rightarrow a < 0 \\ \text{اشتراک} \rightarrow a < -4 \end{cases}$$

اما به اشکال کوهپولو دارد این تست! اگر $a = -5$ باشد معادله به صورت زیر می‌شود:

$$(x-1)(x^2 - 5x + 4) = 0 \Rightarrow (x-1)(x-1)(x-4) = 0$$

$$\Rightarrow (x-1)^2(x-4) = 0 \Rightarrow x = 1, 4$$

که در این حالت معادله دوتا ریشه دارد نه سه‌تا. پس جواب دقیق‌تر این سؤال به صورت مقابل است: $a < -4, a \neq -5$

۱۳۳۳. مجموع و حاصل ضرب ریشه‌ها را می‌یابیم و سپس معادله را می‌نویسیم:

$$S = \left(-\frac{1}{2}\right) + \frac{1}{3} = -\frac{1}{6} \quad \xrightarrow{x^2 - Sx + P = 0} \quad x^2 + \frac{1}{6}x - \frac{1}{6} = 0$$

$$P = \left(-\frac{1}{2}\right)\left(\frac{1}{3}\right) = -\frac{1}{6}$$

$$\xrightarrow{\times 6} \quad 6x^2 + x - 1 = 0 \Rightarrow \begin{matrix} \text{ضریب } x^2 \\ \text{ضریب } x \end{matrix}$$

۱۳۳۵. چون ضرایب گویا هستند و یک ریشه $\frac{1-\sqrt{3}}{2}$ است، پس ریشه

دیگر $\frac{1+\sqrt{3}}{2}$ است. در نتیجه:

$$S = \frac{1+\sqrt{3}}{2} + \frac{1-\sqrt{3}}{2} = 1 \Rightarrow \text{معادله: } x^2 - x - \frac{1}{2} = 0$$

$$P = \left(\frac{1+\sqrt{3}}{2}\right)\left(\frac{1-\sqrt{3}}{2}\right) = -\frac{1}{2}$$

$$\xrightarrow{\times 2} \quad 2x^2 - 2x - 1 = 0 \Rightarrow a + b = -3$$

۱۳۳۶. ۲ طول مستطیل را با α و عرض آن را با β نشان می‌دهیم. پس:

$$\text{محیط} = 20 \Rightarrow 2(\alpha + \beta) = 20 \Rightarrow \alpha + \beta = 10 = S$$

$$\text{مساحت} = 24 \Rightarrow \alpha\beta = 24 = P$$

پس معادله را تشکیل می‌دهیم:

$$\text{معادله: } x^2 - 10x + 24 = 0 \Rightarrow (x-6)(x-4) = 0$$

$$\Rightarrow x_1 = 6, x_2 = 4$$

چون طول مستطیل بزرگ‌تر از عرض آن است، بنابراین $\alpha = 6$ و در نتیجه با توجه به تساوی $\alpha + \beta = 10$ ، $\beta = 4$ است. پس طول مستطیل ۲ واحد از عرض آن بیشتر است.

۱۳۳۷. ۲ روش معادله $3x^2 + 7x + 1 = 0$ را معادله اولیه و ریشه‌هایش را α و β در نظر می‌گیریم.

ریشه‌های معادله $x^2 + ax + b = 0$ یک واحد از ریشه‌های معادله $3x^2 + 7x + 1 = 0$ بیشتر است. پس ریشه‌های معادله جدید به صورت $\alpha + 1$ و $\beta + 1$ هستند. برای محاسبه b ، حاصل ضرب ریشه‌های معادله جدید را باید محاسبه کنیم (حاصل ضرب ریشه‌های معادله جدید، b است):

$$P' = (\alpha + 1)(\beta + 1) \Rightarrow \frac{b}{1} = \alpha\beta + \alpha + \beta + 1 \quad (*)$$

$\alpha + \beta$ و $\alpha\beta$ حاصل ضرب و مجموع ریشه‌های معادله $3x^2 + 7x + 1 = 0$ هستند؛ پس:

$$\begin{cases} \alpha + \beta = -\frac{7}{3} \\ \alpha\beta = \frac{1}{3} \end{cases} \xrightarrow{(*)} b = \frac{1}{3} - \frac{7}{3} + 1 = -1$$

۲ روش ریشه معادله اولیه را با x و ریشه معادله جدید را با X نمایش می‌دهیم. با توجه به رابطه بین ریشه‌ها داریم:

$$X = x + 1 \Rightarrow x = X - 1$$

با جای گذاری این تساوی در معادله اولیه، معادله جدید را می‌یابیم:

$$\xrightarrow{3x^2 + 7x + 1 = 0} \quad 3(X-1)^2 + 7(X-1) + 1 = 0$$

$$\Rightarrow 3(X^2 - 2X + 1) + 7X - 7 + 1 = 0$$

$$\Rightarrow 3X^2 - 6X + 3 + 7X - 7 + 1 = 0$$

$$\Rightarrow 3X^2 + X - 3 = 0 \xrightarrow{\div 3} X^2 + \frac{1}{3}X - 1 = 0$$

پس: $b = -1$

۱۳۳۸. ۳ اول دقت کنید که مجموع و حاصل ضرب ریشه‌های معادله اولیه برابر است با:

$$2x^2 - 3x - 4 = 0 \Rightarrow \begin{cases} \alpha + \beta = \frac{3}{2} \\ \alpha\beta = -\frac{4}{2} = -2 \end{cases} \quad (*)$$

مجموع و حاصل ضرب ریشه‌های معادله جدید را پیدا می‌کنیم:

$$S' = \frac{1}{\alpha} + 1 + \frac{1}{\beta} + 1 = \frac{1}{\alpha} + \frac{1}{\beta} + 2 = \frac{\alpha + \beta}{\alpha\beta} + 2$$

$$\xrightarrow{(*)} S' = \frac{\frac{3}{2}}{-2} + 2 = -\frac{3}{4} + 2 = \frac{5}{4}$$

$$P' = \left(\frac{1}{\alpha} + 1\right)\left(\frac{1}{\beta} + 1\right) = \frac{1}{\alpha\beta} + \frac{1}{\alpha} + \frac{1}{\beta} + 1$$

$$= \frac{1}{\alpha\beta} + \left(\frac{\alpha + \beta}{\alpha\beta}\right) + 1 \xrightarrow{(*)} P' = \frac{1}{-2} + \frac{\frac{3}{2}}{-2} + 1$$

$$\Rightarrow P' = -\frac{1}{2} - \frac{3}{4} + 1 = -\frac{1}{4}$$

در نتیجه معادله جدید به صورت زیر است:

$$\frac{x^2 - S'x + P' = 0}{x^2 - \frac{5}{4}x - \frac{1}{4} = 0} \xrightarrow{\times 4} 4x^2 - 5x - 1 = 0$$

۱۳۹. **۱** به گزینه‌ها نگاه کنید. در همه آن‌ها، مجموع ریشه‌ها متمایز است. بنابراین کافی است S' معادله جدید را محاسبه کنیم. اما صبر کنید یک حرکت بزیم تا حل برایمان راحت‌تر شود. در معادله داده شده داریم:

$$x = 5 - x^2 \Rightarrow x^2 + x = 5 \Rightarrow x(x+1) = 5$$

$$\Rightarrow x+1 = \frac{5}{x} \Rightarrow (x+1)^2 = \frac{125}{x^2}$$

چون x_1 و x_2 ریشه‌های معادله هستند بنابراین در این تساوی صدق می‌کنند:

$$(x_1+1)^2 = \frac{125}{x_1^2}, (x_2+1)^2 = \frac{125}{x_2^2}$$

در نتیجه:

$$S' = \frac{1}{(x_1+1)^2} + \frac{1}{(x_2+1)^2} = \frac{1}{\frac{125}{x_1^2}} + \frac{1}{\frac{125}{x_2^2}} \\ = \frac{x_1^2}{125} + \frac{x_2^2}{125} = \frac{x_1^2 + x_2^2}{125} = \frac{S'^2 - 2PS}{125} \quad (*)$$

S و P مجموع و حاصل ضرب ریشه‌های معادله اولیه هستند. پس:

$$x^2 + x - 5 = 0 \Rightarrow S = -1, P = -5$$

$$\xrightarrow{(*)} S' = \frac{(-1)^2 - 2(-5)(-1)}{125} = \frac{-16}{125}$$

با توجه به گزینه‌ها تنها در **۱** مجموع جواب‌ها $\frac{-16}{125}$ است.

۱۴۰. **۱** این‌جا باید S' و P' معادله جدید را محاسبه کنیم. فقط دقت کنید که:

$$x = x^2 - 4 \Rightarrow x^2 - x - 4 = 0 \Rightarrow S = 1, P = -4$$

حالا داریم:

$$S' = x_1^2 + \frac{1}{x_1} + x_2^2 + \frac{1}{x_2} = x_1^2 + x_2^2 + \frac{1}{x_1} + \frac{1}{x_2} \\ = x_1^2 + x_2^2 + \frac{x_2 + x_1}{x_1 x_2} \\ = S^2 - 2PS + \frac{S}{P} = 1 - 2(-4)(1) + \frac{1}{-4} = 13 - \frac{1}{4} = \frac{51}{4} \\ P' = (x_1^2 + \frac{1}{x_1})(x_2^2 + \frac{1}{x_2}) = (x_1 x_2)^2 + \frac{1}{x_1 x_2} + x_1^2 + x_2^2 \\ = P^2 + \frac{1}{P} + S^2 - 2P = (-4)^2 + \frac{1}{-4} + 1 - 2(-4) \\ = -64 - \frac{1}{4} + 9 = -\frac{221}{4}$$

در نهایت با توجه به تساوی $x^2 - S'x + P' = 0$ معادله جدید را می‌نویسیم:

$$\text{معادله جدید} \Rightarrow x^2 - \frac{51}{4}x - \frac{221}{4} = 0$$

$$\xrightarrow{\times 4} 4x^2 - 51x - 221 = 0$$

۱۴۱. **۲** برای محاسبه مقدار k به مجموع ریشه‌های معادله جدید توجه

می‌کنیم (در معادله جدید مجموع ریشه‌ها $-\frac{k}{\lambda}$ است):

$$S' = \alpha^2 \beta + \alpha \beta^2 \Rightarrow \frac{-k}{\lambda} = \alpha \beta (\alpha + \beta) \quad (*)$$

$$2x^2 - 2x = 1 \Rightarrow 2x^2 - 2x - 1 = 0 \Rightarrow \begin{cases} \alpha + \beta = \frac{2}{2} \\ \alpha \beta = -\frac{1}{2} \end{cases}$$

$$\xrightarrow{(*)} -\frac{k}{\lambda} = \frac{2}{2} \left(-\frac{1}{2}\right) \Rightarrow -\frac{k}{\lambda} = -\frac{2}{4} \Rightarrow k = \frac{\lambda}{2}$$

۱۴۲. **۳** روش مجموع و حاصل ضرب جواب‌های معادله اولیه برابر است با:

$$x(\Delta x + 3) = 2 \Rightarrow \Delta x^2 + 3x - 2 = 0$$

$$\Rightarrow \begin{cases} S = \alpha + \beta = -\frac{3}{\Delta} \\ P = \alpha \beta = -\frac{2}{\Delta} \end{cases}$$

برای محاسبه k از مجموع ریشه‌های معادله جدید استفاده می‌کنیم:

$$S' = \frac{1}{\alpha^2} + \frac{1}{\beta^2} \Rightarrow \frac{k}{\Delta} = \frac{\beta^2 + \alpha^2}{\alpha^2 \beta^2} \Rightarrow \frac{k}{\Delta} = \frac{S^2 - 2P}{P^2}$$

$$\Rightarrow \frac{k}{\Delta} = \frac{(-\frac{3}{\Delta})^2 - 2(-\frac{2}{\Delta})}{(-\frac{2}{\Delta})^2} \Rightarrow \frac{k}{\Delta} = \frac{\frac{9}{\Delta^2} + \frac{4}{\Delta}}{\frac{4}{\Delta^2}} = \frac{9 + 4\Delta}{4\Delta} = \frac{29}{4} \Rightarrow k = 29$$

روش **۴** به معادله اولیه نگاه کنید:

$$x(\Delta x + 3) = 2 \Rightarrow \Delta x^2 + 3x - 2 = 0 \xrightarrow{a+c=b} \begin{cases} \alpha = -1 \\ \beta = -\frac{c}{a} = \frac{2}{\Delta} \end{cases}$$

بنابراین ریشه‌های معادله جدید به صورت $\left\{ \frac{1}{(-1)^2} = 1, \frac{1}{\left(\frac{2}{\Delta}\right)^2} = \frac{\Delta^2}{4} \right\}$ هستند.

در نتیجه $x = 1$ در معادله صدق می‌کند: $f(1)^2 - k(1) + 25 = 0 \Rightarrow k = 29$

۱۴۳. **۱** ریشه‌های معادله $x^2 - 2x - 1 = 0$ را α و β در نظر می‌گیریم.

پس $S = 2$ و $P = -1$. ریشه‌های معادله $4x^2 - 12x + m = 0$ از k برابر

مکعب ریشه‌های معادله $x^2 - 2x - 1 = 0$ ، 2 واحد کم‌تر است، پس ریشه‌های

معادله بالا را می‌توانیم به صورت $\{k\alpha^3 - 2, k\beta^3 - 2\}$ در نظر بگیریم. برای

محاسبه m ، نیاز به محاسبه ضرب ریشه‌ها داریم. اما چون k مجهول است، ابتدا

با کمک جمع ریشه‌ها، k را می‌یابیم.

$$\text{مجموع ریشه‌ها: } S' = -\frac{-12}{4} = 3 \Rightarrow k\alpha^3 - 2 + k\beta^3 - 2 = 3$$

$$\Rightarrow k(\alpha^3 + \beta^3) = 7 \Rightarrow k(S^3 - 3PS) = 7$$

$$\xrightarrow{\frac{S=2}{P=-1}} k(8 - 3(-1)(2)) = 7 \Rightarrow k = \frac{1}{2}$$

حالا به سراغ حاصل ضرب ریشه‌ها می‌رویم:

$$P' = \frac{m}{4} \Rightarrow (k\alpha^3 - 2)(k\beta^3 - 2) = \frac{m}{4}$$

$$\Rightarrow k^3(\alpha^3 \beta^3) - 2(k\alpha^3 + k\beta^3) + 4 = \frac{m}{4}$$

$$\Rightarrow k^3 P^3 - 2k(S^3 - 3PS) + 4 = \frac{m}{4}$$

$$\xrightarrow{\frac{k=\frac{1}{2}, S=2}{P=-1}} \frac{1}{4}(-1) - 2\left(\frac{1}{2}\right)(8 + 6) + 4 = \frac{m}{4}$$

$$\Rightarrow -\frac{1}{4} - 14 + 4 = \frac{m}{4} \Rightarrow m = -1 - 56 + 16 = -41$$

۱۴۴. **۳** یکی از ریشه‌های معادله $x = 1$ است؛ پس در معادله صدق می‌کند:

$$a + 1 - 5 + a = 0 \Rightarrow 2a = 4 \Rightarrow a = 2$$

$$\Rightarrow 2x^2 + x^2 - 5x + 2 = 0$$

حالا عبارت $2x^2 + x^2 - 5x + 2 = 0$ را تجزیه می‌کنیم. چون $x = 1$ ریشه

است؛ پس عبارت حتماً بر $x - 1$ بخش پذیر است.

برای تجزیه بدون تقسیم داریم:

$$2x^2 + x^2 - 5x + 2 = (x-1)(2x^2 + bx - 2)$$

ضرب = +2
ضرب = 2x^2

$$bx^2 - 2x^2 = (b-2)x^2 = x^2 \Rightarrow b-2=1 \Rightarrow b=3$$

$$2x^2 + x^2 - 5x + 2 = (x-1)(2x^2 + 3x - 2)$$

پس:

همچنین α و β ریشه‌های $2x^2 + 3x - 2 = 0$ هستند.

$$P = \alpha\beta = -1, S = \alpha + \beta = -\frac{3}{2}$$

$$S \text{ معادله جدید} = \frac{\alpha}{\beta} + \frac{\beta}{\alpha} = \frac{\alpha^2 + \beta^2}{\alpha\beta} = \frac{(\alpha + \beta)^2 - 2\alpha\beta}{\alpha\beta}$$

$$= \frac{S^2 - 2P}{P} = \frac{\frac{9}{4} - 2(-1)}{-1} = -\frac{17}{4}$$

$$-\frac{17}{4} = -\frac{k}{4} \Rightarrow k = 17$$

پس: S معادله جدید برابر $\frac{k}{4}$ است؛

۱۴۵. α و $\beta - 1$ ریشه‌های معادله $x^2 + ax + b = 0$ هستند؛ پس مجموع و حاصل ضرب آن‌ها برابر است با:

$$(I) \begin{cases} \alpha + \beta - 1 = -a \Rightarrow \alpha + \beta = 1 - a \\ \alpha(\beta - 1) = b \end{cases}$$

شبهه حالت (I) داریم:

$$(II) \begin{cases} \alpha - 1 + \beta = 5 \Rightarrow \alpha + \beta = 6 \\ (\alpha - 1)\beta = b + 2 \Rightarrow b = (\alpha - 1)\beta - 2 \end{cases}$$

پس $a = 6 - 1 = 5$ و در نتیجه $b = -5$.

حالا از دو معادله داریم:

$$\Rightarrow \alpha(\beta - 1) = b = (\alpha - 1)\beta - 2 \Rightarrow \alpha\beta - \alpha = \alpha\beta - \beta - 2 \Rightarrow \alpha - \beta = 2$$

$$\xrightarrow{\alpha + \beta = 6} \begin{cases} \alpha - \beta = 2 \\ \alpha + \beta = 6 \end{cases} \Rightarrow \alpha = 4, \beta = 2$$

و بالاخره با جای‌گذاری در معادله دوم (I) داریم: $4(2-1) = b \Rightarrow b = 4$

۱۴۶. P و S معادله اولیه را حساب می‌کنیم:

$$x(3+x) = 5 \xrightarrow{\text{استاندارد}} x^2 + 3x - 5 = 0 \Rightarrow \begin{cases} S = \frac{-b}{a} = -3 \\ P = \frac{c}{a} = -5 \end{cases}$$

$x = \alpha$ ریشه معادله $x(3+x) = 5$ است؛ پس در آن صدق می‌کند:

$$\alpha(3+\alpha) = 5 \Rightarrow 3 + \alpha = \frac{5}{\alpha}$$

پس در $\frac{\alpha}{3+\alpha}$ ، جای مخرج $\frac{5}{\alpha}$ قرار می‌دهیم:

$$\text{ریشه معادله جدید} : \frac{\alpha}{3+\alpha} = \frac{\alpha}{\frac{5}{\alpha}} = \frac{1}{5}\alpha^2$$

ریشه‌های معادله جدیدمان $\frac{1}{5}\alpha^2$ و $\frac{1}{5}\beta^2$ هستند. جمع و ضربشان را حساب می‌کنیم:

$$S \text{ جدید} = \frac{1}{5}\alpha^2 + \frac{1}{5}\beta^2 = \frac{1}{5}(\alpha^2 + \beta^2) = \frac{1}{5}(S^2 - 2P)$$

$$= \frac{1}{5}((3)^2 - 2(-5)) = \frac{19}{5}$$

$$P \text{ جدید} = \left(\frac{1}{5}\alpha^2\right)\left(\frac{1}{5}\beta^2\right) = \frac{1}{25}(\alpha\beta)^2 = \frac{1}{25}P^2 = \frac{1}{25}(-5)^2 = 1$$

حالا معادله جدید را با داشتن P و S جدید می‌نویسیم:

$$x^2 - S \text{ جدید} x + P \text{ جدید} = 0 \Rightarrow x^2 - \frac{19}{5}x + 1 = 0$$

در نهایت معادله بالا را به شکل $x(x+a) = b$ می‌نویسیم:

$$x\left(x - \frac{19}{5}\right) = -1$$

a b

$$a + b = \frac{-19}{5} + (-1) = \frac{-24}{5} = -4/8$$

پس:

۱۴۷. α ریشه معادله $x^2 + 2x - 1 = 0$ است، پس در معادله صدق می‌کند:

$$\alpha^2 + 2\alpha - 1 = 0 \Rightarrow 2\alpha - 1 = -\alpha^2$$

$$\Rightarrow \frac{1}{2\alpha - 1} = -\frac{1}{\alpha^2} \Rightarrow \text{ریشه‌های معادله جدید} : \frac{1}{\alpha^2}, \alpha^2$$

از طرفی اگر α و β ریشه‌های معادله $x^2 + 2x - 1 = 0$ باشند، آن‌گاه:

$$\alpha\beta = \frac{c}{a} = -1 \Rightarrow \beta = -\frac{1}{\alpha} \Rightarrow \beta^2 = \left(-\frac{1}{\alpha}\right)^2 = \frac{1}{\alpha^2} \Rightarrow -\frac{1}{\alpha^2} = -\beta^2$$

$$\Rightarrow \text{ریشه‌های معادله جدید} : -\beta^2, \alpha^2$$

حالا مجموع و حاصل ضرب ریشه‌های معادله جدید را می‌یابیم (دقت کنید که مجموع و حاصل ضرب ریشه‌های معادله $x^2 + 2x - 1 = 0$ به ترتیب $S = -2$ و $P = -1$ است و $\Delta = 8$):

$$\begin{cases} S' = \alpha^2 - \beta^2 = (\alpha - \beta)(\alpha + \beta) \\ \xrightarrow{\alpha > \beta} S' = \left(\frac{\sqrt{\Delta}}{|a|}\right)(S) = \left(\frac{\sqrt{8}}{|1|}\right)(-2) = -4\sqrt{2} \\ P' = (\alpha^2)(-\beta^2) = -P^2 = -1 \end{cases}$$

$$\Rightarrow \text{معادله} : x^2 + 4\sqrt{2}x - 1 = 0$$

۱۴۸. با فرض $x^2 = t$ داریم:

$$\Rightarrow (t-1)(t-8) = 0 \Rightarrow \begin{cases} t=1 \Rightarrow x^2=1 \Rightarrow x=1 \\ t=8 \Rightarrow x^2=8 \Rightarrow x=2\sqrt{2} \end{cases}$$

$$\Rightarrow \text{مجموع ریشه‌ها} = 1 + 2\sqrt{2} = 3$$

۱۴۹. با فرض $x^2 = t$ داریم:

$$\text{معادله} : t^2 - 2t + 1 = 0 \Rightarrow (t-1)^2 = 0 \Rightarrow t = 1$$

$$\xrightarrow{x^2=t} x^2 = 1 \Rightarrow x = \pm 1$$

۱۵۰. با فرض $x^2 - 2x = t$ (*) داریم:

$$\text{معادله} : t^2 - t = 2 \Rightarrow t^2 - t - 2 = 0 \Rightarrow (t-2)(t+1) = 0$$

$$\Rightarrow \begin{cases} t=2 & \xrightarrow{(*)} \begin{cases} x^2 - 2x = 2 \Rightarrow x^2 - 2x - 2 = 0 \\ x^2 - 2x = -1 \Rightarrow x^2 - 2x + 1 = 0 \end{cases} \end{cases}$$

$$\Rightarrow \begin{cases} \Delta > 0 \rightarrow \text{دو ریشه حقیقی دارد.} \\ \Rightarrow (x-1)^2 = 0 \Rightarrow x = 1 \end{cases}$$

$x = 1$ ریشه معادله بالایی نیست، پس معادله در مجموع سه ریشه حقیقی متمایز دارد.

۱۵۱. ۲

$$(x^2 - 1)^2 = x^2 + 5 \Rightarrow x^4 - 2x^2 + 1 = x^2 + 5 \Rightarrow x^4 - 3x^2 - 4 = 0$$

با فرض $x^2 = t$ ، داریم: معادله $t^2 - 3t - 4 = 0$